


الحراسات الاجتماعية
الكويت
والوطن العربي
للسف السابع



kuwait.net
منتديات باكوييت



الوطن العربي
الوطن العربي
الوطن العربي
الوطن العربي
الوطن العربي



المرحلة المتوسطة

الصف الأول

الدراسات الاجتماعية



الكويت والوطن العربي

للف السابع



تأليف

أ. رضا أبو حسين

أ. عادل الشراح

أ. شيخة التركيت

أ. صالح دشستي

الطبعة الاولى

١٤٣٢ - ١٤٣٣ هـ

٢٠١١ / ٢٠١٢ م

حقوق الطبع والتأليف والنشر محفوظة لوزارة التربية - قطاع البحوث التربوية والمنهج
إدارة تطوير المنهج

الطبعة الاولى

١٤٣٢ - ١٤٣٣ هـ

٢٠١١ / ٢٠١٢ م





صاحب السمو الشيخ صباح الأحمد الجابر الصباح
أمير دولة الكويت



سَمُو الشَّيْخِ نَوَافِلِ أَحْمَدَ الْجَابِرِ الصَّبِيحِ
وَلِيَّ عَهْدِ دَوْلَةِ الْكُوَيْتِ



المحتوى

الصفحة

المقدمة

الوحدة الأولى: الوطن العربي مقومات وملامح جغرافية:

١٣

١٤

١٧

١٧

١٧

١٨

٢٠

٢١

٢٢

٢٣

٢٤

٢٤

٢٤

٢٤

٢٧

٢٧

٢٨

٢٨

٢٣

٢٣

٢٤

٢٤

٢٤

٢٤

٢٨

٢٤

٢٥

٢٥

٢٦

٢٦

أولاً - الوطن العربي مقومات وملامح جغرافية

١ - نظرة عامة إلى الوطن العربي بالنسبة للعالم

أ - التعرف على الوطن العربي

ب - دول الوطن العربي

ج - هوية الوطن العربي

٢ - موقع الوطن العربي وحدوده

أ - الموقع المراتبي للوطن العربي

ب - الموقع النسبي للوطن العربي

٣ - أهمية موقع الوطن العربي

أ - الأهمية الجغرافية للوطن العربي

ب - الأهمية الاقتصادية

ج - الأهمية الحضرية والثقافية

ثانياً - ملامح السطح في الوطن العربي:

١ - سواحل السواحل

أ - الجبال والهضاب

ب - السهول في الوطن العربي

ثالثاً - المناخ في الوطن العربي

١ - ما المقصود بالمناخ؟ وما الفرق بين الطقس والمناخ؟

ب - العوامل التي تؤثر في مناخ الوطن العربي

أ - الموقع والنسبة لخط العرض

ب - القرب أو البعد عن المسطحات المائية

٣ - التضاريس

أ - الرياح

رابعاً - النباتات الطبيعية في الوطن العربي:

خاصة الثروة المائية في الوطن العربي:

أ - مياه الأنهار

ب - الأمطار

ج - المياه الجوفية الطبيعية (الآبار العميقة)

د - مياه البحار



الصفحة

الوحدة الثانية: الوطن العربي مهد الحضارات والديانات السماوية،

- ٤٩
٥١
٥٢
٥٤
٥٨
٦٢
٦٢
٦٦
٦٨
٦٩
٧٦
٧٣
٧٤
٧٥
٧٩
٨١
٨٦
٨٦
٨٥
٨٥
٨٦
٩١
٩١
٩٣
٩٣
٩٦
٩٧
١٠١
١٠١

الوحدة الثالثة: الوطن العربي ملامح بشرية واقتصادية،

- ١ - نمو السكان وتوزيعهم في الوطن العربي.
١ - توزيع السكان في الوطن العربي.
٢ - الكثافة السكانية في الوطن العربي.
٣ - النمو السكاني في الوطن العربي.
ب - الموارد الاقتصادية في الوطن العربي.
أولاً: إنتاج الفوسفات.
١ - الإنتاج الزراعي.
٢ - الحبوب الغذائية.
٣ - الفلات الصناعية والتجارية.
٤ - الفواكه والأجوار الممطرة.
ثانياً: الإنتاج الحيواني.
١ - الثروة الرعوية.
٢ - تربية الدواجن والطيور.
٣ - الثروة المأدبة.
ثالثاً: الحظائر والثروة المعدنية.
١ - النفط والغاز الطبيعي.
٢ - المعادن في الوطن العربي.
٣ - المنتجات الاقتصادية الإسلامية.



الصفحة

| | |
|-----|---|
| ١٠٤ | ١ - منظمة الدول المصدرة للبترول (أوبك) . |
| ١٠٥ | ب - منظمة الأقطار العربية المصدرة للبترول (أوابك) . |
| ١٠٦ | رابعا: الإنتاج الصناعي |
| ١٠٨ | • أنواع الصناعة في الوطن العربي: |
| ١٠٨ | ١ - الصناعات الاستخراجية . |
| ١٠٨ | ٢ - الصناعات التحويلية . |
| ١٠٩ | ٣ - الصناعات التجهيلية . |
| ١١٠ | ٤ - الصناعات التجهيزية . |
| ١١٠ | ٥ - الصناعات الحرفية . |
| ١١١ | ٦ - الصناعات الترميمية . |
| ١١٣ | خامسا: النقل والتبادل التجاري. |
| ١١٣ | ١ - النقل |
| ١١٧ | ٢ - التبادل التجاري. |

الوحدة الرابعة ، الوطن العربي قضايا وحديات.

| | |
|-----|--|
| ١١٩ | ١ - المشكلات الأساسية في الوطن العربي . |
| ١٢١ | ١ - المشكلات المرتبطة بالزراعة . |
| ١٢٥ | ٢ - مشاكل استثمار المياه |
| ١٣٠ | ٣ - التلوث البيئي . |
| ١٣٥ | ثانياً: نهج مستقبل عربي أفضل |
| ١٣٥ | ١ - التنمية في الوطن العربي سبل المستقبل أفضل . |
| ١٣١ | أ - التنمية الاقتصادية |
| ١٣٧ | ب - التنمية البشرية |
| ١٣٨ | ج - التنمية المتكاملة |
| ١٣٩ | ٢ - التعاون والتنمية العربي لتحقيق التقدم والتنمية . |
| ١٣٩ | • دور الجامعة العربية في السعي نحو تحقيق التكامل بين الدول العربية . |
| ١٤٠ | • مؤسسات التعاون العربي المشترك . |
| ١٤٢ | • نموذج لتعاون عربي مثمر بين دول ذات انتماء جغرافي |
| ١٤٣ | • دور دولة الكويت في العمل العربي المشترك . |
| ١٤١ | - الملاحق . |
| ١٥٧ | - المراجع . |



نقدم لأبنائنا الأحرار في الصف السابع، كتاب الدراسات الاجتماعية، الكويت والوطن العربي، وفقاً لهيئة التطوير التربوي. وهو كما يتضح من عنوانه يدور حول الوطن والهوية العربية والانتماء للأرض، وسنوقف في صفحاته على وطننا العربي الكبير التي تشكل دولة الكويت جزءاً أساسياً منه. وسندرسه من حيث الموقع والمساحة والمناخ. وتعرف على مكانته الاستراتيجية عالمياً. وداريخياً وحضارياً. وثرواته الطبيعية والبشرية. وأهم المشاكل التي يعاني منها والجهود المبذولة لتحقيق التنمية الشاملة لإعادة المكانة العالمية التي حققتها في العصور السابقة عندما كانت الحضارة العربية الإسلامية تنير ظلام العالم.

وقد نظمنا محتوى الكتاب في صور ووحدة، تضم كل وحدة مجموعة من الدروس. وجاء عرض الوحدات منسجماً مع توجهات التطوير التربوي. حيث تم التركيز على مشاركة المتعلم في العملية التعليمية وتنمية مهارات التفكير والإبداع من خلال الأنشطة المتنوعة التي تنمي معارفهم ومهاراتهم واتجاهاتهم.

إننا نؤمن أن الكمال لله وحده. وأن هذا الكتاب ليس قادراً بما يرد على تحقيق التعلم الفعال. بل لابد للمتعلمين والمعلمين من إثراء معلوماتهم ومعارفهم. ومهاراتهم بالقراءات والأنشطة والأحداث الجارية التي تساعدهم على تحقيق الأهداف المرجوة.

والله ولي التوفيق

المؤلفون

الوحدة الأولى

الوطن العربي مقومات
وملامح جغرافية



- أولاً: الوطن العربي مقومات وملامح جغرافية.
- ثانياً، ملامح السطح في الوطن العربي.
- ثالثاً، المناخ في الوطن العربي .
- رابعاً، النبات الطبيعي في الوطن العربي .
- خامساً، الثروة المائية في الوطن العربي.



الوحدة الأولى

أولاً: الوطن العربي مقومات وملامح جغرافية:

١ - نظرة عامة إلى الوطن العربي بالنسبة للعالم:

١ - التعريف بالوطن العربي:

يطلق مصطلح الوطن العربي على مساحة واسعة من الأرض تمتد ضمن قارتين من أكبر قارات العالم مساحة، ويشغل موقعا متميزاً من خريطة العالم حيث يربط قاراته الكبرى الثلاث.

لاحظ الخريطة شكل (١) وأجب عن الأسئلة التي تليها



شكل (١) خريطة توضح موقع الوطن العربي على خريطة العالم

- في أي القارات يمتد وطننا العربي الكبير؟
- ما اسم القارة المجاورة لقارتي آسيا وأفريقيا؟
- ما موقع الوطن العربي بالنسبة إلى قارات العالم؟
- ما البحار التي تفصل قارة أفريقيا عن القارات المجاورة لها؟
- أين تصل قارة أفريقيا بقارة آسيا؟

ب - دول الوطن العربي:

ادرس الخريطة السياسية للوطن العربي شكل (٢) ولاحظ ما يلي مع إكمال المطلوب:



شكل ٢ الخريطة السياسية للوطن العربي

١ - تتبع على الخريطة الدول العربية في قارة أفريقيا ورتبها من الغرب إلى الشرق ثم دونها في الفراغات التالية؟

جمهورية جزر القمر الاتحادية الإسلامية:
تقع جمهورية جزر القمر خارج نطاق موقع الوطن العربي. حيث تتكون من ثلاث جزر مستقلة تقع شبه ال غرب جزيرة مدغشقر في المحيط الهندي وتمتد جزر القمر بين دائرتي عرض (١١ - ١٣) جنوبا. خط الاستواء عاصمتها موروني. وانضمت إلى الجامعة العربية في عام ١٩٩٢م.

-
-
-
- ٢ - كم عدد الدول العربية في الجناح الإفريقي؟
-
- ٣ - الآن راجع الخريطة (٢) وتعرف على أسماء الدول العربية في قارة آسيا.



- عدد أسماء هذه الدول وفق البيانات في الجدول التالي:

| الدول التي تقع على ساحل البحر المتوسط | دول شبه الجزيرة العربية | أسماء دول أخرى (إن وجدت) |
|---------------------------------------|-------------------------|----------------------------|
| | | |

• اكمل الفراغات التالية:

- الجناح الشرقي من الوطن العربي يكاد ينفصل عن الجناح الغربي من الوطن العربي عن طريق البحر المسمى.....
- أكبر دولة عربية في الجناح الآسيوي تسمى.....، وأكبر دولة عربية هي الجناح الإفريقي دولة تسمى.....

بعد دراستك الخريطة السياسية للوطن العربي وبالاستعانة بالأطلس المدرسي، يمكنك أن تخرج بالحقائق التالية:

- يضم الوطن العربي ٢٢ دولة عربية تتوزع بين قارتي آسيا وأفريقيا.
- مساحات الجانب الأفريقي أكبر من مساحات الجانب الآسيوي.
- تعتبر مساحة الوطن العربي أكبر من قارة أوروبا والولايات المتحدة الأمريكية ويشغل نحو ١٠% من جملة مساحة العالم والتي تبلغ حوالي ١٤ مليون كم^٢.



ج - هوية الوطن العربي:

- مما سبق يتبين لنا أن الوطن العربي يقع في مكان متوسط بين قارات ثلاث هي:

(آسيا - أفريقيا - أوروبا):

● عند النظر إلى خريطة شكل (٢) يمكنك أن تعرف أن وطنك العربي يمتد من المحيط الأطلسي غربا إلى بحر العرب والخليج العربي شرقا. ومن ٢ جنوب خط الاستواء إلى البحر المتوسط شمالا، ويبلغ عدد سكانه حوالي ٢١٨,٣٢١ مليون عربي. حسب تعداد عام ٢٠٠٦.

وفي هذا الامتداد العظيم تعيش مجموعة من الدول التي تتكلم لغة واحدة هي اللغة العربية وهي لغة القرآن الكريم والتي ساهمت في امتزاج (اختلاط) هذه الدول ثقافيا وحضاريا وتاريخيا أي ذات هوية واحدة. وكنت من شوب هذه المنطقة وطنا قوما كبيرا له تراثه وعاداته وتقاليده وقيمته. وترتبط بين أبنائه وحدة الدين واللغة والتراث والأهداف المشتركة. وهذه الهوية التي اجتمعت دول الوطن العربي على امتداده الجغرافي.

مما سبق استخلص أبرز مقومات الهوية العربية:





٢ - موقع الوطن العربي وحدوده:

- يتمتع الوطن العربي بموقع استراتيجي مهم = تجددت أهميته على مر العصور
- ما الصفات الأساسية التي يتميز بها هذا الموقع؟

- لاحظ شكل (٢) وتعرف على الخصائص التالية:



شكل (٢) خريطة توضح الموقع الاستراتيجي واستناد الوطن العربي

والآن اكمل الفراغات التالية:

- ١) يمثل القسم الأكبر من الوطن العربي شمال قارة وقسم منه في الجنوب الغربي من قارة
- ٢) يطل الوطن العربي بمساحته الواسعة على ثلاثة مسطحات مائية * ذات أهمية بالغة للملاحة العالمية. تتمثل في وتتصل بدورها بمديطين من أهم المحيطات التي تمر بها التجارة العالمية هما المحيط والمحيط
- ٣) كما يطل الوطن العربي على ثلاث مضائق بحرية وممر مائي ذات أهمية كبرى عندها؟
أ - ب - ج - د -

القناة: مجرى مائي صناعي ضيق يشق لأغراض الري أو النقل.

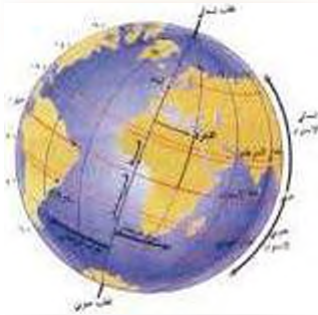
المضيق: ممر مائي ضيق يصل بين بحرين أو محيطين أو أي مساحتين كبيرتين نسبياً من الماء.

* يشق الموقع الاستراتيجي للوطن العربي، أي موقعه المتميز، أهمية كبيرة، وذلك لأنه
* يسيطر على شرايين الحياة العالمية، مثل قناة السويس، المضائق البحرية، الممرات البحرية، وغيرها.
- لذلك، الحياة هي التي التي توجد في مجال الأمن.

١ - الموقع الفلكي لادولن العربي

الموقع الفلكي هو تلمة من الكرة الأرضية يتحدد موقعها بخطوط الطول ودوائر العرض.

• ما المتصود بخطوط الطول ودوائر العرض؟



شكل (١) خطوط الطول ودوائر العرض

رسم العلماء خطوطاً وهمية دلالية وعرضية على مجسم الكرة الأرضية والخرائط. وتُعرف هذه الخطوط باسم «خطوط الطول ودوائر العرض».

خطوط الطول: هي عبارة عن خطوط وهمية تُرسم على الكرة الأرضية. تنصل أو تقسم الكرة الأرضية إلى قسمين شرقي وغربي ويمتد خط جرينتش الخط الفاصل بين القسمين (الشرقي والغربي) ورقمه صفر ويبلغ عددها إلى ٣٦٠.

أما دوائر العرض: عبارة عن خطوط وهمية تُرسم حول الكرة الأرضية وتقسّمها إلى قسمين شمالي وجنوبي والخط الفاصل بين القسمين يُعرف بخط الاستواء ورقمه صفر ويبلغ عدد دوائر العرض ١٨٠.

• أهمية خطوط الطول ودوائر العرض:

خطوط الطول: يمكن بواسطتها معرفة التوقيت الزمني في مختلف جهات العالم.

دوائر العرض: يمكن بواسطتها معرفة احوال مناخ العالم.

لاحظ الشكل رقم (١) وأجب عما يلي:

- ما اسم الدائرة العرضية الرئيسية التي تقسم الكرة الأرضية إلى قسمين متساويين شمالي وجنوبي؟.....
- ١- ما اسم خط الطول الرئيسي الذي يقسم الكرة الأرضية طولياً؟.....
- ٢- كم يبلغ رقمه؟.....
- ٣- ما عدد خطوط الطول التي تقع شرق هذا الخط؟.....



ب - الموقع النسبي للوطن العربي

- الموقع النسبي هو: موقع الدول بالنسبة لليابس والماء .

- انظر إلى الخريطة شكل (٥) ثم استنتج ما يلي:



شكل ٥ : خريطة سياسية للوطن العربي

● إن للوطن العربي حدوداً بحرية وبرية، فيحده من الشمال البحر المتوسط وتركيا، ومن الشرق تحده إيران والخليج العربي، ومن الغرب المحيط الأطلسي، أما من الجنوب فالوطن العربي حدوداً بحرية وبرية طويلة مع عدة دول إفريقية، أذكرها؟

بالاستعانة بخريطة الوطن العربي شكل (٥) اجب ما يلي:

- ١- حدد موقع الوطن العربي بالنسبة لآثارتي آسيا وإفريقيا؟.....
- ٢- حدد موقع بلادك الكويت على الخريطة، هي أي موقع تقع؟.....
- ٣- أين تقع المملكة المغربية بالنسبة لقارة أوروبا؟.....



٣- أهمية موقع الوطن العربي

١) الأهمية الجغرافية للوطن العربي:

• يتحكم موقع الوطن العربي في منافذ التجارة العالمية - عدد ٥

• يتميز الوطن العربي بموقع استراتيجي مهم أكسبه مكانة مهمة بين دول العالم في أوقات السلم والحرب، حيث يشغل مكانا وسطيا بين قارات العالم الثلاث. كما سبق القول. ويطل بمساحته الواسعة على ثلاثة مسطحات مائية ذات أهمية بالغة للملاحة والتجارة العالمية.

ونظرا لأهمية موقع الوطن العربي الاستراتيجي تافست الدول الاستعمارية في الاستيلاء عليه منذ القرن (١٨م) وتقسيمه إلى عدة دول.

قاومت هذه الدول الاستعمار وحضت على استقلالها - ماعدا فلسطين التي حضت بعض أجزائها على الحكم الذاتي ومازالت المشكلة قائمة حتى الآن.

٢) الأهمية الاقتصادية:

• يتمتع الوطن العربي بأهمية اقتصادية كبيرة منذ القدم كمنطقة عبور لحركة الملاحه والتجارة العالمية. وهو الجسر الذي يربط قارات العالم الثلاث (أفريقيا - آسيا - أوروبا) بهواردها الهائلة والضخمة وسكانها الذين يشكلون سكان العالم.

- كما أدى ظهور النفط وكميات كبيرة بمنطقة الخليج العربي وشبه الجزيرة العربية وبعض مناطق شمال أفريقيا إلى تزايد هذه الأهمية.

- وسنعرف بشكل تفصيلي على الأهمية الاقتصادية للوطن العربي في الدروس القادمة.

٣) الأهمية الحضارية والثقافية:

- قامت على أراض الوطن العربي حضارات عديدة، وهبطت على أرضه الديانات السماوية الثلاثة (يهودية - مسيحية - إسلامية) التي انتشرت إلى باقي العالم.



أنشطة وتدريبات

- على خريطة الوطن العربي شكل (٦) أجب عما يلي:



شكل (٦) خريطة توضح الوطن العربي سياسياً والمناطق والقنوات

- أين تقترب قارة أفريقيا من قارة أوروبا؟
- ظلال الدول العربية التي تقع في الجناح الآسيوي ويلون آخر ظلال الدول العربية التي تقع في الجناح الأفريقي.
- إذا فكرت في القيام برحلة برية من بلدك الكويت إلى الجزائر ما هي الدول العربية التي سوف تمر منها:

| الدولة | اسم الجناح (الآسيوي - الأفريقي) |
|--------|-----------------------------------|
| | |
| | |
| | |
| | |

- إذا كنت في جمهورية مصر العربية وأردت السفر إلى المملكة العربية السعودية لأداء مناسك الحج برا فما اسم المسطح المائي الذي سوف تمر عليه؟
- بعد أن تعرفت على أسماء الدول العربية في الجناحين الأفريقي والآسيوي هل تستطيع أن تعدد من الذاكرة أسماء ست دول عربية تنتهي بحرف الون؟

| | | | | | |
|--|--|--|--|--|--|
| | | | | | |
|--|--|--|--|--|--|



• يتكون الوطن العربي من () دولة عربية موزعة على كل من الجناح الآسيوي () دولة والجناح الإفريقي () دولة.
 مثال: - اجمع الأرقام التي تحتوي على أحرف اسم دولة الكويت ثم استنتج عدد الدول العربية:

| | | | | | | | | |
|-------------------|--------|--------|---------|---------|--------|---------|--------|--------|
| ك ٤ | ح ٩ | ت ٥ | ف ١١ | الاجواب | و ٣ | م ٢١ | ي ٥ | ع ٢ |
| عدد الدول العربية | | | | | | | | |

- اذكر الدول العربية الإفريقية المطلة على المحيط الأطلسي؟
- ما أهمية موقع الوطن العربي؟ يكتبني بذكر اثنان فقط

• صنف المسطحات المائية من خلال خريطة (شكل ٦) حسب الجدول التالي:

| بحار | خلجان | هياطات |
|------|-------|--------|
| | | |

- اكمل الفراغات التالية:
- توضح الخريطة شكل (٦) أن الوطن العربي يشرف على عدة مضائق وممرات مائية مهمة منها مضيق باب المندب الذي يقع بين البحر وخليج
- قناة السويس التي تعد شريان الملاحة العالمي الرئيسي وتتحكم في طريق الملاحة العالمية ما بين بحرين وتشرف على هذه القناة دولة تسمى
- المسطح المائي الذي يحد الوطن العربي من الغرب يسمى
- الدولة العربية التي تتكون من مجموعة جزر تسمى



ثانياً: ملامح السطح في الوطن العربي

● مظاهر السطح:

سبق وأن درست خريطة دولة الكويت ومنطقة الخليج، وتعرفت على مظاهر السطح. وأصبحت قادراً الآن على أن تقرأ خريطة سطح الوطن العربي وأن تميز بين الظاهرات الطبيعية التالية:

● لاحظ الصور التالية شكل (٧) ثم اجب عن المطلوب:



شكل توضيحي للحمرة



شكل توضيحي للسهل



شكل توضيحي للسهول



شكل توضيحي للتلال

شكل ٧ : المظاهر التضاريسية في الوطن العربي

من خلال الصور السابقة:

- ميز بين أهم الظاهرات التضاريسية الطبيعية التالية من حيث الصفات:

● الجبال:.....

● الهضاب:.....

● السهول:.....

- بعد أن تعرفت على الصور شكل (٧) فسر مفهوم التضاريس؟

.....

١- الجبال والهضاب

انظر إلى الشكل رقم (٨) وبالإستعانة بالأطلس المدرسي تعرف على أهم الجبال والهضاب في الوطن العربي:



شكل (٨) خريطة توضح الوطن العربي التضاريسية

١- الجبال

تقدّم الجبال " في الوطن العربي إلى عدة أنواع ويمكن توضيحها في المخطط المهمي التالي:



بالرجوع إلى الخريطة شكل (٨)

١- ماذا يمثل اللون البني على الخريطة؟

٢- اذكر أسماء الجبال الواردة في الخريطة؟

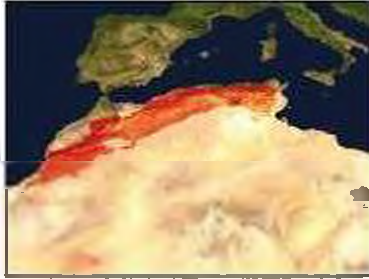
٤- جبل هو كل ما ارتفع من الأرض له قمة لا يقل ارتفاعها عن ١٠٠٠ متر أما الأفض الأرشاع هي تلك الارتفاعات التي مجموعها تلال تشار شكل (١١)



٢- يقع الجبل الأخضر في دولتين عربيتين اذكرهما:

- اكمل الفراغات بالجدول التالي مستعينا في الخريطة شكل (٨):

| جبال الوطن العربي في الجناح الأفريقي | جبال الوطن العربي في الجناح الآسيوي |
|--------------------------------------|-------------------------------------|
| ١- جبال الأطلس في..... | ١- جبال البحر الأحمر ترفع في..... |
| ٢- جبال البحر الأحمر الغربية في..... | ٢- جبال بلاد الشام ترفع في..... |
| ٣- جبال الأحجار في..... | ٣- جبال.....في العراق. |
| ٤- جبال نمشي في..... | ٤- جبل.....في عمان. |
| ٥- جبال هرة في..... | |



شكل ١٠ صورة من الفضاء توضح جبال الأطلس
معددة بالأحمر



شكل ١٩ جبل الشيخ في بلاد الشام



شكل ١٧ صورة توضح أعلى قمة في أوروبا
طوبهال في جبال الألبس.



شكل ١٨ الجبل الأخضر في عمان

ب - الهضاب

تعد الهضاب * أكثر الأشكال التضاريسية انتشاراً في الوطن العربي، إذ تشغل مساحات واسعة تمتد من أقصى الشرق إلى أقصى الغرب فهي تغطي بذلك معظم أرجاء الوطن العربي وتنتسم هضاب الوطن العربي كالآتي:



استعن بالخريطة شكل (٨) وتعرف على أسماء أهم الهضاب في الوطن العربي:

| أهم هضاب الوطن العربي في الجناح الآسيوي | أهم هضاب الوطن العربي في الجناح الأفريقي |
|---|--|
| ١ - هضبة نجد تقع في..... | ١ - هضبة أفريقية الشمالية. |
| ٢ - هضبة بادية الشام تقع في..... و..... والعراق. | ٢ - هضبة..... التي تقع في الجزائر بين جبال أطلس التل واطلس الصحراء. |



شكل ٨: صورة جغرافية تبين مساحة وبنوع الصحراء الكبرى

الهضبة: أرض مرتفعة مملوكة مسخوي، وتمتد على مساحة كبيرة. انظر شكل ٨

٢ - السهول في الوطن العربي

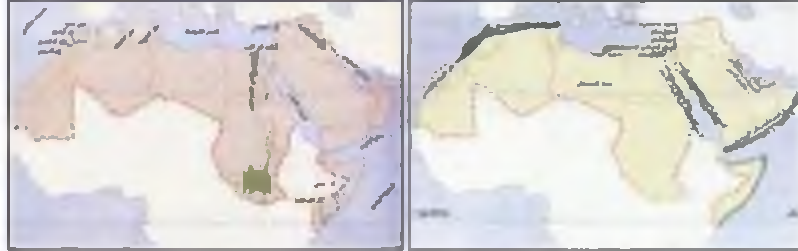
تتوزع السهول * وتتوزع في مختلف أنحاء الوطن العربي، ويمكن أن تميز بشكل عام بين

نوعين رئيسيين من السهول هما :

السهول الفيضية (النهرية)،
هي الأراضي المنخفضة التي تكونت من التربة التي حملتها مياه الأنهار .
السهول الساحلية،
هي الأراضي المنبسطة التي تجاور سواحل البحار والمحيطات.

١- السهول الفيضية (النهرية):

٢- السهول الساحلية



شكل ١٤ : خريطة توضح السهول النهرية في الوطن العربي . شكل ١٥ : خريطة توضح السهول الساحلية في الوطن العربي .

- ما أهم السهول الساحلية في الوطن العربي؟
- ما أهم السهول الفيضية (النهرية) في الوطن العربي؟
- ما الخصائص المميزة لهذه السهول؟ (ناقش مع معلمك)
- وبعد أن تعرفت على السهول الساحلية والنهرية أكمل المطلوب في الجدول التالي :

| سهول الوطن العربي في الجناح الأفريقي | سهول الوطن العربي في الجناح الآسيوي |
|--------------------------------------|-------------------------------------|
| السهول الساحلية: | السهول الساحلية: |
| | |
| السهول النهرية (الفيضية): | السهول النهرية (الفيضية): |
| | |

* السهول: مساحة كبيرة من سطح الأرض تتميز باستوائها وقلّة ارتفاعها، ومنها ما سهل أظرف شكل (٧)



انشطة وتدريبات

١) اكمل الفراغات التالية:

- أ) من اشكال التضاريس في الوطن العربي جبال و.....
ب) أكبر هضبة عربية تقع في الجذاع الأفريقي تسمى.....
ج) من الجبال في الوطن العربي الجبل في عمان وجبال في الجزائر وجبال في المملكة العربية السعودية.

٢- اكتب اسم البوابة امام الظاهرة التضاريسية في الجدول التالي:

| البوابة | الظاهرة التضاريسية |
|---------|--------------------|
| | سهل دجلة والفرات |
| | جبل تيسين |
| | نهر النيل |

٣- عال لما يأتي:

- أ - تعتبر تربة السهول الفيضية من أكثر أنواع التربة الخصبة.
.....
ب - تركز السكان في مناطق السهول الفيضية في الوطن العربي.
.....

٤- أجب عن السؤال التالي:

- أ - ما الفرق بين السهول الساحلية والسهول الفيضية مع ذكر أمثلة عنها في الوطن العربي؟

| اسم السهول | التعرف | أمثلة عن السهول في الوطن العربي |
|-----------------|--------|---------------------------------|
| السهول الساحلية | | |
| السهول الفيضية | | |

نشاهد لاصفي

- راجع في اطلسك بعض المنخفضات، والواحات، والأودية والجبال والهضاب التي تقع في الدول العربية.



ثالثاً: المناخ في الوطن العربي

- ١- ما المقصود بالمناخ؟ وما الفرق بين الطقس والمناخ؟
 إذا قلنا أن الجو اليوم حار نهاراً ومعتدل ليلاً، وإن اتجاه الرياح جنوبية غربية أو شمالية شرقية، فإننا نتحدث عن الطقس خلال هذا اليوم.
 أما إذا تكلمنا عن حالة الجو خلال فصل الصيف أو الشتاء فإننا نتحدث عن المناخ فنقول إن المناخ في دولة الكويت حار جاف صيفاً، وبين معتدل وبارد شتاءً.
 اقرأ نشرة الأحوال الجوية الآتية كما تذاغ خلال أجهزة التذاغ والمذياع وفقاً للحالة الجوية (المتوقعة ليوم محدد) ثم أجب عن الأسئلة التي تليها:

حالة الطقس خلال الأربعة والعشرين ساعة القادمة في دولة الكويت:

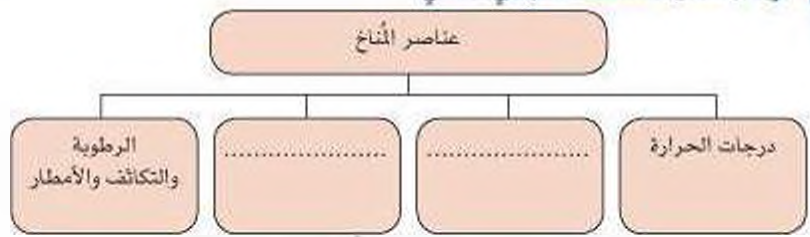
- الطقس ليوم غد غائم نسبياً، حيث تتكاثف الغيوم، وتسقط الأمطار على أنحاء البلاد مع انخفاض ملحوظ في درجات الحرارة.
 الرياح جنوبية غربية نشطة السرعة، والبحر عالي الموج، درجات الحرارة العظمى المتوقعة ليوم غداً ٢٨° والصفوى ١٨° درجة.

- ما الكلمات والتعبيرات المستخدمة لوصف الطقس كما ورد في النشرة؟

- ماذا نستنتج من النشرة السابقة؟ هل حالة الطقس واحدة خلال اليوم الواحد؟ (اشرح)

- استعن بالمعلومات التالية:
- الطقس هو حالة الجو في مكان ما مدة قصيرة تتراوح بين يوم أو عدة أيام من حيث درجة الحرارة والرطوبة والأمطار والضغط الجوي.
- المناخ: هو حالة الجو خلال فترة زمنية طويلة من حيث درجة الحرارة والرطوبة والأمطار والرياح والضغط الجوي.
- الضغط الجوي هو: وزن الهواء فوق أي مكان

- والآن أكمل المخطط السهمي التالي:



ب - العوامل التي تؤثر في مناخ الوطن العربي

١- الموقع بالنسبة لبؤاثر العرض:
يؤثر القرب أو البعد عن خط الاستواء في مناخ الاقليم (المكان)، فالأماكن القريبة من خط الاستواء تتميز بارتفاع في درجة حرارتها على مدار أيام السنة (عال).

٢- القرب أو البعد عن المسطحات المائية:
يؤثر القرب أو البعد عن المسطحات المائية في المناخ. فالمدن الساحلية أكثر اعتدالاً في المناخ صيفاً وادقن نسبياً شتاءً لأن البحر يملأ من درجة حرارتها.

٣- التضاريس:
تؤثر التضاريس في المناخ بصورة مباشرة من ناحية درجة الحرارة وتوزيع كمية الأمطار فعلى سبيل المثال: ترتفع درجة الحرارة في بعض المدن مثل الرياض والقاهرة بينما تنخفض درجة الحرارة في نفس النحل في المناطق المرتفعة مثل جبال سوريا ولبنان والطنائف في السعودية.

٤- الريح:
تؤثر الريح في مناخ دول الوطن العربي من ناحية ارتفاع وانخفاض درجة الحرارة وكمية الأمطار ونسبة الرطوبة. فعلى سبيل المثال إذا كان هبوب الريح يأتي من منطقة باردة سوف تنخفض درجة الحرارة وإذا كان هبوب الريح يأتي من منطقة حارة سوف ترتفع درجة الحرارة.

* الأثير: هي عملة في مكان مثل حواء الدول التي هي سائلة صلبة أو التي هي صلبة سائلة



كذلك إذا مرّت الرياح على بحار محملة ببخار الماء، قد يسبب سقوط الأمطار أو ارتفاع نسبة الرطوبة وإذا كانت تهب من منطقة جافة فإنها لا تستحل بطراً (علل).

والآن تستطيع عزيزي المتعلم التدرّج بين الرياح الشمالية الغربية ورياح الكوس في دولة الكويت.

انظر إلى خرائط الوطن العربي في الشكلين ١٦ . ١٧ لتعرف اتجاهات حركة الرياح الصيفية والشتوية:



شكل ١٦ : خريطة توضح الرياح الصيفية في الوطن العربي

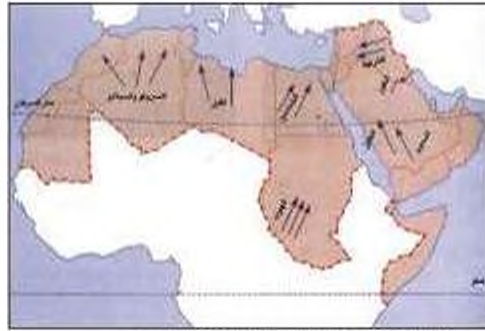
شكل ١٧ : خريطة توضح الرياح الشتوية في الوطن العربي

• ما أسماء الرياح التي تهب على الوطن العربي؟

الإجابة على هذا السؤال لاحظ خريطة الرياح المحلية شكل (١٨) ثم أكمل الجدول

التالي:

| السرعة | اسم الرياح المحلية |
|--------|--------------------|
| | |
| | |
| | |
| | |
| | |



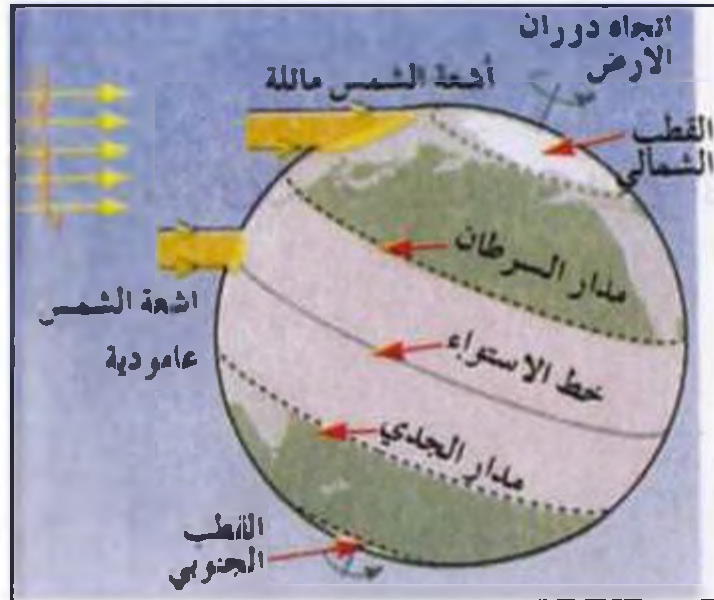
شكل (١٨) خريطة توضح الرياح المحلية في الوطن العربي



لا تنسى المناخ في الوطن العربي:

في فصل الصيف: تكون الشمس عامودية على المنطقة الواقعة بين خط الاستواء ومدار السرطان (انظر شكل ١٩) وترتفع الحرارة أكثر في وسط الوطن العربي (صحراء) وتكون معتدلة على سواحل البحر المتوسط وشمال الوطن العربي.

في فصل الشتاء تكون الشمس عامودية على المنطقة الواقعة على خط الاستواء ومدار الجدي، وترتفع الحرارة في جنوب الوطن العربي وتقل كلما اتجهنا شمالاً.



شكل ١٩ | اشعة الشمس ومناخ الوطن العربي



أنشطة وتدريبات

١- أكمل الفراغات التالية:

١- وصف حالة الجو في مكان ما لمدة قصيرة تتراوح بين يوم أو عدة أيام
يسمى.....

٢- من عناصر المناخ: درجة الحرارة والرياح والضغط الجوي وعنصر آخر
يسمى.....

ب- اجب عن الاسئلة التالية:

١ - هل للمسطحات المائية تأثير في المناخ؟ دال على اجابتك.

.....

٢ - اذكر أهم العوامل التي تؤثر في مناخ الوطن العربي؟

.....

.....

٢ - أهم الرياح المحلية التي تهب على الوطن العربي هي:



٤ - هل تعيش في منطقة منخفضة أم مرتفعة؟ صف درجة الحرارة والأمطار في بلدك

الكويت؟

.....

.....

٥ - اذكر سببين يؤثران في تنوع المناخ في الوطن العربي؟

.....

.....



رابعاً: النباتات الطبيعية في الوطن العربي

بعد دراستك للأحوال المناخية في الوطن العربي تكون قد عرفت ان الحالة النباتية تختلف باختلاف كمية الأمطار ودرجة الحرارة، وتستطيع الآن ان تجيب عن الأتي:

ما العوامل الرئيسية المؤثرة على توزيع النباتات الطبيعي في الوطن العربي؟

العوامل الرئيسية المؤثرة في توزيع النباتات الطبيعي في الوطن العربي

١ - نوع التربة: التربة هي التي تمد النباتات بالغذاء وهي متنوعة.

٢ - المناخ: يؤثر في تنوع النباتات نتيجة لاختلاف درجات الحرارة واختلاف كمية الأمطار ومواسمها.

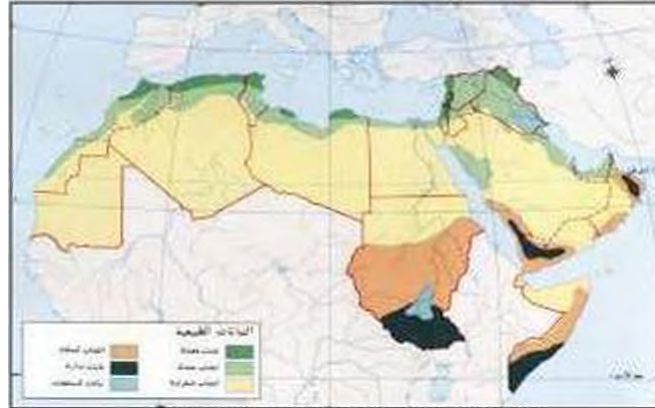
النبات الطبيعي هو ذلك النبات الذي ينمو تلقائياً بسقوط الأمطار دون ان يتدخل الانسان في نموه.

.....
- ماذا نقصد بالنباتات الطبيعية؟ اقرأ المعلومات المجاورة.

.....
- ما أنواع النباتات الطبيعية التي تنمو في أنحاء الوطن العربي؟

.....
- ما أثر تعدد المناخات وأشكال التضاريس في نباتات الوطن العربي؟

التالي:



شكل (٣٠) خريطة توضح توزيع النباتات الطبيعي في الوطن العربي



الحياة النباتية في الوطن العربي



انواع النباتات الطبيعية في الوطن العربي:

١ - الفوايت المدارية (الحارة):

تتمو في أقصى جنوب وجنوب غرب السودان وأقصى جنوب الصومال. وتتمو في المناطق ذات الأمطار الموسمية الصيفية من جنوب غرب شبه الجزيرة العربية ومرتفعات عمان، انظر إلى خريطة شكل (٢٠).



شكل (٢٠) بيئة مدارية

تمتاز أشجارها بضمخامة جذوعها وارتفاعها الكبير ومتشابكة الأغصان وأوراقها العريضة. ومن أهم أشجارها: الساج والاهوجني والتاك والأبوس وهي مورد مهم لصناعة الأخشاب وكذلك أشجار الأثل والسندل والسدر والتمر الهندي والمرو العرقي والجوز والتوت والبشم وتستخدم أخشابها في البناء وصناعة الأثاث.



شكل (٢١) الأرز - الزيتون

٢ - الفوايت المعتدلة:

تتمو في الأجزاء الشمالية والشمالية الغربية من بلاد المغرب العربي (جبال الأطلس) والجزء الغربي من جبال بلاد الشام ومرتفعات شمال وشمال شرق العراق. وتتسم هذه الفوايت بدم كثافتها و بعضها يكون دائم الخضرة والبعض يتساقط في فصل الشتاء. أهم أشجارها الأرز والعرعر والصنوبر الحلبي والذليل الذي يؤخذ من لحاء أشجار



البالوط والستديان في بلاد المغرب كما تنمو أشجار الزيتون والتفاح والحمضيات والفواكه الأخرى البرية. (انظر إلى شكل ٢٢).

٣- الحشائش الحارة (الساافانا): وهي حشائش طويلة تنمو عليها الأشجار، وتنتشر في جنوب ووسط السودان والصومال وجيبوتي وأجزاء من موريتانيا واليمن ويختلف نوع الحشائش الساافانا حسب كميات الأمطار.

٤- حشائش (الاستبس): وهي أعشاب قصيرة نوعا ما ويربى عليها الأغنام والماعز والخيول والأبل والحمير.

وتُعرف في بلاد المغرب باسم حشائش الحلفا الذي تصدره إلى الخارج لصناعة الورق والحبال والحصر وغيرها.

وتنتشر في المغرب والجزائر وتونس وليبيا بالإضافة إلى نموها في مناطق واسعة من سوريا وشمال العراق وإيران وفلسطين المحتلة ومرتفعات عمان وبعض أجزاء اليمن، وتنمو هذه الحشائش شتاء خلال موسم سقوط الأمطار.

٥- نباتات صحراوية (الأعشاب الصحراوية):

وتنتشر في الصحراء الكبرى (شمال قارة أفريقيا) وصحراء الصومال، وفي قارة آسيا شبه الجزيرة العربية وبادية الشام.

الخصائص النباتية: يتاوم النبات في هذه المناطق الجفاف بعدة وسائل منها:

أ- أن تكون ذات جذور طويلة تصل إلى أعماق التربة حيث المياه الباطنية وأشهرها النخيل.

ب- أن تكون لها قدرة على تخزين المياه في بعض أجزائها، وذلك لوقت الحاجة ومن أمثلتها التين الشوكي.

ج- قسم منها يختزن المياه في سيقانه وجذوره كالصبار مثلاً. (شكل ٢٢)

د- بعضها يحمي نفسه بلحاء سميك وأوراق إبرية أو شمعية.



وأهم الحيوانات السائدة في هذه المنطقة: الإبل - الماعز - والضب - والأرانب وأنواع من الطيور كالصقور والبوم والحباري وأنواع من الحشرات كالجراد والقاربان والذئبان كما تكثر الزواحف كالأفاعي والحيوانات القارضة كالنمران والدرر.



شكل (٢٢) | بيوت الحارة السائفة والحيوانية في الصحراء

ينبغي على دول الوطن العربي المحافظة على الذات الطبيعي، وزيادة المساحات المزروعة
المحافظة على البيئة والحفاظ الجمالي.



أنشطة وتدريبات

١- اذكر أسباب تنوع النبات الطبيعي في الوطن العربي:

١ - ب -

٢- ضع علامة (✓) نهاية العبارة الصحيحة وعلامة (X) نهاية العبارة الخاطئة فيما يأتي

١ - يختلف نوع حشائش السافانا حسب كمية الأمطار. ()

ب - تتميز الغابات المعتدلة بأنها دائمة الخضرة. ()

٣ - ما الحيوان الذي يسمى سذينة الصحراء وأي منطقة نباتية يتبع؟

.....

٤ - بين كيف تتكيف بعض النباتات الصحراوية في فصل الجفاف مع ضرب أمثلة على ذلك.

.....

.....

.....

٦ - ما الفرق بين النبات الطبيعي والنبات المزروع؟

.....

٧ - لاحظ العلم الذي أمامك لدولة عربية تقع في الجناح الآسيوي ثم اكتب عن المطلوب:



١ - اذكر اسم هذه الدولة العربية؟.....

ب - ما اسم النبات الموجود في علم هذه الدولة؟.....

٨ - ما دورك في المحافظة على النبات الطبيعي؟.....

.....

.....



قارن بين حشائش السافانا وحشائش الأستبس من حيث:

| التعريف | الاستخدامات إن وجدت | التوزيع الجغرافي (أين تتشرف؟) |
|----------------|---------------------|-------------------------------|
| حشائش السافانا | | |
| حشائش الأستبس | | |

نشاط لاصفي: اجمع صور نباتات وحيوانات تمثل المناطق النباتية الخاصة بوطنك، ثم عرضها على زملائك وعرفهم بما تحويه هذه الصور.



خامساً: الأثورة المائية في الوطن العربي



شكل (٢٤) المشروع الوطني لترسيخ الثقافة

لاحظت في السنوات الأخيرة الاهتمام العالمي بقضية المياه، وعقدت العديد من المؤتمرات لمواجهة المشاكل الخاصة بتدبير المياه، والطلب المتزايد على استثمارات المياه في المجالات المختلفة.

- ما اسم الحملة الكويتية المتطوعة الخاصة بترشيد استهلاك المياه؟

● اقرأ الآية القرآنية الكريمة قال تعالى: ﴿أُولَئِكَ الَّذِينَ كَفَرُوا أَلَّيْلُ السَّمَوَاتِ وَالْأَرْضِ كَانُوا تَوْحًا

تَفَقَّقْنَهَا رَجَعْنَا مِنَ الْمَاءِ كُلِّ شَيْءٍ حَيٍّ أَفَلَا يُرْمَوْنَ ﴿٢٠﴾ سورة الأنبيا .

- ما أهمية المياه في حياة الإنسان؟

- هل المياه في الوطن العربي قليلة أم كثيرة؟ لماذا؟

- بالاستعانة بالصورة الآتية شكل (٢٥) حاول عزيزي المتعلم أن تجيب على السؤال التالي:

- ما مصادر المياه الرئيسية المتوافرة في الوطن العربي؟



شكل (٢٥) يوضح مصادر المياه في الوطن العربي

١ - مباد الأنهار: ادرس الخريطة شكل (٢٦) ثم اجب عن الأسئلة التي تليها:



شكل (٢٦) خريطة توزيع موارد المياه والأنهار والصحراء في الوطن العربي

اذكر أهم الأنهار التي توجد في الوطن العربي ودولها الواقعة فيها؟

مياه الأنهار
من أهم مصادر المياه في الوطن العربي وتتميز بأنها مياه عذبة والنهر مجرى مائي عذب ينحدر على الدوام لينتهي إلى بحر أو إلى نهر آخر أو ينتهي تدريجياً في الصحراء.
الصحراء: مسطح مائي تحمله به اليابسة من جميع الاتجاهات

- أين يصب كل من نهري دجلة والفرات، ونهر النيل؟

- ما البحار التي يطل عليها الوطن العربي؟

ب- الأمطار في الوطن العربي

يتصف المطر في الوطن العربي بالصفات التالية:

- ١ - تذبذب كمية الأمطار بين عام وآخر، كما أنها تستط في أيام معدودة.
- ٢ - الأمطار في الوطن العربي تكاد أن تقتصر على الأطراف الشمالية والأطراف الجنوبية منها.
- ٢ - تتصف الأمطار بأنها قليلة بصفة عامة. ولا يستثنى منها من ذلك سوى المناطق التي تقع من ورائها الجبال كما هو الحال في سواحل المغرب وساحل لبنان.



ج - المياه الجوفية الطبيعية في الوطن العربي (الآبار العميقة)

المياه الجوفية هي المياه التي توجد في جوف الأرض، باطن الأرض.
الأفلاج: الماء الجاري، وهو مجرى صفيح مائي في الأرض.

● ما مصادر المياه الجوفية؟ وأين تتجمع؟

.....
.....

لاحظ أن المياه الجوفية تظهر بأشكال مختلفة من أهمها:

الآبار الجوفية، العيون والينابيع، والأفلاج وتنتشر في مناطق مختلفة في الوطن العربي. وتكثر الآبار الجوفية حيث توجد الواحات التي تنتشر في المناطق الصحراوية.

كيف تساعد المياه الجوفية على استقرار السكان؟

.....
.....

د - مياه البحار

- أي مصدر من المصادر المياه الموضحة في شكل (٢٥) تعتمد عليها دولة الكويت بشكل أساسي كمصدر للمياه؟ ولماذا؟

- ما البحار التي تقوم دول الخليج العربية بتعاليتها؟



شكل (٢٦) مجموعة من الأبراج لتخزين المياه.

يتم الاستعادة من مياه البحار المالحة بعد تحليتها، وهذه الطريقة تتبعها الدول التي تفتقر فيها مصادر المياه مثل: دول الخليج العربية وبعض الدول العربية مثل ليبيا، وللمحافظة على المياه قامت الحكومات بإنشاء السدود على الأنهار والأودية، والتنقيب، والبحث عن المياه في باطن الأراضي العربية.

عدد أسماء محطات تحلية مياه البحر في دولة الكويت؟

.....



أصبحت دولة الكويت تعتمد اعتماداً كاملاً على تحلية مياه البحر منذ بداية ١٩٥٢م مع محطة الشويخ، حيث أنشأت محطات كبيرة للتحلية مياه البحر.

كما تنتشر في الأحساء محطات تحلية ومناطق أخرى من المملكة العربية السعودية. كذلك قطر كمحطة رأس عبود وأبو فنطاس، كما انتشرت في الإمارات العربية المتحدة واستقلت مياه البحر من قبل ليبيا بكميات قليلة.





أنشطة وتدريبات

أ - أكمل الفراغات التالية بكلمات مناسبة مما درسته:

- ١ - من مصادر المياه في الوطن العربي
- ٢ - من أهم الأنهار في الوطن العربي نهرني وفي العراق ونهر في مصر والسودان ونهر في المغرب ونهر في الصومال .
- ٣ - تظهر المياه الجوفية في الوطن العربي بعدة أشكال منها و
- ٤ - تميز معظم الجهات في الوطن العربي ب..... الأمطار .

ب - أجب على الأسئلة التالية:

- ١ - تصور انقطاع الماء عن منزلك لمدة اسبوع ماذا تفعل؟ ومن أين ستأتي أسرتك بالماء؟
.....
.....
- ٢- هل تستطيع أن تذكر جهود دولة الكويت في المحافظة على الثروة المائية؟ (اذكر امثلة)
.....
.....
- ٣- لماذا يرحم السكان في مصر حول نهر النيل؟
.....

نشاط لاصفي:

- ابحث في المصادر الخارجية ثلاثة مقترحات للحفاظ على الثروة المائية في الوطن العربي.

الوحدة الثانية

الوطن العربي مهد
الحضارات والديانات السماوية



- أولاً: الأهمية الحضارية للوطن العربي .
ثانياً: نماذج من الحضارات القديمة في الوطن العربي :
- ١- الحضارة المصرية القديمة.
 - ٢- حضارة بلاد الرافدين .
 - ٣- حضارات شبه الجزيرة العربية .
 - أ- حضارة بلاد اليمن .
 - ب- حضارة نطون (البدرين) .
- ثالثاً: الوطن العربي مهد الديانات السماوية الثلاث .
رابعاً: الحضارة العربية الإسلامية .

أولاً، الأهمية الحضارية للوطن العربي

توفرت في الوطن العربي - كما درست في الفصل الأول من هذا الكتاب - مجموعة من المقومات الجغرافية والطبيعية التي كان لها دور كبير في ازدهار العديد من الحضارات الإنسانية التي استقرت في ربوع الوطن العربي الكبير.

هذه الحضارات بلغت درجة كبيرة من الرفي والتقدم، حيث برعت في الفنون والآداب والعلوم، وتقدمت في مجالات الزراعة والصناعة والتجارة. وتشمل عدة حضارات:

مفهوم الحضارة:

كل ما يطرأ على المجتمع من تقدم و تطور ورفي في جميع نواحي الحياة الدينية والسياسية والاقتصادية والاجتماعية والفكرية.

١ - الحضارة المصرية القديمة.

٢ - حضارة بلاد الرافدين.

٣ - حضارة بلاد الشام.

٤ - حضارة شبه الجزيرة العربية:

١ - حضارة دلمون.

ب- حضارة بلاد اليمن.

وسنكتفي بهذه الوحدة الراسية بدراسة الحضارة المصرية القديمة وحضارة بلاد الرافدين وحضارة شبه الجزيرة العربية.

والم يقف فضل هذا الوطن الكبير على النواحي سائلة الذكر فحسب، بل كان مهداً لظهور الديانات السماوية الثلاث.

ففي صحراء سيناء كانت رسالة موسى، وفي فلسطين نشأ السيد المسيح. وفي مكة المكرمة نشأ سيدنا محمد صلى الله عليه وسلم، ودعا إلى رسالة الإسلام السمحاء، رسالة التوحيد والحق.



شكل ٣٠: المن الإسلامي يعكس عملة الحضارة الإسلامية




شكل ٣١: أحد ملطهور مدنارة بلاد الرافدين



شكل ٣٢: نموذج من الأثر الدرعية



كي تتعرف بعض المعالم الحضارية في الوطن العربي، انظر إلى الشكل (٣١) .



تمثال لآخذ بلوك سوبر

الباب المسمى في البادية السورية

أثار حضارة بلون

الحجر سد غرب

معبد الج سبل

شكل (٣١) صور لبعض المعالم الحضارية في الوطن العربي

• استعن بالصور التي امامك شكل (٣١) لكي تجيب على التالي:

- ١ - الموقع الاستراتيجي.
 - ٢ - توافر مصادر المياه العذبة
 - ٣ - اعتدال المناخ
 - ٤ - توافر الثروات الطبيعية
 - ٥ - توافر المنصر البشري.
- ما مدى توافر هذه العوامل في الوطن العربي؟
ارجع إلى الوحدة الأولى.

- ما أسماء الحضارات التي تركت هذه الأثار ؟

.....

- لماذا استقرت هذه الحضارات في وطننا العربي ؟

.....





شكل (٢٢) خريطة توضح مواقع الحضارات العربية القديمة

أنشطة وتدريبات

- ١ - حدد على خريطة الوطن العربي التي أمامك أماكن الحضارات التالية بوضع رقم كل حضارة في مكانه الصحيح على الخريطة:
 - ١ - الحضارة المصرية القديمة.
 - ٢ - حضارة بلاد الرافدين.
 - ٣ - حضارة بلاد الشام.
 - ٤ - حضارة دجون.
 - ٥ - حضارة جنوب غرب شبه الجزيرة العربية.

- ٢ - اذكر أشهر المعالم الدينية في كل من الدول التالية: (المملكة العربية السعودية - فلسطين)؟

.....

.....

- ٣ - لماذا كان الوطن العربي مركزا للحضارات المختلفة عبر التاريخ؟

.....

.....

- ٤ - ما معنى الحضارة؟

.....

.....

ثانياً: نماذج من الحضارات القديمة في الوطن العربي



شكل (٣٣) تمثال أبو الهول

سنناقول عزيزنا المتعلم اهم الحضارات القديمة التي قامت في وطننا العربي ومنها:

- ١ - الحضارة المصرية القديمة:

تعد الحضارة المصرية من الحضارات القديمة في العالم، والأكثر آثاراً، إذ لا تزال بعض آثارها قائمة حتى وقتنا الحاضر.

وقد كان للعوامل الطبيعية دوراً مهماً في قيام الحضارة المصرية القديمة، وتطورها وحمايتها من الغزوات لسهولة الدفاع عنها، واستقرار سكانها وممارساتهم للأنشطة المختلفة.

استعن بالخريطة شكل (٣٢) ثم اجب عن الآتي:

- ١ - ما العلاقة بين الموقع الجغرافي لمصر وقيام الحضارة الفرعونية القديمة؟
- ٢ - ما أثر العوامل التالية في قيام الحضارة في مصر.
 - أ - نهر النيل
 - ب - المناخ
 - ج - كثافة الصحراء.

من ذلك نستنتج أن هناك عوامل كثيرة ساعدت على قيام الحضارة في مصر منها الموقع الجغرافي لمصر عند ملتقى قارات العالم القديم، وإطلالتها على البحر المتوسط والبحر الأحمر. ونهر النيل الذي ربط بين أجزاء البلاد من الشمال إلى الجنوب، واعتدال المناخ وجفافه. وكثافة الصحراء في شرق مصر وغربها. جعل الحضارة المصرية في أمن وحماية طبيعية، إضافة إلى تنوع الصخور وكثرة المعادن ساعدت المصريين القدماء على زخات التماثيل وبناء المعابد.



شكل (٣٤) نماذج مختلفة من الأنشطة الاقتصادية التي مارسها المصريون القدماء.



أهم مظاهر الحضارة المصرية القديمة:

أدى تنوع العوامل الطبيعية في مصر إلى تنوع وتعدد المظاهر الحضارية ومنها:

أ- الحياة الاقتصادية:

نشأت الحياة الاقتصادية في مصر القديمة بجميع نواحيها، حيث تقدمت الزراعة وتطورت أساليبها، وتنوعت المحاصيل كالتمع والذواكه والكتان، وانتشرت تربية الماشية.

وقد مهرو المصريون القدماء في الصناعة أيضاً وخاصة صناعة الأواني الفخارية والمعدنية والملابس الكتانية والسفن والورق.

ب- المعتقدات الدينية:

اعتقد المصريون القدماء أن الحياة تعود إلى الجسم بعد الموت أي أنهم اعتقدوا في البعث والخلود، وذلك حرصوا على تحنيط جثث موتاهم واهتموا ببناء القبور وإقامة المعابد النخبة للآلهة.



شكل (٢٦) تابوت لأحد الفرعوننة



شكل (٢٥) الملك احماتو، وعادة الشمس



شكل (٢٨) معبد امون رع في الأقصر



شكل (٢٧) مومياء - مومياء



ج- العلوم والفنون:

وقد احرز المصريون التقدم تقدماً كبيراً في مجال العلوم والفنون كذلك والطب والكيمياء والنحيط والنحت والبناء والكتابة التي عرفت عندهم بالكتابة الهيروغليفية انظر الشكل.



شكل (٢٩) الكتابة الهيروغليفية



شكل (١١) هرم سقارة المدرج



شكل (١٢) ابن النحت

هرم سقارة المدرج؛ وهو أول هرم تم بنائه في تاريخ الحضارة المصرية القديمة بشكاه المدرج وهو ينسب إلى الملك زوسر يسمى أيضاً بهرم زوسر .



انشطة وتدريبات

اكمل الفراغات التالية:

تعتبر الأهرامات مظهر من مظاهر الحضارة.....
عرفت الكتابة المصرية القديمة باسم.....

اجب عن التالي:

ما هي العوامل التي ساعدت على قيام الحضارة المصرية القديمة؟

.....
.....
.....

ما الشكل الذي يمثله تمثال أبو الهول؟

.....
.....

عدد الملوم والفنون التي برعوا فيها المصريون القدماء؟

.....
.....

علل ما يلي:

اهتمام المصريون القدماء بتحنيط جثث موتاهم؟

.....
.....

٢ - حضارة بلاد الرافدين

يطلق اسم بلاد الرافدين أو بلاد ما بين النهرين على العراق الحالي (ما اسم النهرين؟)



شكل ١٦ | خريطة توضح المعالم التي قامت في بلاد الرافدين

١ -

٢ -

وتتميز بلاد الرافدين بموقع ممتاز وبخصوبة تربتها ووفرة مياها العذبة، حيث كانت موطناً للعديد من الحضارات القديمة، وقد سيطر على بلاد الرافدين خلال تاريخها القديم خمسة شعوب متتالية أقامت دولاً وحكومات وحضارات على فترات متتالية، وسُميت تلك الحضارات بأسماء المناطق والمدن التي قامت فيها، واشتهرت تلك الحضارات بالتقدم والرفق بما قدمته للإنسانية من إنجازات شأنها في ذلك شأن الحضارة المصرية القديمة.

- أهم الحضارات التي قامت في بلاد الرافدين:

| السومريون | الأكاديون | البابليون | الآشوريون | الكلدانيون |
|---|--|---|--|---|
| هم أقدم شعوب بلاد الرافدين. وسكنوا في جنوب بلاد الرافدين. ومن أشهر مدنها أور. | هم من القبائل السامية. وادّتاغ أميرهم -رجون أن يعدل المدن السومرية ويؤسس عاصمة له سماها أكد. | هم من القبائل السامية. هاجروا من بلاد الشام إلى بلاد الرافدين فبنوا مدينة بابل واتخذوها عاصمة لهم وأشهر ملوكهم حمورابي. | هم من القبائل السامية. استوطنوا المناطق الجبلية في شمال العراق. وعاصمتهم مدينة بابل وأشهر ملوكهم بوخذ نصر. | هم من القبائل السامية التي استوطنت أواسط بلاد الرافدين وعاصمتهم مدينة بابل وأشهر ملوكهم بوخذ نصر. |



– استعن بالثلاثين (٤٢) و (٤٣) ثم أجب عن الأسئلة التالية:
١) ما العوامل التي ساعدت على قيام الحضارة في بلاد الرافدين ؟

٢) اكتب أسماء الحضارات التي قامت في بلاد الرافدين ؟



شكل ٤٢: تلميزة بلاد الرافدين

أهم المظاهر الحضارية في بلاد الرافدين

أولاً: الحياة الاقتصادية:

١) الزراعة: عرف سكان بلاد الرافدين الزراعة بصيغ خصوبة تربتها، وسهولة سقوتها ووفرة مياهها، فأقاموا السدود وشقوا الأنهار وجذبوا المستنقعات واتصلحوا الأراضي.

وكانت الزراعة هي الحرفة الرئيسية عند السومريين والبابليين، بينما اشتهر الآشوريين بالرعي والصيد. (عال ٩)

٢) التجارة: كان لبلاد الرافدين نشاطاً تجارياً مع بلدان الأقاليم المجاورة. حيث استوردوا المعادن والأحجار والأخشاب وصدروا المنتجات الزراعية والمنسوجات وخاصة الصوفية منها.

٣) الصناعة: تنوعت الصناعات في بلاد الرافدين واشتهروا في صناعة الطين والأواني الفخارية وغيرها.

أجب عن التالي:

١) لماذا ازدهرت الزراعة في بلاد الرافدين؟

٢) ابحث في مرجع خارجي عن الدور الذي لعبته بلاد الرافدين في مجال التجارة.



ثانياً: العلوم والفنون:

تطوّرت العلوم لدى سكان بلاد الرافدين، فقد برعوا بالهندسة والحساب والقلك والطب.

ومن أهم الفنون لديهم: فن النحت والبناء والرسم والأواني الخزارية.

دالاً: الحياة الفكرية:

١) اخترع السومريون نوعاً من الكتابة عرفت باسم (الكتابة المسمارية). وتعتبر هذه الكتابة من أقدم أنواع الكتابة في العالم، وحروفها تشبه المسامير، وتكتب على الواح من الطين الطري بواسطة أقلام تشبه المسامير، ثم تعرض الأواح لحرارة الشمس حتى تجف، وعند حروفها ٦٠٠ حرف.



شكل ١٤٤: فن النحت



شكل ١٤٥: الكتابة المسمارية

٢) ظهرت في بلاد الرافدين شرائع قانونية قديمة عدة ومن أهمها شريعة حمورابي، وهو ملك بابل حيث احتوت هذه الشريعة على ٢٨٢ مادة قانونية، اعتمدت مبدأ (السن بالسن والدين بالدين) في تطبيقها. مما أدى إلى انتشار الأمن والأمان في البلاد.



شكل ١٤٦: حمورابي يتلقى الشرائع



شكل ١٤٧: الأواني المصنوعة



انشطة وتدريبات

١) اكمل الفراغات التالية:

- ١ - اخترع السومريون كتابة تعرف باسم.....
 ب - يود عصر الملك..... من أهم المعصور في تاريخ العراق القديم. ومن الأعمال الشهيرة لهذا الملك.....
 ٢) أحب عما يلي:
 أ - من هو حمورابي؟

.....
 ب - ما أهم ما اشتهر به؟

.....
 ج - كم عدد المواد التي تضمنتها شريعة حمورابي؟

.....
 د - ما المبدأ الذي اعتمدت عليه هذه الشريعة؟

.....
 استعن بمصدر خارجي واكتب تقريراً مدعماً بالصورة عن حدائق بابل المعلقة



شكل ٤٨ | حدائق بابل المعلقة



٣ - حضارات شبه الجزيرة العربية

تقع شبه الجزيرة العربية في جنوب غرب قارة آسيا، وتتميز بموقع متميز يربط بين قارات العالم القديم، ويفلح على شبه الجزيرة العربية المناخ الصحراوي الذي أعاق نشوء مراكز لاستقرار السكان، عدا المناطق التي تتوافر فيها مصادر المياه العذبة، كحضارة دلمون وبلاد اليمن، ومن ثم اعتمدت الحياة الاجتماعية والسياسية لسكان وسط شبه الجزيرة العربية على التقتل والترحال من مكان لآخر. (علل ٦)

وتعتبر شبه الجزيرة العربية الموطن الأصلي للجماعات السامية التي هاجر الكثير منها إلى جهة الشمال والشمال الشرقي منها... (علل ٦)

ويرجع إلى هذه الهجرات الفضل في قيام الجانب الأكبر من حضارات الوطن العربي القديم، أعط أمثلة لهذه الحضارات:..... و.....

من الهجرات السامية التي نذرت من شبه الجزيرة العربية:

- العمريون (أين سكاوا٦)
- الكنعانيون (أين سكاوا٦)
- الآراميون (أين سكاوا٦)

استمن بمصادر خارجي وأجسب عن التساؤلات السامية.



شكل ١٢٩ خريطة توضح أهم مراكز الحضارات القديمة في شبه الجزيرة العربية



١ - حضارة جنوب غرب شبه الجزيرة العربية: (بلاد اليمن)

تعتبر منطقة جنوب غرب شبه الجزيرة العربية من أكثر مناطق شبه الجزيرة العربية ملائمة لقيام حضارة، بسبب توافر المياه العذبة والمناخ المناسب لقيام الزراعة. أيضاً الموقع الذي يسمح بقيام النشاط التجاري فيها، وقد تأسست منذ الألف الثالث (ق.م) دويلات عدة على هذه المنطقة، ومن أهمها:



شكل ١٥٠ خريطة توضح أهم الممالك في جنوب اليمن

١) دولة معين: (١٣٠٠ - ٦٥٠ ق.م)
أين تقع دولة معين؟ وما هي عاصمتها؟

٢) دولة سبأ: (٩٥٠ - ١١٥ ق.م)
أين تقع دولة سبأ؟ وما هي أهم مدنها وأهم معالمها؟

٣) دولة حمير: (١١٥ ق.م - ٥٢٥ م)
أين تقع دولة حمير؟ وما هي أهم مدنها؟


عظم شأن سبأ، وأصبحت أشهر ممالك اليمن القديمة. وورد ذكرها في القرآن الكريم. وأشهر ملوكها: الملكة بلقيس.



شكل ١٥١ من آثار سد مارب

المظاهر الحضارية لحضارة جنوب غرب شبه الجزيرة العربية:

اشتهر سكان جنوب غرب شبه الجزيرة العربية بالشاريع الزراعية من خلال تنظيم عملية الري عن طريق بناء السدود والخزانات وأشهرها سد مارب، ومن أشهر المنتجات الزراعية: (الموز - اللبان - القرفة).



شكل ١٥٢ المنجعة من اليمن

أما بالنسبة للتجارة فقد كان أهل اليمن أسياد التجارة العربية، حيث سيطروا على الطرق التجارية، وامتدت تجارتهم بين شمال شبه الجزيرة العربية وجنوبها. وكان هناك تبادل تجاري مع الحضارات المجاورة لها، وخاصة حضارة بلاد مصر القديمة وحضارة بلاد الرافدين وحضارة بلاد الشام، كما عرفوا الأبجدية، وكانت تتألف من ٢٩ حرفاً وكانت تكتب بالخط المسند.



أنشطة وتدريبات

١) اكمل الفراغات التالية:

- ١ - عاصمة دولة معين مدينة اسمها.....
 ب - الخط الذي كانت تكتب به الأجدية في حضارة جنوب غرب شبه الجزيرة العربية هو.....
 ج - يعد حضارة جنوب غرب شبه الجزيرة العربية من جهة الغرب بحر اسمه.....

٢) اختر البديل المناسب:

- ١ - من عوامل قيام الحضارة في شبه جنوب الجزيرة العربية:
 - توافر المياه العذبة. - اعتدال المناخ.
 - خصوبة التربة. - كل ما سبق.
 ب - من أشهر ملوك سبأ ورد ذكرها في القرآن:
 - زنوبيا. - بلقيس.
 - نفرتيقي. - كيلو بقرا.
 ج - من أهم معالم دولة سبأ:
 - سد مأرب. - الأختام.
 - الأهرامات. - المعابد.

٣) أجب على الأسئلة التالية:

- ١ - لماذا اقتصرت ظهور المجتمعات الحضارية على الجزء الجنوبي الغربي من شبه الجزيرة العربية؟

 ب - حدد الخصائص العامة لحضارة اليمن القديمة؟

 ج - علل تميز سكان جنوب غرب شبه الجزيرة العربية في الزراعة؟



ب - حضارة دلمون (البحرين)

قامت دلمون وسط حضارات الشرق القديم، وبحكم موقعها وسط الخليج العربي فقد كانت مركزاً مهماً للمواصلات والتجارة البحرية بين البلدان المطلة على الخليج العربي والحضارات المجاورة لها. اذكر حضارتين من هذه الحضارات:



..... (١)

..... (٢)

ازدهر العمران في دلمون، وتوسع نشاط السكان الاقتصادي، فمارسوا الزراعة وصيد الأسماك والفوس على الأواق. وكانت تسمى قبل الفتح الإسلامي باسم اوال.

اوال: اسم أطلق على البحرين في مرحلة اللفظ الفارسي نسبة إلى صنم اومه اوال. كانت تعبده قبيلة وائل التي حكمت البحرين آنذاك.

كما عرفت دلمون بأنها أرض مقدسة عند الشعوب القديمة، شكل (٥٩) خريطة توسع مملكة البحرين فذد عشر على يقايا أعايد فيها، ومن أهمها معبد بلديار.



شكل (٥٥) معبد بلديار



شكل (٥٦) شعثت حضارة دلمون بصناعة الأختام



أنشطة وتدريبات

١) علل. تترك حضارة دالون مركزاً مهماً للمواصلات البحرية؟

.....

.....

٢) اذكر أهم الأنشطة الاقتصادية لحضارة دالون؟


.....

.....


٣) ما معنى أوال؟

.....

.....



شكل ٥٧ | رأس ثور لبحارة دالون



شكل ٥٦ | بعض الفنون لحضارة دالون



ثالثاً: الوطن العربي مهد الديانات السماوية الثلاث

يعتبر الوطن العربي مهد الديانات السماوية الثلاث التي انتشرت في أنحاء العالم، مما اكسبه مكانة روحية مقدسة. وهي كالتالي:

- ١) الديانة اليهودية: وهي التي نزلت على سيدنا موسى عليه السلام، وكتابتها التوراة.
- ٢) الديانة المسيحية: وهي التي نزلت على سيدنا عيسى بن مريم عليه السلام، وكتابتها الإنجيل. متى ولد السيد المسيح ؟ وأين ؟
- ٣) الديانة الإسلامية: يعتبر الإسلام خدمة الرسالات السماوية جميعاً، ونزول القرآن الكريم على سيدنا محمد صلى الله عليه وسلم عام (٦١٠ ميلادية) في مكة المكرمة. وقد دون على كتاب الوحي، وتكفل الله سبحانه وتعالى بحفظه من التحريف والتغيير. ﴿ إِنَّا هُمْ نَزَّلْنَا الذِّكْرَ وَإِنَّا لَهُ لَنَافِذُونَ ﴾ سورة الحجر - الآية (٩) - متى نزل الوحي على الرسول صلى الله عليه وسلم ؟ وأين ؟



شكل (٥٩) المدينة المنورة



شكل (٥٨) مكة المكرمة

انشطة وتدريبات

- ١) صنف الأسماء التالية في مكانها الصحيح في الجدول التالي:
(الإنجيل - موسى - القرآن الكريم - عيسى - التوراة - محمد)

| الديانة | الكتاب | النبى |
|----------|--------|-------|
| الإسلام | | |
| المسيحية | | |
| اليهودية | | |



رابعاً: الحضارة العربية الإسلامية

قامت الحضارة العربية الإسلامية على الإسلام وتعاليمه، وكان هذا التنظيم الإسلامي

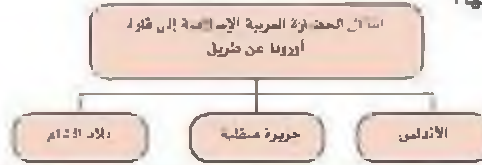


أهم الأسس التي بنيت عليها حضارة العرب في ظل الإسلام، حاضنة في نظامها ومواقفها وما يترتب عليها من نظافة البدن والروح، والصوم والزكاة التي تحقق التكافل الاجتماعي، فضلاً عن مبادئ الإسلام المتمثلة في الشورى والعدل والمساواة، ومع انتشار الإسلام بالفتوحات الإسلامية انتشرت اللغة العربية وأصبحت الرابطة الأساسية التي ربطت أجزاء الدولة بعضها ببعض.

أثر الحضارة العربية الإسلامية في الحضارة الأوروبية: شكل ٦٠ | صورة الأرض للخرابن الأندلسي

قامت في بلاد العرب حضارة مزدهرة وكان لا بد لها من أن تدير أرجاء العالم مثلها في ذلك مثل كل حضارة إنسانية متفوقة، وقد كان للحضارة العربية الإسلامية فضل كبير وأثر واضح في إثراء الحضارة الأوروبية منذ القرن العاشر الميلادي، حيث كانت أوروبا آنذاك تعيش عمسور ظلام وذلك بسبب سيطرة الكنيسة على عقول الناس.

وقد انتقلت الحضارة العربية الإسلامية إلى قارة أوروبا بفضل مراكز الإشعاع التي انتشرت بالقرب منها:



شكل ٦٣ | جامع قرطبة



شكل ٦١ | النقوش الإسلامية

لاحظ الصور السابقة: تمثل جانب من الحضارة الإسلامية التي برع بها العرب المسلمون.



أنشطة وتدريبات

• أجب عن السؤال التالي:

انتقلت الحضارة العربية الإسلامية إلى قارة أوروبا بفضل مراكز الإشعاع، عددها؟

أ -

ب -

ج -

نشاط خارجي:

١- ماذا تعرف عن:

أ- رحلة الشتاء والصيف؟

.....
.....

ب - وظيفة المحتسب في الإسلام؟

.....
.....

٢- عا: عدم ظهور التماثيل وصور الأفراد في فنون العرب؟

.....
.....

٣- اجمع مجموعة من الصور لبعض المساجد والأثار الإسلامية.

استخلص من هذه الصور المعالم الرئيسية للفن الإسلامي.

الوحدة الثالثة

الوطن العربي ملامح
بشرية واقتصادية



أ - نمو السكان وتوزيعهم في الوطن العربي

١ - توزيع السكان في الوطن العربي

٢ - الكثافة السكانية في الوطن العربي

٣ - النمو السكاني في الوطن العربي

ب - الموارد الاقتصادية في الوطن العربي

أولاً: إنتاج الغذاء

١ - الإنتاج الزراعي

٢ - الحبوب الغذائية

٣ - الفلات الصناعية والتجارية

تابع الوحدة الثالثة

٤ - الثواكه والأشجار المثمرة

ثانياً: الإنتاج الحيواني

١ - الثروة الرعوية

٢ - تربية الدواجن والطيور

٣ - الثروة المائية

ثالثاً: الطاقة والثروة المعدنية

١ - النفط والغاز الطبيعي

٢ - التعدين في الوطن العربي

٣ - المنظمات الاقتصادية الإقليمية

١ - منظمة البترول المصدرة للنفط (أوبك)

ب - منظمة الأقطار العربية المصدرة للنفط (أوابك)

رابعاً: الإنتاج الصناعي

• أنواع الصناعة في الوطن العربي:

١ - الصناعات الاستخراجية

٢ - الصناعات المعدنية

٣ - الصناعات التحويلية

٤ - الصناعات التجهيزية

٥ - الصناعات الحرفية

٦ - الصناعات البتروكيمياوية

خامساً: النقل والتبادل التجاري

١- النقل

٢- التبادل التجاري



السكان

١ - نمو السكان وتوزيعهم في الوطن العربي:

درست في الوحدة الأولى من هذا الكتاب أن الوطن العربي يغطي مساحة كبيرة من الأرض ١٠٠ كم تبلغ هذه المساحة ٦

ويتألف من ٢٧ دولة تضم حوالي ٣٢١ و ٢١٨ مليون نسمة تقريبا يتوزعون بنسبة ٧٠٪ في القارة الأفريقية، ٣٠٪ في القارة الآسيوية.

أذن عزيزي المتعلم فانتعرف على نمو وتوزيع السكان في الوطن العربي.

١ - توزيع السكان في الوطن العربي:

تتم دراسة السكان بصورة عامة على الإحصاءات السكانية وأهم هذه الإحصاءات:

١- التعداد السكاني:

تقوم الدولة من حين إلى آخر بإجراء تعداد لسكانها.

نتيجة التعداد تحصل الدولة على معلومات وافية عن أوضاع سكانها: عددهم الإجمالي - عدد كل جنس (ذكور، إناث) أعمارهم وغير ذلك من المعلومات.

يتم تصنيف هذه المعلومات في جداول تسمى الجداول الإحصائية للسكان - أي جمع أعداد السكان - وكل خمس سنوات من العمر تمثل شريحة عمرية.

ب - الإحصاء الحيوي: تسجيل المواليد والوفيات وحالات الزواج والطلاق وتحصل على بياناتها من واقع السجلات الرسمية للدولة.

ابحث: متى أجرى أول تعداد سكاني في الكويت - وما الجهة المسؤولة عن ذلك؟



التوزيع الجغرافي لسكان في الوطن العربي:

يقدّر عدد سكان الوطن العربي بنحو (٣١٨.٢٢١) مليون نسمة حسب إحصائية عام ٢٠٠٦ م موزعة على النحو التالي:

| الرقم | الدولة العربية | المساحة | تقديرات عدد السكان |
|-------|------------------------------|-----------|--------------------|
| ١ | السعودية | ٢.١٥٠.٠٠٠ | ٢٢.٦٧٨ |
| ٢ | العراق | ٤٢٥.٠٥٢ | ٢٨.٨٠٨ |
| ٣ | مصر | ١.٠٠٠.٠٠٠ | ٧١.٢٥٨ |
| ٤ | فلسطين | — | — |
| ٥ | الأردن | ٨٩.٢٤٢ | ٥.٦٠٠ |
| ٦ | لبنان | ١٠.٤٥٢ | ٤.٩١٧ |
| ٧ | الكويت | ١٨.٠٠٠ | ٢.٠٥٢ |
| ٨ | الإمارات | ٨٤.٦٠٠ | ٢.٧٢٩ |
| ٩ | البحرين | ٧٠٧ | ٧٤٦ |
| ١٠ | قطر | ١١.٤٣٧ | ٨٢٨ |
| ١١ | اليمن | ٥٥٥.٠٠٠ | ٢١.٦٥٠ |
| ١٢ | عمان | ٢٠٩.٥٠٠ | ٧.٥٧٧ |
| | مجموع الجناح العربي الأندلسي | ٢.٧٠٧.٠٧٤ | ١١٩.٧٩٦ |

| الرقم | الدولة العربية | المساحة | تقديرات عدد السكان |
|-------|------------------------------|------------|--------------------|
| ١ | مصر | ١.٠٠٠.٠٠٠ | ٧١.٢٥٨ |
| ٢ | السودان | ٢.٥٠٥.٨٠٥ | ٢٦.٢٩٧ |
| ٣ | الجزائر | ٢.٢٨١.٧٤١ | ٢٢.٢٩٧ |
| ٤ | المغرب | ٤١٠.٨٥١ | ٢١.٥٦٧ |
| ٥ | تونس | ١٥٥.٥٦٦ | ١٠.١٢١ |
| ٦ | ليبيا | ١.٧٧٥.٥٠٠ | ٦.٨٤٢ |
| ٧ | الصومال | ٦٢٧.٦٥٧ | ١٠.١٨٢ |
| ٨ | موريتانيا | ١.٠٢٠.٧٠٠ | ٢.٠٥٤ |
| ٩ | جيبوتي | ٩٢.٢٠٠ | ٨١٧ |
| ١٠ | جزر القمر | ٢.١٢٥ | ٧٠٠٠ |
| | مجموع الجناح العربي الأفريقي | ١٠.٤٣٧.١٥٤ | ٢٠٢.٥٢٥ |

دول الجناح العربي الأفريقي

دول الجناح العربي الأندلسي

شكل ١٦٤ | إحصائية تشرح مساحة لدول العربية وتقديرات عدد السكان في عام ٢٠٠٦ م

• ادرس الجدول السابق رقم (٦٣) ثم اجب عن الأسئلة التالية:

١- عدد سكان الوطن العربي في الجناح الأفريقي

.....

٢- أكثر الدول العربية سكاناً

.....

• ملاحظة: الجداول للقراءة فقط باستثناء أكثر وأقل دولة



٢- الدول العربية التي يزيد سكانها عن (٢٠) مليون نسمة

٤- الدول العربية التي يقل سكانها عن (٥) مليون نسمة

٥- قارن بين مساحة كل دولة بعدد سكانها . ماذا تلاحظ ؟

يختلف عدد السكان بين دولة عربية وأخرى اختلافا كبيرا . ويعود هذا التفاوت ليس فقط للمساحة الكلية وإنما للعوامل الطبيعية والبشرية .

● لكي تتعرف على المشكلات الخاصة بتوزيع السكان في الوطن العربي علينا أن ندرس توزيع الكثافة السكانية في دول الوطن العربي

٢- الكثافة السكانية في الوطن العربي :

يقصد بكثافة السكان نسبة عدد السكان الكلي في دولة ما . أو منطقة ما . إلى المساحة المحيطة لهذه الدولة أو المنطقة..... ولكن هذه الكثافة لا تعطي صورة واضحة عن توزيع السكان داخل الدولة . أو المنطقة . أو الإقليم . حيث تعاني بعض الدول وهي مدمتها . جمهورية مصر العربية من سوء توزيع السكان فيها حيث يتركز الناس على مساحة صغيرة جدا من المساحة الكلية بجوار دلتا النيل... الخ

الكثافة السكانية العامة:

عدد السكان الكلي

.....

المساحة المطلقة



• ويمكن تقسيم الوطن العربي الى الأقسام التالية:

- ١- مناطق مرتفعة الكثافة: وتشمل وادي النيل ودلتاه في مصر.
- ما هي الكثافة السكانية لجمهورية مصر العربية ؟ استخدم القاعدة السابقة.
- ٢- مناطق متوسطة الكثافة.
- ٣- مناطق منخفضة الكثافة.
- ٤- مناطق شبه خالية من السكان. علل؟

ما أسباب هذا الاختلاف ؟

لاحظ الصور شكل (٦٤) والمخطط السهمي شكل (٦٥) وتعرف على العوامل المؤثرة في توزيع السكان



١٤٤. تجمع السكان حول مصادر المياه



١٤٥. يصعب العيش في المناطق الحدية



١٤٦. يسهل السكان العيش في المناطق السهلية ذات الأواحي المنبسطة

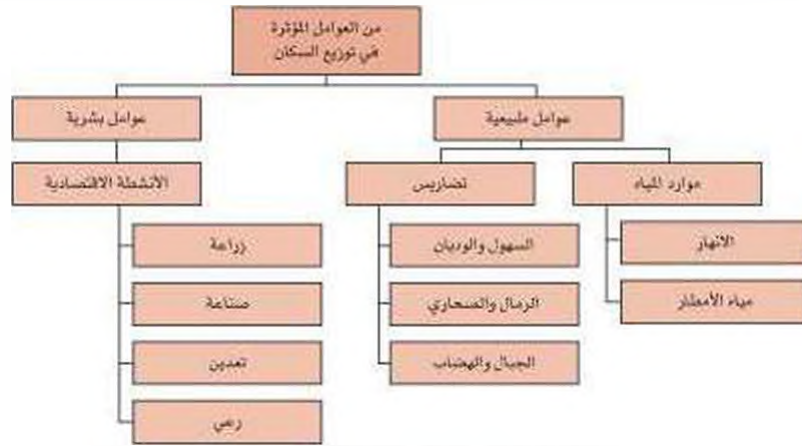


١٤٧. مناطق حالية للسكان

شكل (٦٤)



- ١ - عدد المناطق المناخية التي يقل فيها السكان.
- ٢ - اذكر المناطق التي يجذب إليها السكان والمناطق التي لا يرغب السكان العيش فيها.
- ٣ - لماذا يتجمع السكان بكثرة حول مصادر المياه ؟



شكل ٦٥ : مخطط العوامل المؤثرة في توزيع السكان



● التعرف أكثر على توزيع الكثافة السكانية اقرأ النص وأجب عن الأسئلة التي

تأتيه:

ترتفع الكثافة السكانية في المناطق التي تتمتع بمقومات طبيعية ومناخية ملائمة وثروات طبيعية وطرق مواصلات. وتتناقص الكثافة في المناطق التي لا تتوفر فيها هذه المقومات.

ورغم الصعوبات التي تواجه السكان في بعض أنواع التضاريس. وبفضل التطور العلمي. فقد استطاع الإنسان التغلب عليها والعيش في تلك المناطق فحول الجبال إلى مدرجات وزرعها وشق العديد من الطرقات كذلك استطاع أن يواجه ظروف العيش في الصحراء ويستغل ثرواتها الطبيعية.

● اذكر أسماء مدن ودول نشأت ونمت في الصحراء؟



شكل (٦٦)

الزراعة على المدرجات الجبلية في اليمن

● كيف تغلب الإنسان على صعوبة العيش والزراعة في الجبال؟

● كيف تمكن الإنسان من العيش في الصحراء؟
ما الأسباب؟

● هل استطاع الإنسان أن يتغلب على بعض صعوبات المناخ وسكن المناطق الحارة والباردة. كيف؟

ونستخلص من السابق ما يلي:

- يستقر الإنسان في المناطق التي توفر له إمكانية استغلال مواردها.
- تكبر تجمع السكان يكون حول الأنهار والبحار ومصادر المياه.
- المناخ المتدل عامل جذب السكان.



يتصد والنمو السكاني
تزايد عدد السكان من
عام الأخر نتيجة للزيادة
الطبيعية للسكان (زيادة
معدل المواليد على معدل
الوفيات) والهجرة.

٣- النمو السكاني في الوطن العربي:

يقدر معدل النمو السنوي للسكان في الوطن العربي بحوالي
٢,٣٠ ٪ حسب إحصائيات عام ٢٠٠٦م وهو معدل مرتفع للغاية
إن يفوق المعدل العالمي والذي يقدر بحوالي ١,٧ ٪.
وتختلف هذه الزيادة من دولة إلى أخرى ويتوقف تأثير
هذه الزيادة على مساحة الدولة من جهة ومواردها من جهة
أخرى.

● ماذا يحدث لو: زاد عدد السكان بكثرة عن عدد موارد الدولة الاقتصادية؟

● ارجع إلى الجدول شكل (٦٣) وأجب:

١ - اذكر أسماء (٢) دول عربية لا تتأثر سلبيا بالزيادة السكانية.

.....

٢ - كيف تواجه دولة مثل مصر مشكلة الزيادة السكانية ؟

.....

٢ - لماذا تهتم الدول بمعرفة معدلات النمو ؟

.....



● اللإجابة عن هذا السؤال يجب أن نلقى الضوء على مكونات هذا النمو:

| | |
|--|--|
| <p>الزيادة السكانية نوعان :</p> <p>١- زيادة طبيعية وهي الفرق بين معدل المواليد ومعدل الوفيات.</p> <p>٢- زيادة غير طبيعية هي الزيادة الناتجة عن الهجرة.</p> | <p>الهجرة نوعان :</p> <ul style="list-style-type: none">● هجرة داخلية من القرى الى المدن.● هجرة خارجية من دولة الى دولة اخرى. |
|--|--|

يرجع النمو السكاني بالوطن العربي إلى الزيادة الطبيعية (عدد المواليد) أولا، ثم الهجرة الخارجية (بعد اكتشاف النفط) .

١ - ما أسباب هجرة الأيدي العاملة من دول آسيا إلى بعض دول الوطن العربي.

.....

٢ - ما أسباب هجرة الأيدي العاملة في الدول العربية إلى منطقة الخليج العربية؟

.....

● مما سبق..... فيما يتعلق بتوزيع السكان، والكثافة السكانية، والنمو السكاني في الوطن العربي.

هل يمكننا القول أن:

هناك مشكلة سكانية في الوطن العربي؟ ناقش هذا الموضوع مع معلمك.

| |
|---|
| <p>عمل تعاوني :</p> <p>اقترح مع زملائك في الفصل حلاً للمشكلات السكانية التالية :</p> <p>١ - ارتفاع معدل نمو السكان في بعض دول الوطن العربي.</p> <p>٢ - سوء توزيع السكان بين دول الوطن العربي.</p> |
|---|



ب - الموارد الاقتصادية في الوطن العربي

وهب الله لمنطقتنا العربية ثروات اقتصادية وموارد طبيعية مهمة.
لاحظ الصور شكل (٦٧) واستنتج أهمية هذه الثروات بالنسبة إلى الودان العربي والعالم



ما المحاصيل التي تزرع في المناطق المعتدلة؟



ما أهمية السوق والمجاز الطبيعي في حياتنا؟



ما مزايا تربية الأبقار والماعز؟



ما الصناعات القائمة على مشتقات النفط؟



ما وسائل النقل الحديثة؟



ما مدى تم نشر المياه العذبة للزراعة؟

الموارد البشرية
تلك الموارد التي ترتبط بالسكان من حيث أعدادهم وتوزيعهم ومناسبة أعدادهم لمساحة الأرض التي يستغلونها . كما أنها تشمل مدى استغلال السكان لأواردهم الطبيعية كالتعدين ، والزراعة ، والصناعة . ومد خطوط المواصلات .

الموارد الطبيعية
الثروات التي منحها الله لإقليم ما دون أن يكون الإنسان أي دخل في وجودها - فالثروات المعدنية ، والغابات . والأراضي . والموارد المائية . وموقع الإقليم كلها موارد طبيعية .

وانتبهوا لما على هذه الثروات بشكل أكبر في الصفحات التالية:



اولاً: اذتاج الغذاء

١- الإنتاج الزراعي:

• درست في الوحدة الثانية من هذا الكتاب أن أقدم الحضارات التي عرفها العالم قد نشأت في دلتا النيل وسهول بلاد ما بين النهرين، وكانت الزراعة ركيزتها الأساسية. والزراعة لا تزال حتى يومنا هذا تلعب دوراً أساسياً في اقتصاديات معظم الدول العربية.



شكل ١٦٨: أشكال الزراعة في الوطن العربي

١- ما أهمية القطاع الزراعي في اقتصاد بعض الدول العربية؟
٢- ما هي مقومات الزراعة، وما مدى توافرها في الوطن العربي؟
تحتاج الزراعة: (تربة خصبة، مياه، أيدي عاملة، وآلات)
تتوافر هذه الامكانيات بشكل متفاوت بين الدول العربية.
- اذكر منتجاتاً زراعية هامة في وطنك الكويت

• كي تتعرف على ذلك، ادرس النص التالي ثم اجب عن الاسئلة التي تليه:

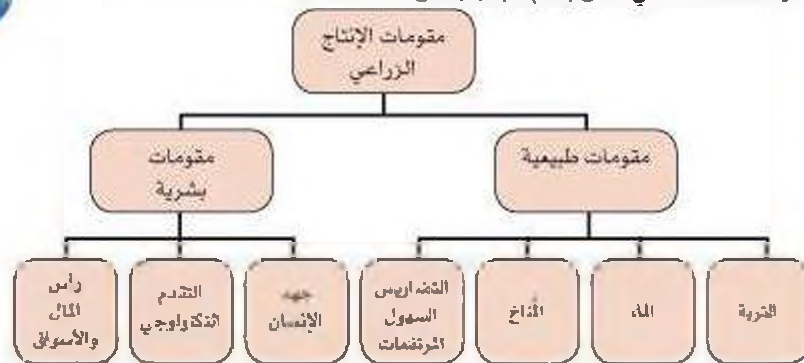
يأتي القطاع الزراعي في المرتبة الأولى من حيث الأهمية في الاقتصاد العربي، خاصة في الأقطار الغيرة منتجة للذئط حيث توفر الغذاء والعمل والمادة الأوتية لكثير من الصناعات القنائية. وتختلف أنواع هذه المنتوجات من دولة عربية الى أخرى بسبب اختلاف المناخ والتربة في هذه الدول ومدى توافر المياه، كما أن إنتاج الوطن العربي من بعض هذه المنتوجات، كالقطن، والزيتون، والصمغ العربي، والحمضيات يصدر إلى الخارج بكميات مناسبة مما يكسب الوطن العربي أهمية كبيرة.

استنتج من النص (٢) فوائد أساسية للنشاط الزراعي في الوطن العربي

.....
.....
.....



اقرأ المخطط التالي شكل (٦٩) ثم أجب عن الأسئلة:



• أكمل الفراغات في العبارات التالية:

- ١ - من العوامل الطبيعية للإنتاج الزراعي التربة و.....
- ٢ - من العوامل البشرية للإنتاج الزراعي توفر..... ورأس المال.....

• ما هي المحاصيل العربية التي تمثل أهمية بالنسبة لدول العالم؟

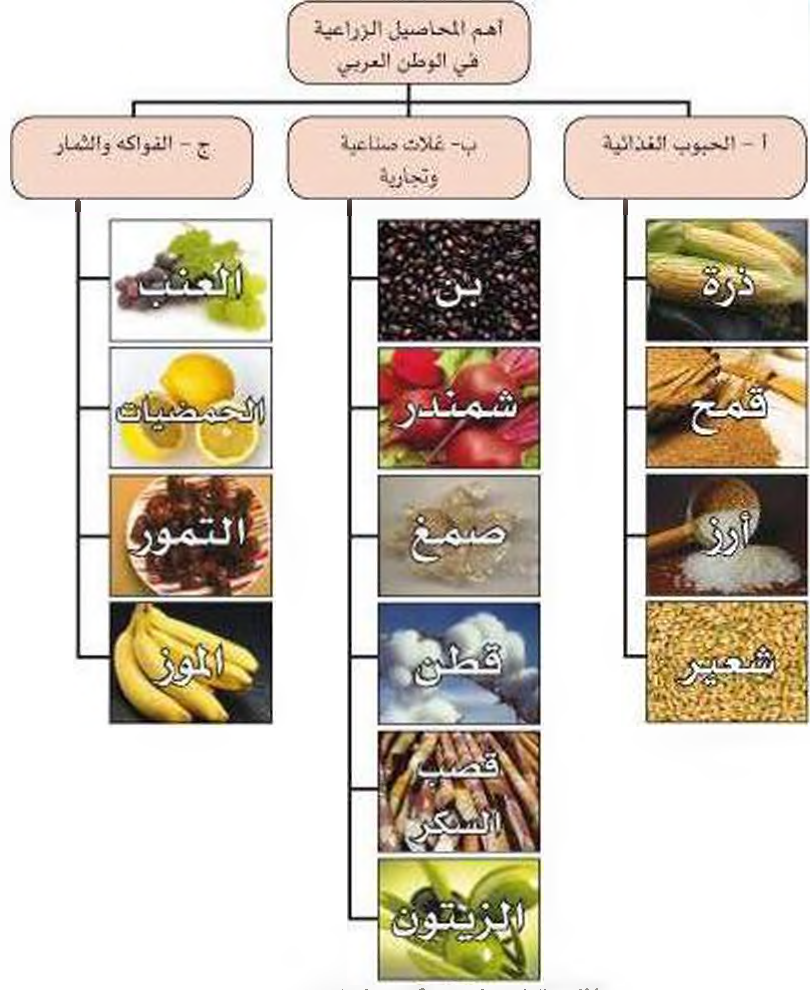
تعرف عزيزي المتعلم على مناطق الزراعة في الوطن العربي. كالتالي:

- ١ - وادي النيل وديلتاه بمصر والسودان.
- ٢ - السهول الساحلية في شمال غرب أفريقيا.
- ٣ - وادي دجلة والفرات في العراق وسوريا.
- ٤ - اليمن وجنوب الجزيرة العربية.

فما مصادر المياه الرئيسية في الوطن العربي؟ (راجع الوحدة الأولى من هذا الكتاب).



- اهم المحاصيل الزراعية في الوطن العربي:



شكل ٧٠: المحاصيل الزراعية في الوطن العربي



٢ - الحبوب الغذائية:

تعتبر الحبوب الغذائية أهم المزروعات في الوطن العربي حيث تشغل مساحة كبيرة من الأراضي المزروعة، وتؤثر كمية الأمطار على إنتاجها من عام إلى آخر، ويأتي في مقدمتها القمح والأرز والذرة.

لاحظ الصور وتعرف عليها:



الذرة في المغرب

الأرز في مصر

القمح في سوريا

● تعرف على الدول التي تحتل المراكز الأولى في الإنتاج.

| الذرة | القمح | الشعير | الذرة (الشامية) | الأرز | الغلة الزراعية |
|--------|----------|---------|-----------------|--------|------------------|
| مصر | مصر | المغرب | مصر | مصر | الدول الغربية |
| العراق | السعودية | سوريا | المغرب | العراق | |
| المغرب | المغرب | الجزائر | السودان | المغرب | |

شكل ١٧١ | الدول الغربية التي تحتل المراكز الأولى في إنتاج الحبوب الغذائية

ما مدى كفاية هذه المحاصيل لسد احتياجات دول الوطن العربي ؟

٣ - الغلات الصناعية والتجارية:

وتشمل الغلات الزراعية التي تدخل في الصناعة، وتزرع بغرض التجارة والحصول على نقد ولذلك تسمى (الغلات النقدية)

لاحظ الصور وتعرف عليها:



زراعة قصب السكر في السودان | زراعة البن في اليمن | زراعة القطن في مصر

تعرّف على الدول التي تحتل المراكز الأولى في الانتاج.

| المنتج الزراعي | الدولة | المرتبة |
|----------------|---------|---------|
| القطن | مصر | 1 |
| البن | اليمن | 1 |
| السكر | مصر | 1 |
| البن | - | 2 |
| البن | السودان | 3 |
| البن | سوريا | 4 |
| البن | السودان | 5 |
| البن | السودان | 6 |
| البن | السودان | 7 |
| البن | السودان | 8 |
| البن | السودان | 9 |
| البن | السودان | 10 |

شكل ١٠٠ | الدول العربية التي تصدر المراكز الأولى من إنتاج البنات النضجة

٤ - الفواكه والاشجار المثمرة:

تتطلب ظروف مناخية خاصة تتركز معظمها في حوض البحر المتوسط وتزرع منها أنواع كثيرة.

لاحظ الصور وتعرف عليها:



زراعة الموز في الصومال | زراعة البرتقال في الأردن | زراعة العنب في سوريا



• تعرّف على الدول التي تحتل المراكز الأولى في الإنتاج.

| الموز | الواحد | تمور | العنب | الفئة الزراعية |
|---------|--------|----------|-----------|----------------|
| الصومال | مصر | السعودية | موريتانيا | الدول العربية |
| — | لبنان | مصر | مصر | |
| — | سوريا | العراق | الجزائر | |

شكل ٧٢: الدول العربية التي تتصدر المراكز الأولى في إنتاج التمور والواحد والأشجار المثمرة



• ما المتكلمات التي تهانى منها الزراعة في الوطن العربي؟ اقرأ الرسوم البيانية ولاحظ الصور



عدم استغلال الأراضي الصالحة للزراعة وذلك للأسباب التالية:

- ١ - نقص موارد المياه.
- ٢ - اعتماد بعض الأراضي الزراعية على مياه الأمطار فتصبح مناطق شبه جافة.
- ٣ - ارتفاع نسبة الملوحة في تربة الواحات والسهول.
- ٤ - اتباع بعض الدول الأساليب التقليدية في الزراعة.
- ٥ - قلة الأيدي العاملة في الزراعة نظرا للهجرة من الريف إلى المدن.



أنشطة وتدريبات

أكمل الفراغات في العبارات التالية:

- ١ - تتنوع المحاصيل الزراعية في الوطن العربي بتنوع.....
- ٢ - تعتمد زراعة المحاصيل الزراعية في الوطن العربي على مياه الأنهار ومياه.....
- ٣ - تتفرد اليمن بزراعة محصول..... والصومال بزراعة محصول..... عن باقي الدول العربية.
- ٤ - تتنافس مصر والسعودية احتلال المركز الأول في زراعة نوع من أنواع الحبوب يعرف باسم.....
- ٥ - يطلق اسم الفلات الصناعية والتجارية على محصول قصب السكر و.....

عل:

- تركز زراعة الحمضيات والمواالح في حوض البحر المتوسط.
-
- انتشار زراعة النخيل بكثرة في السعودية.
-
- تفوق مصر في زراعة القطن عالمياً.
-

أكمل الجدول التالي:

| الدولة العربية | اشهر المحاصيل الزراعية |
|----------------|------------------------|
| السودان | |
| سوريا | |
| العراق | |



ابحث عن مفهوم كل من:

● الزراعة التقليدية والزراعة الحديثة.

.....
.....
.....

● ما أهمية الزراعة في حياتنا.

.....
.....
.....



ثانياً: الإنتاج الحيواني

يمتلك الوطن العربي أعداداً متنوعة من الثروة الحيوانية التي تساهم في موارد الدخل لكثير من الدول العربية. وهي ذروة هائلة للزيادة والنمو إذا ما تدخل الإنسان بعلمه واجتهاده ووسائله الحديثة لرعايتها وتنظيم استقلالها وتحسين أنواعها وإعداد الغذاء الكافي لها.

وتربي هذه الحيوانات في المراعي وبعضها في الأراضي الزراعية.



مزارع تربية النواحي



مزارع تربية الأبقار

١- الثروة الرعوية:

استعن بما درست في الوحدة الأولى من هذا الكتاب وأجب عن الأسئلة التالية:

١ - أين تمتد مناطق حشائش السافانا (المراعي الحارة) في الوطن العربي؟

٢ - أين توجد المراعي المعتدلة في الوطن العربي (الإستبس)؟

انظر للصورة شكل (٧٤) يمتلك الوطن العربي أنواع كثيرة من الثروة الرعوية



الأبقار



الماعز



الأغنام



الإبل

شكل (٧٤) يوضح أنواع الثروة الرعوية في الوطن العربي

● ما أهمية هذه الثروة في حياتنا؟



- كم يبلغ إنتاج الوطن العربي من هذه الثروة؟

| القطر | الغنم | الماعز | الإبل |
|-------|--------|--------|-------|
| ٤٥ | ١١٦.٦٦ | ٦٤ | ٤٩ |

شكل (٧٥) نصيب الوطن العربي من الثروة الرعوية (مصدر مليون رأس)

ادرس الجدول رقم (٧٦) وأجب عن الأسئلة:

| الرقم | القطر | نسبة الإنتاج | الماعز | نسبة الإنتاج | الابقار | نسبة الإنتاج | الإبل | نسبة الإنتاج |
|-------|---------|--------------|---------|--------------|---------|--------------|---------|--------------|
| ١ | المغرب | ١٥.٧ | ص.م | ٤.٨ | السودان | ٢٢ | الصومال | ٦.٦ |
| ٢ | السودان | ١٨.٥ | المغرب | ٥.٨ | مصر | ٦.٧ | البحرين | ٠.٨٥٠ |
| ٣ | العراق | ٩.٢ | السودان | ١٤.٥ | المغرب | ٣.٣ | السودان | ٢.٨ |

شكل (٧٦) يوضح جدول أعداد الثروة الرعوية (مليون رأس)

١- ما الدول التي تصدر المراكز الأولى فيما تملكه من الثروة الرعوية؟

٢- عال: امتلاك الصومال ٦.٦% من ثروة الوطن العربي من الإبل.

● تحتل الأغنام العربية مكاناً مهماً ضمن الثروة الرعوية ويرجع ذلك للأسباب التالية:



- ١- الأكثر إنتشاراً في المراعى العربية.
- ٢- أكثر الحيوانات المستأنسة ملائمة لمراعى الوطن العربي وتحملها الجفاف والانتقال.
- ٣- أهمية منتجاتها بالنسبة للسكان.
- ٤- مصدر أساسي من مصادر الثروة القومية.



٢- تربية الدواجن والطيور

تنتشر تربية الدواجن والطيور في جميع الأقطار (دول) العربية ويكفي الإنتاج فيها حاجة السكان المحلية في معظم الدول.



١ - ما العوامل التي ساعدت على انتشار مزارع الدواجن في الوطن العربي؟

٢ - ما أهم المشكلات التي واجهت تربية الدواجن في السنوات الأخيرة وكيف يمكن تداريها.

٣- الثروة المائية

دول الوطن العربي دولا بحرية لها سواحل مسطحات مائية واسعة منها المالحة ومنها العذبة، لذلك تنوع الثروة المائية في الوطن العربي.

لاحظ الصورة



شكل ٧٧١: مزارع الأسماك النهرية بمصر

- عدد أسماء بعض الأسماك في مياه الخليج العربية؟

.....

.....



اقرأ الجدول التالي ثم اجيب:

| الرقم | الدولة | الإنتاج | الرقم | الدولة | الإنتاج |
|-------|-----------|---------|-------|----------|---------|
| ١ | اليمن | ٢٣٢,٠ | ٥ | لبنان | ١٠٤,٢ |
| ٢ | مصر | ٨٦٨,٧ | ٦ | الهند | ١٣٨,٢ |
| ٣ | موريتانيا | ٨٢٧,٨ | ٧ | إيران | ١٥١,٦ |
| ٤ | المغرب | ٩٦١,١ | ٨ | الإمارات | ١٠٤,٧ |

١ - رتب الدول الخمس الأولى في كمية الإنتاج ترتيباً تنازلياً.

٢ - عدد ثلاث دول عربية تحتل المراكز الأولى في الإنتاج.

٣ - علل: مساهمة المغرب بأكثر من ثلث الإنتاج العربي من الأسماك.

شكل ١ (٧٨) الإنتاج السمكي في بعض دول الوطن العربي

- ثروات مائية أخرى: لاحظ الصور التالية:



شكل (٧٨) ثروات المائية

١- ما أهميتها اقتصادياً ؟



النشطة وتدرجات

● صمم مع زملائك مجلة حائطية اجمع فيها صوراً تمثل الثروة الحيوانية في الوطن العربي مع ذكر أهميتها ومناطق تواجدها .

● ابحث عن:

١ - اسباب تدوير الإنتاج السمكي في مياه الخليج العربي خلال السنوات الحالية .

.....

.....

٢ - الأساليب الحديثة التي اتبعتها بعض الدول العربية لزيادة إنتاجها من الثروة الزراعية والحيوانية رغم صعوبة الظروف الطبيعية

.....

.....

٢ - كيف يمكن تنمية الثروة السمكية؟

.....

.....

.....



ثالثاً: الطاقة والثروة المعدنية

يمتلك الوطن العربي ثروة معدنية كبيرة لها أهميتها محلياً وعالمياً حيث يفتح الحديد من الخامات المعدنية ومصادر الطاقة الأساسية لقيام الصناعة بكافة أنواعها.

لاحظ الصور



الصناعات القائمة على معدن الحديد؟



كيف يتم عملية استخراج الحديد؟



ما مصدر الطاقة الحديدية؟



ما أهمية معدن الحديد في الصناعة؟

- ماذا نستفيد من هذه الثروة المعدنية؟

.....

- أين توجد (من أين تستخرج؟)

.....



النفط، بآلياتها الطبيعية على هيئة
زبائنات وحيوانات دقيقة ترسبت
في عصور قديمة وانطمرت تحت
زواجب سمكية وتحولت بالضغط
والحرارة إلى صورتها الحالية.

الغاز الطبيعي: غاز مصاحب
للنفط الخام أو يتواجد منفرداً يتم
استخراجه لاستخدامات عديدة.

الطاقة: هوى محرك الآلات
وخاصة مهم للتقدم والتطور
الاقتصادي في جميع المجالات.

١- النفط والغاز الطبيعي:

يعد النفط والغاز الطبيعي من أهم مصادر الطاقة التي
تقوم عليها صناعات مهمة لا غنى عنها في حياتنا، فهما
بالنسبة لاقتصاد الدول العربية:



١- قوة محرك الآلات والصناعات.

٢- مصدر لرؤوس الأموال.

٣- مادة خام للعديد من الصناعات المهمة.

٤- أساس لمشروعات التنمية وال عمران.

لاحظ الصور



معمل النفط والغاز



تكرير النفط



استخراج النفط



حقل بحري



صهاريج نفطية

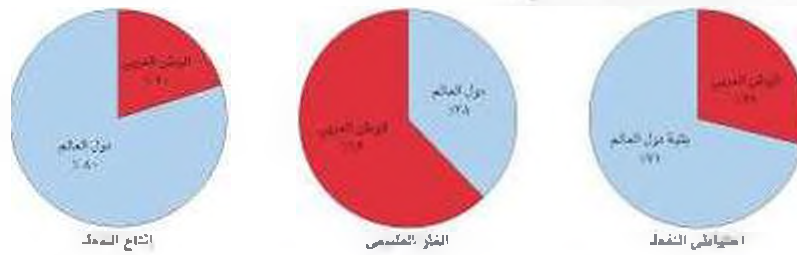


استخراج الغاز الطبيعي



● يأتي وطننا العربي في المراكز الأولى في مجال إنتاج النفط واحتياطيه والغاز الطبيعي على المستوى العالم.

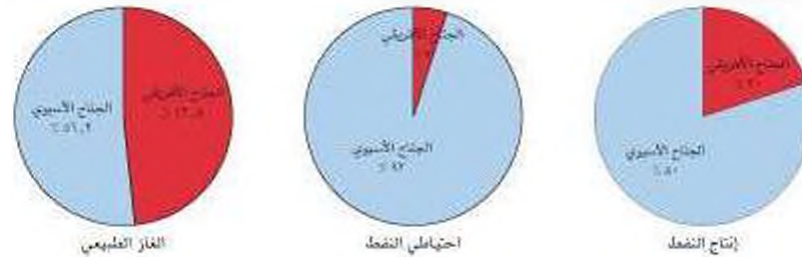
لاحظ الرسومات البيانية التالية



تتركز معظم الحقول النفطية في ثلاث مناطق رئيسية:

- دول الخليج العربية وسهول دجلة والفرات (إنتاجها يوازي ٨٠٪).
- منطقة الشمال الصدارة الكبرى (إنتاجها يوازي ١٨٪).
- منطقة خليج السويس (إنتاجها يوازي ٤,٧٪).

● يتدفق الجناح الآسيوي في الوطن العربي على الجناح الإفريقي في إنتاج النفط واحتياطيه والغاز الطبيعي.



| الرقم | الدول العربية | إنتاج النفط | احتياطي النفط | احتياطي الغاز الطبيعي |
|-------|---------------|-------------|---------------|-----------------------|
| ١ | الإمارات | ٥٩١ | ٩٧,٨٠ | ٦,٠٥٢ |
| ٢ | السعودية | ١٨١ | ٢٠,١٣ | ٩٢ |
| ٣ | نوفس | ٦٥ | ١,٤٠ | ٧٨ |
| ٤ | الجزائر | ١,٢٤٥ | ١٧,٢٧ | ٤,٥٤٦ |
| ٥ | السعودية | ٩,٢٠٨ | ٢٦٤,٢٥ | ٧,٦٥٢ |
| ٦ | سوريا | ٤٦٢ | ٤,٠٠ | ٣١٠ |
| ٧ | العراق | ٩,٩١٥ | ١١٥,٠٠ | ٤,١٧٠ |
| ٨ | قطر | ٨٧٠ | ١٥,٠١ | ٢٥,٧٩٢ |
| ٩ | الكويت | ٢,٦٤٤ | ١٠١,٥٠ | ١,٥٤٩ |
| ١٠ | ليبيا | ١,٧٠٠ | ٤١,٤٦ | ١,٤٩١ |
| ١١ | مصر | ٦٣٤ | ٤,٧٢ | ١,٩٤٢ |
| ١٢ | السودان | ٢٩٥ | ٥,٠٠ | ٨٦ |
| ١٣ | عمان | ٧٢٨ | ٥,٤٠ | ٨٥٦ |
| ١٤ | اليمن | ٤١٤ | ٤,٠٠ | ٥٧٤ |

شكل ٨٠: إنتاج دول الوطن العربي - إحصاء ٢٠١٦ - المصدر: بومبا

تصدر الدول العربية معظم إنتاجها من النفط والغاز الطبيعي إلى خارج الوطن العربي.

كيف يتم تصدير النفط؟ لاحظ الصور واستدج الإجابة ثم اكتبها أسفل الصور





اهمية النفط العربي

يتمتع النفط العربي بمكانة مهمة على المستوى العالمي نظرا لاهميته للدول الصناعية المتقدمة في أوروبا واليابان والولايات المتحدة ويرجع ذلك الاسباب التالية:

- ١ - ضخامة الإنتاج وتزايدده باستمرار .
- ٢ - الموقع الاستراتيجي احقول النفط وقربها من الأسواق .
- ٣ - انخفاض تكلفة انتاج البرميل الواحد .
- ٤ - ارتفاع نسبة احتراقى النفط واستهلاكه في دوله .

اقرأ النذرة ولاحظ الصور :

● يطلق على الغاز الطبيعي اسم الطاقة النظيفة لآ لا ينتج عن احتراقه ظهور الملوثات التي تنتج عن احتراق الوقود النفطية لذلك يدخل في استخدامات عديدة .

● يتفوق الغاز الطبيعي على النفط لحدوثه من عدة الكبريت والرصاص مما يؤدي الى عدم حاجته الى عمليات التكرير التي يتطلبها تعدين النفط .



الصناعات البتروكيميائية



نويد الكهرباء



الامعمال للزلى



لحلية المياه



٢- التعدين في الوطن العربي

يملك الوطن العربي مجموعة من المادن المهمة تتفاوت كميات إنتاجها من دولة لأخرى.

انظر للصورة:



معادن الزنك

معادن البوتاسات

معادن الحديد

معادن النحاس

١- أين تتوزع تلك المادن؟

٢- كم تبلغ نسب إنتاجها عالمياً؟

● اقرأ الخريطة ثم اكمل المطلوب:



شكل ١: خريطة توضح التعدين في دول الوطن العربي



| الدول المنتجة | | المعدن | | |
|---------------|----------|----------|----------|--------|
| | | الفوسفات | | |
| | | الحديد | | |
| | | النحاس | | |
| | | الرصااص | | |
| النحاس | المنجنيز | الرصااص | الفوسفات | الحديد |
| ٪٠,١٢ | ٪٢,٢ | ٪٦,٦ | ٪٢٥ | ٪١,٢ |

شكل (٨٢) نسب إنتاج الوطن العربي بالنسبة للعالم

تشغل موريتانيا المرتبة الاولى في إنتاج معدن الحديد حيث تساهم بنسبة ٦٨ ٪ من إنتاج الوطن العربي.
تصدر المغرب المراكز الأولى في ما تملكه من معدن الفوسفات والنحاس والرصاص والمنجنيز.

- ابحاث عن معادن أخرى ذميمة يمتلكها الوطن العربي -



أنشطة وتدريبات

ضع علامة (✓) أو (X) على يمين كل عبارة وصحح العبارة الخطأ إن وجد:

- ١- () يعتبر الغاز الطبيعي من مصادر الطاقة الأساسية في الوطن العربي.
- ٢- () تحتزن أراضي الوديان العربي ٩٠% من الاحتياطين العالمي.
- ٣- () ينتج النفط العربي في جميع دول الوطن العربي.
- ٤- () معظم إنتاج الوطن العربي من النفط يأتي من منطقة شمال الصحراء الكبرى.
- ٥- () تعتبر السعودية من أكثر دول الوطن العربي إنتاجاً واحتياطاً للنفط العربي.

اجب عن الاسئلة التالية:

١ - بماذا يمتاز النفط العربي؟

.....

٢ - ما الدول الأكثر استيراداً للنفط العربي؟

.....

٣ - ما أثر العائدات النفطية على اقتصاد العربي بوجه عام والخليجي بوجه خاص؟

.....

عال: يطلق على الغاز الطبيعي بالطاقة النظيفة.

.....

نشاط لاصفي:

١ - عدد أسماء الحقول والموانئ النفطية في منطقة الخليج العربية والبحر الأحمر والبحر المتوسط.

.....

.....

.....



٣ - المنظمات الاقتصادية الإقليمية

أ- منظمة الدول المصدرة للنفط (أوبك)

ب- منظمة الأقطار العربية المصدرة للنفط (أوابك)

مع زيادة الإنتاج النفطى واحتكار الشركات العالمية المستقلة للنفط إنتاجه ونقله وتكريره وحفظها على حقوق الدول المصدرة للنفط تم التفكير في إنشاء منظمات عربية وعالمية تكفل ذلك.

نذكر على تلك المنظمات:

| | |
|---|--|
| أ - منظمة الدول المصدرة للنفط (أوبك) | |
|---|--|

● منظمة الأقطار المصدرة للنفط هي منظمة عالمية تعتمد على صادراتها النفطية اعتمادا كبيرا لتحقيق مداخلها. وقد تأسست في بغداد عام ١٩٦٠ من خمس دول هي الكويت،



مقر منظمة الدول المصدرة للنفط في فيينا

السعودية، العراق، إيران، فنزويلا واتخذت حاليا من فيينا مقرا لها.

١ - ما عدد دول الأعضاء في المنظمة؟

٢ - ما أهدافها؟

● تضم منظمة الأوبك حاليا أحد عشر دولة بعد انسحاب كل من الغابون وأندونيسيا والأعضاء الحاليون هم:

نيجيريا - الجزائر - إيران - العراق - الكويت - السعودية - قطر - الإمارات - الأكوادور - فنزويلا - أنغولا

- هل هنالك أعضاء جدد؟ ابحث عن ذلك



ممثل دولة قطر في إحدى اجتماعات المنظمة

● تحرص المنظمة على استقرار أسعار النفط في الأسواق العالمية (هدفها الأساسي) من خلال اجتماعات المنظمة والتي تعمل من خلال الأجهزة التالية

١- المؤتمر

٢- مجلس المحافظين

٣- الأمانة العامة



ب - منظمة الدول العربية المصدرة للنفط (أوبك)



أنشأت منظمة الدول العربية المصدرة للنفط (أوبك) باتفاقية أبرمت في عام ١٩٦٨ بين كل من الكويت والسعودية وليبيا وإثيق على أن تكون الكويت مقرا للمنظمة.

- ١ - ما عدد دول الأعضاء في المنظمة؟
- ٢ - ما أهدافها

تضم منظمة الأوبك حالياً أحد عشر دولة هم:

السعودية - الإمارات - البحرين - تونس - الجزائر - سوريا - العراق - قطر - الكويت - ليبيا - مصر .



مقر المنظمة العربية للدول المصدرة
للنفط في الكويت

ويعد إنشائها إنجازاً مهماً نظراً لحاجة الدول العربية المنتجة للنفط إلى تسيق التعاون فيما بينها في مختلف أوجه النشاط الاقتصادي في صناعة النفط وتأمين وصول النفط إلى الأسواق الاستهلاكية بشروط وأسعار عادلة .



أحد دول الكويت من إحدى اجتماعات
منظمة الأوبك

ومنظمة الأوبك تسهم في تطوير الصناعات البترولية في جميع المجالات وتبادل الخبرات ولها علاقات تعاون مع منظمة الأوبك نظراً لوجود سبعة من أعضائها .

اجهزتها المنظمة:

- ١ - المجلس الوزاري
- ٢ - المكتب التنفيذي
- ٣ - الأمانة العامة

بالتعاون مع زملائك: أعد تقريراً حول إنجازات إحدى المنظمات



رابعاً: الإنتاج الصناعي

في المنزل، في الشارع وفي المدرسة نستخدم أدوات وآلات متنوعة هالكتفاز وانغاز والأثاث والمنفوشات والسيارة وغيرها كلها مصنوعة من خامات متعددة تم تصنيعها كي نستخدمها أو نستهلكها لتسهل علينا حياتنا.

لاحظ الصور وتعرف على نماذج من الأنشطة الصناعية.



مؤسسة صناعية - صناعة النسيج



مؤسسة صناعية - صناعة الخشب

شكل ٨٢ | مؤسسة صناعية تعمل بمعدات وأيدي عاملة ومواد خام لإنتاج سلع متنوعة

كيف تتم عمالية التصنيع ؟



١- عرف المفاهيم التالية:

.....: صناعة

.....: مؤسسة

.....: سوق



١ - كيف تعمل المؤسسة الصناعية؟

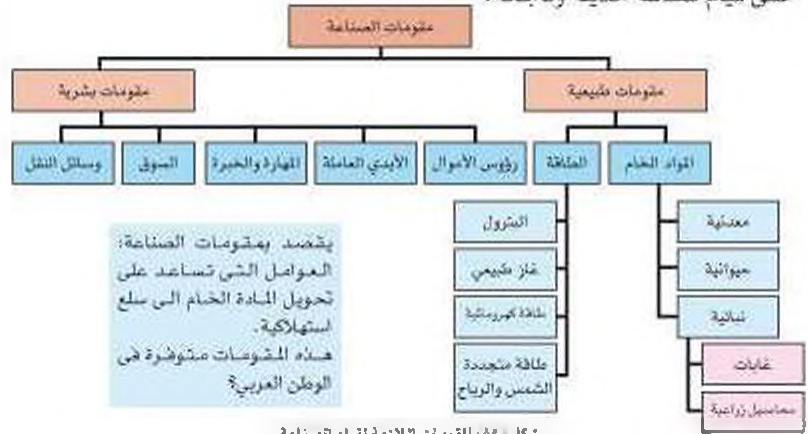
٢ - من يعمل فيها؟

٣- ما أهمية الصناعة في الوطن العربي؟

٤- ما العوامل الطبيعية والبشرية المؤثرة في قيام الصناعة؟

● شهدت معظم دول الوطن العربي حركة نهوض وتطور كبير نحو الصناعة الحديثة باعتبارها من الأنشطة الاقتصادية التي تهيئ الدخل القومي وتساعد على توفير فرص العمل واستغلال المواد الخام المختلفة.

- تقوم الصناعة على مجموعة من المقومات الطبيعية والبشرية الأساسية التي تساعد على قيام صناعة حديثة وناجحة.



شكل ٨٤ | المقومات اللازمة لقيام الصناعة

انواع الصناعة في الوطن العربي

١- الصناعات الاستخراجية:




استخراج النفط

وتتصدر قذوف على استخراج مصادر الطاقة كالفحم والغاز والنفط وخامات المعادن والأملاح وغيرها من باطن الأرض. وإعدادها لتصبح جاهزة للتصنيع.

- هل توجد في جميع دول الوطن العربي صناعات استخراجية مهمة؟ وأين تتركز؟

٢- الصناعات التعميرية:



صناعة سلع الحديد

وتهدف الى تنقية الخامات المعدنية وتحويلها الى صناديق أو سبائك صالحة لتغذية صناعات معدنية مختلفة. فبعد استخراج خامات الحديد والزنكاس مثلاً يتم فصل كل معدن عن المواد الأخرى فنحصل على سبائك أو صنائع من الحديد أو الزنكاس تمثل مادة أولية لصناعة الآلات والامدادات والمهارات.

- بماذا ترتبط الصناعات التعميرية؟

هل توجد في كل البلدان العربية؟

- ما أهم الدول؟



صناعة سلع الحديد



٣- الصناعات التحويلية:

وهي تقوم على تحويل المواد الأولية من معدنية، نباتية، وحيوانية إلى سلع استهلاكية صالحة للاستعمال، حيث تؤمن حاجات الإنسان من مسكن وغذاء وألباس وأدوات وآلات وتشمل:

الصناعات الغذائية - صناعة المنسوجات - صناعة الخشب والورق - صناعة مشتقات النفط المكررة - الصناعات البتروكيمياوية - الصناعات الإنشائية.

لاحظ الصور شكل (٨٥) وتعرف على أهم أنواع الصناعات التحويلية:

صناعات تحويلية غذائية:



صناعة الخبز



صناعة الألبان

صناعات تحويلية كيميائية:



صناعة أدوات التنظيف



صناعة الأصباغ

صناعات تحويلية أخرى:



صناعة الورق



صناعة الملابس



٤- الصناعات التجميعية:

هي عملية تركيب وجمع المواد المصنعة ،
على اختلاف مصادرها كي نحصل على سلعة
متنوعة .



صناعة تجميع قطع السيارات

٥- الصناعات الحرفية:

تعتبر هذه الصناعات الأولى في العالم ، وتستخدم مواد أولية محلية وتعتمد على
الجهود البشري، وتختص بعض المهن بإحتراف بعض منها حيث يتوارث فيها الأبناء
الخبرة عن آباءهم

(اعطي أمثلة)



صناعة الكوس



صناعة الفخار



صناعة الشورت



صناعة النسيج

شكّل ٨٦ : الصناعات الحرفية في دول الوطن العربي



٦- الصناعات البتر وكيم اووية:

يستخرج الوطن العربي كميات كبيرة من النفط والغاز (كما عرفت في الدرس السابق) يستخدم قسم كبير منها في صناعات بتر وكيم اووية متعددة.
- عدد مشتقات النفط.

- سمي بعض الصناعات البتر وكيم اووية التي تقوم عليها

لاحظ انصهر وتعرف الى بعض انواع الصناعات البتر وكيم اووية:



صناعة الاسمنت



صناعة الأسمدة



صناعة انابيب البلاستيك

شكل (٨٧) بعض الصناعات البتر وكيم اووية

| | |
|--|--|
| <p>اهداف الصناعة البتر وكيم اووية:</p> <ul style="list-style-type: none"> • تنوع مصادر الدخل للدولة المنتجة . • توفير المواد الأولية للصناعات البتر وكيم اووية لتأمين حاجات المنظمات الاستهلاكية (خاصة مجال البناء). • تدوير الصناعة في الوطن العربي حيث تحتاج الصناعات البتر وكيم اووية التي تنتجها متخصصة وعالية. | <p>١- ما الصناعات البتر وكيم اووية التي تقوم على المعز الطبيعي؟</p> <p>٢- اين تتركز صناعة البتر وكيم اووية في الوطن العربي؟</p> <p>٣- سمي بعض الصناعات البتر وكيم اووية التي تتركز على صناعة البتر وكيم اووية؟</p> <p>٤- ما أهمية الصناعات البتر وكيم اووية؟</p> |
|--|--|



أنشطة وتدريبات

● أكمل الفراغات التالية:

- ١ - الصناعة هي تحويل المواد الخام من
 - ٢ - لقيام صناعة ناجحة لابد من توافر المقومات..... و.....
- صنف الصناعات حسب أنواعها في الجدول التالي:
(تعبئة الفواكه والخضار - الآثاث - استخراج المعادن - زجاج - نسجه صوفيه - قطع الأخشاب - إسمنت - صيد الأسماك - الرخام - زيوت وبلاستيك - صهر الحديد)

| صناعات تحويلية | صناعات إستخراجية |
|----------------|------------------|
| | |

- اكتب في الجدول أهم الصناعات القائمة في الدول التالية:

| الدولة المرادة | الصناعات |
|----------------|----------|
| مصر | |
| الأردن | |
| السعودية | |
| الإفرب | |
| الكويت | |
| الجزائر | |

اكتب اسم الخام المعدني الذي يدخل في تصنيع كل منتج من المنتجات في الجدول الآتي:

| المنتج الصناعي | الخام المعدني |
|-----------------|---------------|
| الأسمدة | |
| مواد البناء | |
| المعادن الحثرية | |

- ما الصناعات التي تقوم على الأحصيل الزراعية في الوطن العربي؟

.....



خامساً: النقل والتبادل التجاري

١- النقل

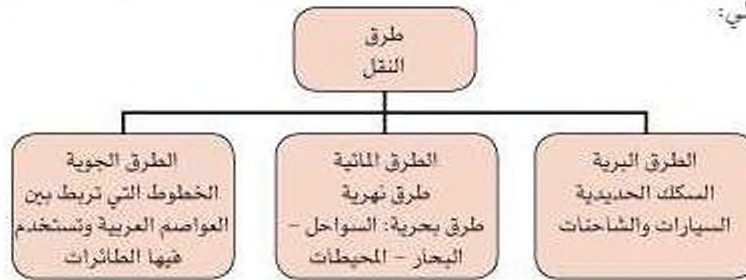


وسائل النقل متنوعة

تعد وسائل النقل والمواصلات من المقومات الأساسية التي تسهم في استغلال ووفرة الموارد الاقتصادية فالتبادل التجاري ودرجه نشاطه يعتمد على مدى توافر وسهولة سبل النقل ووسائله البرية، الجوية، البحرية.

- ما انواع طرق المواصلات التي تربط الدول العربية؟

للإجابة عن مثل هذا السؤال ادرس المخطط السهمي، والنص التابع له على النحو التالي:



يعتمد النشاط الاقتصادي والتبادل التجاري بين الدول العربية على وجود وسائل نقل متعددة من خطوط المواصلات التي تربط مناطق الإنتاج بالأسواق، ولقد اهتمت الدول العربية اهتماما كبيرا بتحديث شبكة المواصلات والاتصالات ومدت الجسور الطرقات تحقيقا لتطلعاتها المستقبلية.



طرق النقل البرية:

تشتمل على طرق السكك الحديدية (القطارات)، السيارات والشاحنات



سكة حديدية في مصر

يمتلك الوطن العربي سكة حديدية قليلة منفصلة عن بعضها البعض تسهم في نقل البضائع بكميات قليلة إذا ما قورنت بوسائل النقل الأخرى مثل السيارات والشاحنات التي تحتل أهمية كبرى في البلاد العربية.



نقل البضائع من سوريا

١ - ما الدول العربية التي تتوافر لديها سكك حديدية؟

٢ - ما الطرق المهمة لمرور السيارات والشاحنات بين الدول العربية؟

٣ - ما نوع البضائع التي تنقل براً بين دول الوطن العربي؟

٤ - علل: ضرورة نقل البضائع بوسائل حديثة ومتطورة؟



طرق النقل المائية:

وتشتمل على طرق النقل المائي بواسطة الأنهار وطرق النقل المائي الخارجي في البحار والمحيطات.

١- النقل النهري:

يقتصر على نهر النيل في مصر والسودان ونهر دجلة والفرات بالعراق.

علل: يختلف نشاط حركة الملاحة النهرية في مصر والسودان عنها في نهري دجلة والفرات.



النقل النهري في مياه النهر المتوسط

٢- النقل البحري:

يتمتع الوطن العربي بسواحل وموانئ بحرية طويلة ساعدت على إنشاء العديد من الموانئ التجارية والنقلية.

- عدد ثلاثة من الموانئ التجارية في الوطن العربي (استمن الاطلس)

طرق النقل الجوية:

تعتبر من الوسائل السريعة التي ربطت بين الأقطار العربية برحلات جوية من أقصى الغرب إلى أقصى الشرق.

- عدد أسماء ثلاثة من العواصم العربية تتواجد بها مطارات دولية.



النقل الجوي



أنشطه وتطبيقات

- استعن بالأطلس المدرسي لحل السؤال التالي:

توجهت باخرة محملة بالنفط من مدينة الظهران بالسعودية إلى مدينة الدار البيضاء في المغرب عن طريق البحر الأحمر.

• ما الموانئ البحرية التي يمكن أن تمر بها أثناء الرحلة.

.....

.....

.....

- عدل:

١ - قلل حجم النقل النهري بالنسبة لباقي وسائل النقل في الوطن العربي

.....

٢ - الطرق البرية أكثر انتشاراً من السكك الحديدية

.....

٣ - اهتمام الدول العربية بتحديث شبكة المواصلات

.....



٢- التبادل التجاري

- يقصد بالتبادل التجاري عمليتي التصدير والاستيراد بين الدول.
- هناك علاقات تجارية بين كافة الدول العربية حجمها وقيدتها محدودة
- ما السلع التي يتم استيرادها أو تصديرها بين الدول العربية ؟

| |
|--|
| <p>الصادرات:</p> <ul style="list-style-type: none"> - السلع التي تنقل من دولة إلى دولة أخرى. <p>الواردات:</p> <ul style="list-style-type: none"> - السلع التي تشتريها الدولة من الخارج لسد احتياجاتها. |
| <p>التجارة البينية:</p> <p>التبادل التجاري بين الدول العربية.</p> <ul style="list-style-type: none"> ● تشكل نسبة ضئيلة مقارنة مع التجارة الخارجية |

● لاحظ الرسوم البيانية شكل (٨٨) ثم أجب:



١ - الأسواق التي تحتل المكانة الأولى بالنسبة لتجارة الواردات العربية هي.....



أسواق عربية

٢ - الأسواق التي تحتل المكانة الأولى بالنسبة لتجارة الصادرات العربية هي.....

٣ - نسبة الصادرات بين الدول العربية..... ونسبة الواردات.....



انشطة وتدريبات

١ - أجب عن التالي:

١ - ا - الفرق بين مذهب الصادرات والواردات *

.....

٢ - علل:

١ - قلة التبادل التجاري بين دول الوطن العربي.

.....

ب - معظم صادرات دول الخليج العربية من النفط الخام.

.....

٢ - سجل في كراسة النشاط الاضني اسماء بعض أنواع السلع المستوردة من بلاد اجنبية، واخرى واردة من بلاد عربية ؟

٤ - ضع علامة (✓) أو (X) على يمين العبارة، وصحح العبارات الخاطئة:

● () تتميز التجارة العربية بحجمها الكبير بين دول الوطن العربي.

● () تتألف معظم الواردات العربية من السلع الانتاجية.

● () تعتبر السلع العربية سلع مصنوعة.

٥- افترح وسيلة لتنمية التجارة بين الدول العربية ؟

.....

.....

الوحدة الرابعة

الوطن العربي
قضايا وتحديات



أولاً : المشكلات الأساسية في الوطن العربي

١ - المشكلات المرتبطة بالزراعة.

٢ - مشاكل استثمار المياه.

٣ - التلوث البيئي.

ثانياً : نحو مستقبل عربي أفضل :

١ - التنمية في الوطن العربي سبيلنا لمستقبل أفضل.

أ - التنمية الاقتصادية.

ب - التنمية البشرية.

تابع الوحدة الرابعة

ج - التنمية المستدامة.

٢ - التعاون والتضامن العربي لتحقيق التقدم والتنمية.

- دور الجامعة العربية في السعي نحو تحقيق التكامل بين الدول العربية.
- مؤسسات التعاون العربي المشترك.
- نموذج تعاون عربي مشترك بين دول ذات انتماء جغرافي
- دور دولة الكويت في العمل العربي المشترك





الوطن العربي قضايا وتحديات



شكل ١٩: تصور واضح للمشاكل المرتبطة بالزراعة

أولاً: المشكلات الأساسية في الوطن العربي بعد أن تعرفت في الوحدة السابقة على ثروات الوطن العربي، وأن هذه الثروات لا تستغل على الوجه الأمثل بما يحقق الاكتفاء والرفاه والازدهار الكفء أبناء الوطن العربي.

ستتعرف في هذه الوحدة على التحديات والمشاكل الاقتصادية والبيئية التي تواجه دول الوطن العربي، والسياسات والخطط التي تم اتخاذها لمواجهة هذه التحديات.

١- المشكلات المرتبطة بالزراعة

تعد الزراعة في الوطن العربي من مشاكل متعددة (انكرها) ؟

- ما سمات المشكلة الزراعية في العالم العربي ؟
 - كيف يمكن مواجهتها ؟
 - ما هي الأسباب التي تم تنفيذها على أرض الواقع ؟
- اقرأ الملخص التالي: العقبات التي تواجه الإنتاج الزراعي:

- عدم استغلال جميع الأراضي القابلة للزراعة اندرة مياه الري أو تذبذب الأمطار أو قلة الأيدي العاملة.
- اتباع طرق الزراعة التقليدية في معظم أجزاء الوطن العربي.
- زحف الرمال (التصحر) وانجراف التربة.
- الرعي الجائر (رعي غير منظم) الذي يحول المراعي إلى أراضي جرداء.
- تلوث التربة نتيجة الأسراف في استخدام المبيدات وارتفاع نسبة الملوحة في التربة.

ما الأسباب التي تحد من استثمار الأراضي الزراعية في الوطن العربي؟



موقع الوطن العربي في المناطق الجافة وشبه الجافة يعرضه بشكل أساسي مشكلة التصحر .
(السودان والصومال وموريتانيا أكثر الدول العربية تهديدا بالتصحر . لماذا ؟)

- اتعرف على التصحر وأسبابه

التصحر هو: زحف رمال الصحراء على المناطق الجافة وشبه الجافة.



- انظر إلى الصور الآتية ثم اجب عن الأسئلة التي تتضمنها:



شكل ٩١: صورة توضح الرعي الجائر للإنسان دور أساسي في التصحر نتيجة سوء استخدام الأرض والرعي الجائر



شكل ٩٢: صورة توضح زحف الرمال في المناطق الجافة وشبه جافة.

١- ما سبب زحف الرمال؟

٢- وكيف تتحول الأراضي الزراعية إلى أراضي صحراوية غير منتجة؟

٣- ما الآثار الناتجة عن الرعي الجائر؟

٤- أين تقع الأراضي الغير ممرضة للتصحر في الوطن العربي ؟ ولماذا؟



● مكافحة التصحر ضرورة ملحة لعلاج مشاكل الزراعة:



شكل | ٩٣ | صورة توضح دور الانسان في اعادة التوازن بين عناصر البيئة

علاج مشكلة التصحر

- ياتطلب تشجير بعض المناطق (إقامة أحزمة خضراء).
- مصدات للرياح لحماية المزروعات من زحف الرمال.
- استخدام طرق ري حديثة.
- تثبيت الكتلان الرملية. كـيف؟
- إقامة المحميات الطبيعية.

انظر صورتين المظهرين الزراعيين شكل (٩٤) وقارن بينهما؟



- تعتمد الزراعة الحديثة علم استخدام تقنيات حديثة ارفع مستوى الانتاج.
- ما الهدف من قيام زراعات حديثة؟
 - ما التقنيات المعتمدة في الزراعات الحديثة؟
 - ما الهدف من اللجوء الى هذه التقنيات؟

شكل | ٩٤ | صورة توضح الزراعة الحديثة والزراعة التقليدية أي التسمية أو العكس



- عاجت الدول العربية المشكلات السابقة بسياسة تنموية وحققت التالي:
- ١ - زيادة الإنتاج عن طريق الأساليب العلمية.
 - ٢ - زيادة المساحات المزروعة.
 - ٣ - إقامة مشروعات الري.

لاحظ:
غياب سياسة زراعية على صعيد العالم العربي أدى إلى تشابه المحاصيل وتنافسها في الأسواق العربية. وغياب مهاصيل أخرى أساسية يمكن إنتاجها محلياً.
- ما أهم المزروعات التي ينتجها الوطن العربي؟
- ما المحاصيل الزراعية التي يستوردها الوطن العربي من الخارج؟
- ما مظاهر ضعف التخطيط الزراعي في الوطن العربي؟

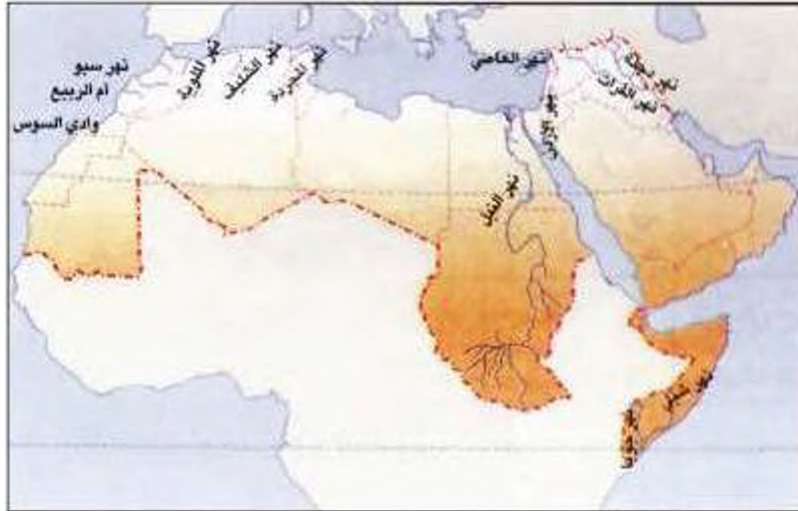
اعتمدت الدول العربية خططاً استراتيجية تهدف إلى تكثيف العمل الزراعي وتطويره باعتماد التكنولوجيا الحديثة وتحصيل البذور واستخدام الأسمدة المناسبة.



٢ - مشاكل استثمار المياه:

- ما هو مصدر المياه التي تستخدمها في منزلنا؟
- من يشرف على تكريرها، وعلى ضخها إلى المنازل والمرافق العامة؟
- هل هي معرضة لخطر نقصان؟ لماذا؟
- ما العمل لتحسين وضعها؟

لاحظ شكل (٩٥) وأجب عن الأسئلة التي تليه:



شكل (٩٥) خريطة توضح الأنهار من العالم العربي، أهم مصادر المياه العذبة.

لا يتجاوز عدد الأنهار الدائمة الجريان في العالم العربي عن ٥٠ نهراً (ساحلية - داخلية - طويلة وقصيرة) أغزرها أنهار دولية تتبع من خارج المجال الجغرافي العربي مثل: نهر النيل والفرات ودجلة (كبيرة) والعماسي والبيطاني (أنهار داخلية).



- ما أهم مصادر المياه في العالم العربي (استعن بما درست في الوحدة الأولى).
- هل يمكن أن تغذي الأمطار المياه السطحية أو المياه الجوفية بشكل كاف؟ لماذا؟
- استعن بالأطلس المدرسي، وحدد الدول (المناطق) التي تقع منها نهر النيل، ونهر الفرات؟
- ما الدول التي يمر فيها نهر الفرات؟ ونهر النيل؟ ونهر الأردن؟
- أسباب تآذي وقرية المياه في الوطن العربي:
- هناك مجموعة من العوامل أهمها:
- ١ - يشكل النمو السريع للسكان ضغطاً متزايداً على المياه المتوفرة لكل فرد.
- ٢ - إن ٥٠% من الموارد المائية في العالم العربي تأتي من خارج حدوده، وتتحكم فيها دول المانبع في غياب تشريعات دولية ضمن حقوقنا.
- ٣ - الطرق التقليدية المستخدمة في استغلال المياه في معظم مناطق العالم العربي مسؤولة عن تآذي نسبة المياه (استخدام الري بالغمر، والاستهلاك غير المسئول في مجالات المياه).
- ٤ - الشبكات الموهلة لنقل المياه قديمة.
- ٥ - لا يوجد في أي دولة عربية حتى عام ٢٠٠٥م برامج لإدارة المياه، كما لا تستخدم الأدوات الاقتصادية اللازمة لترشيد الاستخدام المتزايد من المياه بما يتناسب وحجم الأزمة.

ما اسم الحملة التوعوية لترشيد استهلاك المياه في دولة الكويت؟

البحر مصدر للمياه العذبة في بعض الدول العربية:

لاحظ الصور رقم (٩٦-٩٧) وأجب عن الأسئلة التي تليه :



شكل (٩٦-٩٧) : صور بوضع محطلات تحلية مياه البحر في الكويت العربي



| | |
|----------|-----|
| السعودية | 50% |
| قطر | 38% |
| البحرين | 21% |
| الامارات | 27% |
| السعودية | 8% |
| ليبيا | 0% |

مصدر استهلاك المياه المحلي

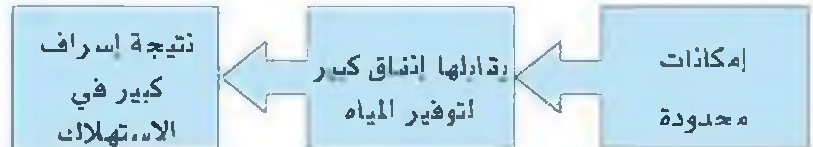
- لماذا تفسر:

- اتجاه عدد من الدول العربية إلى البحار لتأمين حاجاتها من المياه العذبة بالرغم من ارتفاع كلفة إنتاجها؟

- ما هي الدول الأكثر إنتاجاً لهذه المياه؟ لماذا؟ استعن بالمعلومات المحورة؟

- ماهي الدولة الأكثر إنتاجاً لهذه المياه؟

هل يمكن للدول العربية التخفيف من حدة هذه المشكلة؟ وتلافي الآثار المدمرة الناتجة عنها؟



- كيف نحافظ على ثروة المياه ونخفف من حدة الأزمة؟
1- ترشيد استخدام المياه والحد من التبذير في المنازل.



شكل | 99 | الحد من الاسراف للمياه



شكل | 98 | مورد توضح استهلاك المياه

٢ - الحد من هدر المياه في عمليات الري وذلك باستخدام الوسائل الحديثة كالرش بالتنقيط والمحوري.



شكل ١٠١: صورة توضح استخدام الري بالتنقيط



شكل ١٠٢: صورة توضح طرق الزراعة الحديثة

- ٣ - تنظيم عملية الاستفادة من المياه الجوفية ومنع تسرب الإملح الملوثة إليها واستثمارها على الوجه الأمثل.
- ٤ - تطوير استعمال مياه الصرف الصحي المعالجة في الزراعة.
- ٥ - إقامة البحيرات والسدود لتجميع مياه الأمطار والسيول للاستفادة منها في فصل الجفاف.
- ٦ - توقيع اتفاقيات مع الدول المشاركة ودول المنبع (الدول التي تتبع من أراضيها الأنهار) لتحقيق مصالح الدول العربية المعنية.



النشطة وتبريرات

١ - كيف نحافظ على نعمة المياه ؟ ما دورك كمواطن في ذلك ؟
صنف في جدول ثلاثة أعمال على الأقل به كن أن تقوم بها لتحد من الإسراف ؟

| افعل | افعل | افعل | الأعمال التي افوم بها لتحد من إسراف المياه |
|------|------|------|---|
| | | | |

٢ - ما أثر سوء الاستهلاك على هذه الثروة مستقبلا ؟

.....
.....

٢ - ماذا نقصد بترشيد الاستهلاك ؟

.....
.....

٤ - بالتعاون مع زملائك خطط لحملة تحدث على ترشيد استخدام المياه ؟ سجل الخطة
في مجموعة من الخطوات.

.....
.....

٥ - هل استطاع الإنسان العربي مواجهة مشكلة المياه في الوقت الراهن ؟ كيف ؟
ما الأسباب التي اتخذها ؟

.....
.....

٦ - هل استطاع الإنسان الاستفادة من مياه البحار المالحة ؟ كيف ؟ ما الآثار الايجابية
والسلبية لذلك ؟

.....
.....



٣ - التلوث البيئي

التلوث:
هو الضرر الذي يلحق بالثروة والهواء والماء، ويصيب التلوث عناصر البيئة من عدة مصادر للملوثات: صناعية، زراعية، منزلية ومن أكثر هذه الملوثات انتشار التلوث الكيمائي مثل النفايات السامة (من مثل الصادرة عن محطات التحلية ودخان المصانع وعادم السيارات وغيرها). وكذلك الملوثات الصادرة عن الهياكل الصلبة وتراكم النفايات والمواد البلاستيكية.

ما أنواع التلوث الواردة في الأشكال المرفقة؟

-
-
-

- ما المقصود بالتلوث البيئي وما أسبابه؟
 - ما أهم مظاهر التلوث؟
 - ما أثر التلوث على الإنسان والنبات والحيوان؟
 - كيف تواجه المشكلة؟
- كفي تستطيع الإجابة عن هذه الأسئلة، اقرأ النص المصور ولا حظ الصور الآتية شكل (١٠٢)، (١٠٣)، (١٠٤).



شكل ١٠٣ | صورة توضح تلوث الهواء المتسبب عن عادم السيارات. (ملاحظة: الصورة غير البيئية).



شكل ١٠٤ | صورة توضح تلوث التربة الإضرار من استخدام المبيدات يؤدي إلى تلوث التربة



شكل ١٠٥ | صورة توضح تلوث المياه القمامة الصناعية والمنزلية يؤدي إلى تلوث المياه



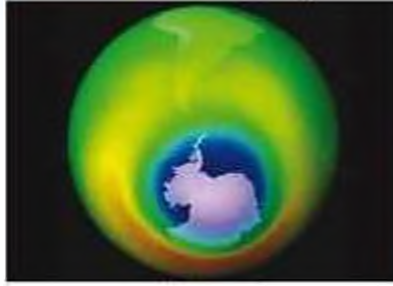
تلوث البيئة مشكلة عالمية:

التلوث البيئي من أهم وأخطر المشاكل التي تواجه شعوب العالم اليوم ويتم مواجهتها على مستوى عالمي حيث عقد أكبر مؤتمر الأمم المتحدة في مدينة ريودي جانيرو بالبرازيل عام ١٩٩٢م وعرف باسم قمة الأرض وحضره أكثر من ١٠٠ رئيس دولة.

- ما هي المخاطر البيئية التي تشير إليها الأشكال السابقة؟

- ما هي الموثقات الأكثر انتشارا في رأيك؟

لاحظ الصور التالية واكتب تعاملا مناسباً تحت كل منها:



تذبذب ط 42 الأوزون

التعليق:



شاطئ ملوث بكتنفايات

التعليق:



حريق إبار النفط في دولة الكويت عام ١٩٩١م

التعليق:



مصنع لفرز النفايات ومعالجتها

التعليق:



اقرأ النص التالي:

• ان بعض المواد الفازية لاسيما الكلورية الموجودة في وسائل التبريد وتكرير المياه، تؤدي إلى ثقب في طبقة الأوزون التي تحمي الأرض من الاشعاعات فوق البنفسجية الضارة.
• والتلوث بأول أكسيد الكربون الناتج بصورة خاصة عن ادم السيارات يؤدي إلى ارتفاع متزايد في حرارة الأرض وإلى تفيير مناخي يهدد باغراق بعض المدن.
• الدخان المتصاعد من المصانع يصبب الهواء والترية والماء ويهدد الحياة على الأرض.

• دور الإنسان في المحافظة على التوازن البيئي

انظر الصور شكل (١٠٥) و (١٠٦) ثم أجب عن الأسئلة التي تتضمنها:



شكل (١٠٦) صورة توضح مصنع سائل، هي السعودية التي يشع ربهما من المناطق السكنية ما جاذبة للتلوث



شكل (١٠٥) صورة توضح اطفال يمشون الأشجار في يوم الشجرة

- لماذا نسمى إلى وديان أخضرة

- ما أهمية الأشجار الهواء؟



محمية العرين في دولة مملكة البحرين



محمية المها في سلطنة عُمان



محمية صباغ الأحمد في دولة الكويت

شكل (١٠٧) صورة توضح محميات طبيعية في مجموعة من الدول العربية



- ما الفائدة من إنشاء هذه المحميات ؟

حتى تستطيع الإجابة عن الأسئلة السابقة - افرا الزمن التالي:
التوازن البيئي يعني بقاء عناصر الطبيعة في حالة من التوازن لتؤدي وظائفها على اكمل وجه، حيث تعمل عناصر البيئة كمنظومة واحدة مثل جسم الإنسان اي خلل في اي عضو سيؤثر على الجسم بأكمله وكذلك الخلل في عنصر من عناصر نظام بيئي معين، يؤدي إلى اضطراب في وجود بقية العناصر فيه.

- ما الأعمال السلبية التي يقوم بها بعض الناس وتؤدي إلى الإخلال بالتوازن البيئي ؟

ما مظاهر الإخلال بالتوازن البيئي في دولتك الكويت ؟

• نحو سياسة بيئية هادئة:

| حماية موارد الطبيعية | توليد طاقة نظيفة | تعمية الوعي البيئي (الأهم) |
|--|--|---|
| - الاستخدام السليم للموارد بعيدا عن الاستغلال السيء، الثروات الطبيعية وتلويثها بالفضيات. - المحافظة على نظافة هذه الموارد بحيث تصبح قادرة على تجديد مواردها والتخلص من مخاطر التصحر، وتلاشي تلوث الشواطئ. | - إعادة تجديد محطات الطاقة القديمة. - الاعتماد على مصادر الطاقة البديلة، كالشمس والرياح والمياه للتخفيف من تلوث البيئة. | - الاستعمال الأمثل للموارد من ماء وكهرباء . - فرز النفايات المنزلية والابتعاد عن الأوعية البلاستيكية . - الحرص على نظافة الأماكن العامة والشواطئ. - خفض معدلات السيارات وصيانتها. - التوقف عن تدمير النباتات. |

لاحظ الصور تشكل (١٠٨)



شكل (١٠٨) صورة توضح الشمس والرياح: مصادر الطاقة المتجددة



أنشطة وتدريبات

١ - اجمع بعض الصور التي تعبر عن التلوث، ثم صنفها، واكتب تعليقاً في حدود سطرين عن كل صورة ؟

.....
.....
.....

٢ - اكتب بعض اللافئات الصغيرة وعلقها في أماكن بارزة في المدرسة وفي محيطك السكني، تحدث على المحافظة على البيئة ؟

.....
.....
.....

٣ - ما أثر التصحر - والزحف العمراني على تلوث البيئة؟

.....
.....
.....

٤ - ما دورك في المحافظة على البيئة؟

.....
.....
.....

٥ - كيف تتعامل مع النفايات الإنزالية للمساعدة في المحافظة على البيئة؟

.....
.....
.....

٦ - ما أهم مخاطر التدهور البيئي في العالم ؟

.....
.....
.....

٧ - اذكر أهم الأمراض الناتجة عن تلوث البيئة ؟

.....
.....
.....

٨ - بالتعاون مع زملائك صمم مجلة حائطية توضح عملية تدوير النفايات وأهميتها في المحافظة على البيئة؟



ثانياً: نحو مستقبل عربي أفضل

١- التنمية في الوطن العربي سيبلنا لمستقبل أفضل:

حققت الدول العربية خلال العقود الثلاثة الماضية إنجازات عديدة في مجالات التنمية الاقتصادية والاجتماعية والشرية. هذه التنمية انطلقت من التعاون بين الدول العربية كسبيل لمواجهة التحديات وتحذيق الطموحات.



التنمية:
● تعني التطور والتطوير وهي عملية تتطلب التخطيط والمشاركة من الجميع.

شكل ١٠٩ / صورة توضح التعاون العربي

- هل تستطيع الدول العربية منفردة ان تحقق التنمية والتقدم ويكون لها وزن عالمي اقتصادياً وسياسياً؟

نحو مستقبل أفضل.

لمواجهة تحديات المستقبل يتطلب وضع خطط تنموية، فهناك:

- نمو سكاني مستمر يقابله زيادة في الاحتياجات.
- تناقص في الأراضي الزراعية (علل؟)
- مشاكل نقص المياه.
- مشكلة الأمية.
- ازدياد معدلات الجريمة والعنف والبطالة.
- تقدم وسائل الاتصال. جعلت الإنسان يتعرف على ما يحدث في العالم بصورة سريعة.




كيف نواجه هذه التحديات وغيرها؟
● وسائل وأساليب التنمية في الوطن العربي:
ارتكزت عملية التنمية في الوطن العربي على ثلاثة محاور رئيسية هي:



1- التنمية الاقتصادية:



صناعة اليربوع الساكنة في المملكة المغربية



استخدام التكنولوجيا في صناعة الأسمدة الصناعي في مصر

شكل (110) نموذج التنمية الاقتصادية تشمل مختلف القطاعات التنموية

التحدي: كيف نتخطى التنمية الاقتصادية يتطلب الإجابة عن هذه التساؤلات:

- كيف نستثمر الأراضي الزراعية ونستغل المساحات الصالحة للزراعة؟
- كيف نحسن من إنتاجنا الصناعي؟
- كيف نستثمر مواردنا المعدنية بدلا من تصديرها خاما؟

أهداف التنمية الاقتصادية:

- استخدام الأعمق في زيادة الإنتاج.
- تحقيق التكامل بين الدول العربية في الإمكانيات والحدوات.



شكل (١١١) الشباب العربي هم المستقبل

ب- التنمية البشرية:

المجتمعات لا يمكن أن تتقدم أو تتمر اقتصاديا أو سياسيا أو اجتماعياً بدون إعداد للقوى البشرية، فالبشر هم الثروة الحقيقية للأوطان.

اهداف التنمية البشرية:

- توفير قدرات الإنسان العربي نحو مجتمع المعرفة. كيف؟

- الاهتمام بالطفل العربي ورعايته في مرحلة الطفولة المبكرة (قبل المدرسة) .
 - توفير فرص العمل، والرعاية الصحية والتضامن على الفقر .
 - رفع كفاءة الثروة البشرية علمياً وفكرياً وروحياً .
 - تعميق المشاركة في الرأي والحوار في ظل الديمقراطية .
- انكر بعض هذه البرامج التوعوية في دولة الكويت؟

المشكلات التي تواجه التنمية البشرية:

- ١ - ضعف الاستفادة من القدرات البشرية في المنطقة العربية.
ما الأسباب التي تدعو الشباب والعلماء العرب الهجرة إلى الخارج؟
- ٢ - مشكلة الأمية:
- ما هو أثر التعليم عليك ثقافياً، نادياً، اجتماعياً؟
- كيف تتصور مجتمعك أولاً وجود المتعلمين والمتقنين؟
- ٣ - نقص مشاركة المرأة (محدودية مشاركة النساء في المنظمات السياسية).
- ٤ - الاختلاف الكبير في مستويات المعيشة بين دولة وأخرى، وفي داخل الدولة الواحدة.



ج - التنمية المستدامة:

- هي عبارة عن برامج تحسّن نوعية الحياة.
- اهداف التنمية المستدامة:
- تأمين مستوى معيشي لائق لجميع المواطنين.
- حماية الأمن المائي ومصادر الطاقة والأرض.
- ضمان الحق في التعليم والرعاية الصحية.
- إيجاد فرص عمل مناسبة.
- استخدام وإتلاك التقنية الحديثة.
- محو الأمية والتحرر من التبعية بمختلف وجوهها (التنمية الغذائية - العلمية والتكنولوجية - المديونيات)

- جوهر التنمية البشرية:
 - الحرية
 - المعرفة
 - العمل الجاد
 - الأبداع
 - الكفاءة الاحسوبية
 - حقوق المرأة
 - حقوق الطفل
- التنمية المستدامة لا تتحقق إلا بمشاركة جميع المواطنين.

انضم إلى معلوماتك

- من أشهر علماء العرب في الخارج
- 1 - الدكتور فاروق الهاز ويشغل حاليا منصب مدير أبحاث الفضاء في وسطن ،الولايات المتحدة.
 - 2 - الدكتور أحمد زويل عالم الكيمياء والحائز على جائزة نوبل في الكيمياء، عام ١٩٩٩ .
 - 3 - الدكتور محمد صلاح الدين زكي أكبر جراح زراعة القلب في العالم والولايات المتحدة الأمريكية.
 - 4 - والدكتور محمد شقير خبير الزلازل وتقوية التربة بالولايات المتحدة.
 - 5 - د.أسامة عبدالمحسن فذيل الخبير في هندسة دوائيات ميكانيكا الواقع بالولايات المتحدة.
- إضافة مئات آخرين يعملون في جامعتي كاليفورنيا وهارفارد بالولايات المتحدة والتي يوجد فيها وحدها أكثر من ٣١٨ ألف كفاءة متميزة.



شكل ١١٧١ صورة توضيح للبرقي العنقدة العربية من الفضاء



شكل ١١٧٢ صورة توضيح - جو الأمل والتعليم الكبار

٢ - التعاون والتضامن العربي لتحقيق التقدم والتنمية:



شكل ١١٥: صورة توضح اجتماع وزراء خارجية العرب

التضامن العربي هو العمل على توثيق الصلات بين الدول والشعوب العربية وحماية لمصالحها السياسية والاقتصادية والثقافية وغيرها.

دور الجامعة العربية في تحقيق التكامل بين الدول العربية:

تهدف جامعة الدول العربية إلى توثيق العلاقات بين الدول الأعضاء وتنسيق التعاون فيما بينها، للحفاظ على استقلالها وسيادتها، والنظر بصفة عامة في شؤون ومصالح الدول العربية، وأندشت عدد من المؤسسات الاقتصادية، وعقدت المؤتمرات المختلفة لتحقيق التعاون العربي والتكامل الاقتصادي بين الدول العربية.

ومن أبرز هذه المؤسسات:

- ١ - مجلس الوحدة الاقتصادية العربية.
- ٢ - المنظمة العربية للتجارة الزراعية.

الجامعة العربية تُعرف رسمياً باسم جامعة الدول العربية، وهي منظمة إقليمية للدول العربية.

وقد تم تشكيلها في القاهرة في ٢٢ مارس ١٩٤٥ وتضم ستة أعضاء: مصر، العراق، الأردن، لبنان، المملكة العربية السعودية، سوريا. وانضمت لها اليمن كمضوا لها في ٥ مايو ١٩٤٥، ثم انضمت الكويت عام ١٩٦١ والآن تضم جامعة الدول العربية في الوقت الراهن ٢٢ عضواً.



شكل ١١٥ (١) صورة توضح مجلس جامعة الدول العربية عمداً في القاهرة



مؤسسات التعاون العربي المشترك:

تعددت صيغ التعاون العربي في مختلف الميادين، كما تعددت مستويات هذا التعاون سواء على مستوى ثنائي بين دولتين، أو بين مجموعة من الدول ذات الإنماء الجغرافي لمنطقة معينة .

● الصناديق الإنمائية العربية علامات مضيئة للتعاون العربي:

تعد هذه الصناديق أهم المصادر لتوفير التمويل الميسر، وقد تمكنت بفضل رؤوس أموالها من مساندة الجهود الإنمائية الاقتصادية والاجتماعية في عدد كبير من الدول العربية .

أهم الصناديق الوطنية (على مستوى الدول):

أ- الصندوق الكويتي للتنمية الاقتصادية العربية ١٩٦١م .



ب- صندوق أبوظبي للإنماء الاقتصادي العربي ١٩٧١م .



ج- الصندوق السعودي للتنمية ١٩٧٤م .



● ساهمت هذه الصناديق بشكل ايجابي في مشاريع التنمية العربية عن طريق تقديم القروض والتمويل المشترك وتقديم المنح للتمويل وتقديم المساعدات الاقتصادية للدول العربية تدعيم انموها الاقتصادي .

התחנה החדשה לרכבות הרכבת הירוקה, תחנת הרכבות הירוקה, תחנת הרכבות הירוקה, תחנת הרכבות הירוקה

תחנת הרכבות הירוקה (תחנת הרכבות הירוקה)



תחנת הרכבות הירוקה (תחנת הרכבות הירוקה)

תחנת הרכבות הירוקה (תחנת הרכבות הירוקה)



תחנת הרכבות הירוקה (תחנת הרכבות הירוקה)



תחנת הרכבות הירוקה (תחנת הרכבות הירוקה)



תחנת הרכבות הירוקה (תחנת הרכבות הירוקה)



תחנת הרכבות הירוקה (תחנת הרכבות הירוקה)




תחנת הרכבות הירוקה (תחנת הרכבות הירוקה)





نموذج لتعاون عربي مشترك بين دول ذات انتماء جغرافي:



قيام مجلس التعاون
اعلن قيام مجلس التعاون في
٢٥ مايو عام ١٩٨١م في مدينة
ايوظيبي.
ويضم المجلس ست دول عربية
الأطلة على الخليج العربي الكويت
- الاماكة العربية السعودية - قطر
- مملكة البحرين - الامارات
العربية المتحدة - وسلطنة عمان.

- مجلس التعاون الخليجي؛
مظهر جديد ومتقدم من مظاهر دعم التضامن بين الدول
العربية وفق مبادئ مبروسة .
- بالتعاون مع زملائنا
- اذكر اهم اهداف مجلس التعاون الخليجي؟
- النتائج التي صدرت عن مؤتمر قمة مسقط
(سلطنة عمان) ٢٠٠٨م؟



شكل ١١٧ : صورة توضح قادة رؤساء دول مجلس التعاون الخليجي



شكل ١١٨ : صورة توضح اجدي اجتماعات قادة دول المجلس التعاون الخليجي



دور دولة الكويت في العمل العربي المشترك

• المساهمات الكويتية في العمل العربي المشترك:

انطلاقاً من مبادئ ديننا الإسلامي النبيل قدمت دولة الكويت الكثير من المساعدات المادية وغيرها للدول العربية والإسلامية المساهمة في مشاريع التنمية الضرورية لها. واتخذت هذه المساهمات أشكالاً سياسية وثقافية واقتصادية ودينية وغيرها.

والآن عزيزي الامة فلنتحدث عن بعض هذه المساعدات، كالآتي:

• المساهمات الاقتصادية:

قال تعالى: ﴿الَّذِينَ يُفْقِرُونَ أَصْرَهُمْ بِمَسْئِلِ اللَّهِ لَا يَتِمُّونَ مَا أُنْفِرُوا مَا تَأْتُوا بِشَيْءٍ لَهُمْ أَدْمُغَةٌ مِنْهُمْ وَلَهُمْ نَذِيرٌ﴾ سورة البقرة آية: ٢٦٢

١ - مشاركة دولة الكويت في تنفيذ العديد من المشاريع التنموية العربية:

• كان لنجاح سياسة دولة الكويت في المجال العربي عاملاً مهماً لاتخاذها مقراً لعدد منظمات عربية منها:



- منظمة العربية للتنمية الزراعية.
- المنظمة العربية للتنمية الصناعية والتعدين.
- المنظمة العربية للتربية والثقافة والعلوم (الك.و.) .



شعبان، ١٤١٠هـ، الكويت، دعمو للانشاء علم الاسبية في العالم

• ما اهم المساهمات التي قدمها الصندوق الكويتي للتنمية الاقتصادية العربية؟



٢ - الصندوق الكويتي للتنمية الاقتصادية العربية:

سبق وأن تعرفت إلى الصندوق الكويتي للتنمية الاقتصادية العربية في درس مؤسسات التعاون العربي الأثرا: إذن فللتعرف بشيء من التفصيل البسيط حول هذا الموضوع.



يعتبر الصندوق الكويتي للتنمية الاقتصادية العربية أول مؤسسة للتنمية في الوطن العربي، حيث يقوم بالمساهمة في تحقيق مشاريع التنمية الضرورية لها خاصة في المجالات الصحية والاجتماعية وكذلك تقديم المساعدات اللازمة في حالات الكوارث والنفقات ودعم قضايا الأمة العربية الإسلامية.

تأسس الصندوق الكويتي للتنمية الاقتصادية العربية في عهد الشيخ عبدالله السالم الصباح رحمه الله في تاريخ ٣١ / ديسمبر ١٩٦١ بكرة ودعم من صاحب السمو الراحل الشيخ جابر الأحمد الجابر الصباح، حيث كان سموه وزيراً للمالية آنذاك ويتبع الصندوق الكويتي التنمية العربية حالياً وزارة الخارجية.

• أهداف الصندوق الكويتي للتنمية الاقتصادية العربية:

- ١ - تقديم القروض الميسرة للدول المحتاجة .
- ٢ - تقديم كافة المساعدات الأديا لقضايا العالم العربي والإسلامي .
- ٣ - المساهمة في تطوير التنمية في الوطن العربي والعالم الإسلامي .



عرض مجموعة من إنجازات الصندوق في الدول العربية:



مشروع الصندوق الكويتي في المكتب الهندسة بالمشاوي
الكويتية



مشروع الصندوق الكويتي في مشروع الضخ لياه مرجع المين في
الجمهورية العربية السورية



مشروع الصندوق الكويتي في المملكة الأردنية الهاشمية مصنع
الاسمدة الفوسفاتية



مشروع الصندوق الكويتي في السودان قناة وتمهيم ري الرهد

شكل ١٢٠٠: صور أوجه مشاريع الصندوق الكويتي للمساعدة الاقتصادية العربية



٣ - استضافت دولة الكويت لاصحخم واهم المؤتمرات الاقتصادية العربية:
عقد اكبر واهم مؤتمر قمة عربية منذ تاريخ نشأة جامعة الدول العربية في دولة الكويت
يومي ١٩ - ٢٠ يناير ٢٠٠٩م.



١٢١ | دولة الكويت تستعد لقب القمة العربية الاقتصادية والتنمية والاجتماعية



القمة الاقتصادية العربية على أرض دولة الكويت تحول العلوم والتمويل العربية الى برامج حل وصحة

أعدت دولة الكويت لهذا المؤتمر اعتبار أن الاقتصاد أساس معيشة الشعوب.

القمة العربية الاقتصادية أحد أهم الدعوات لتمية الاقتصاد العربي

اهم اهداف القمة الاقتصادية التنموية العربية:

- ١ - إنشاء بنك عربي لتمويل شتى المشاريع التنموية للتقليل من معدلات الفقر.
- ٢ - القضاء على البطالة والذخر بتوفير فرص عمل.
- ٣ - الاستثمار الاقتصادي بين الدول العربية وتقوية التبادل التجاري.
- ٤ - الاعتناء بالمنصر البشري والتنمية المستدامة.

يأتي اولويات هذا المؤتمر بإعادة تعمير قطاع غزة بعد تعرضها للغزو الإسرائيلي القاسم عليها في بداية شهر يناير ٢٠٠٩م، والذي أسفر عن قتل الآلاف من الأبرياء (معظمهم من الأطفال والنساء) وتدمير البنية التحتية لقطاع غزة بالكامل.



أنشطة وتدريبات

في الجدول التالي اكمل المطاوب:

| مفهوم التضامن العربي | وسائل تحقيقه |
|----------------------|--------------|
| | |

اكمل الفراغات التالية:

- ١ - عبارة عن عملية تتطلب التخطيط والمشاركة من الجميع تسمى.....
- ٢ - عقد أكبر مؤتمر قمة عربية اقتصادية منذ نشأة جامعة الدول العربية في دولة تسمى.....
- ٣ - تقع المنظمة العربية للتنمية الزراعية في دولة تسمى.....
- ٤ - أعلن قيام مجلس التعاون الخليجي في ٢٥ مايو عام.....
- ٥- ارتكزت عملية التنمية في الوطن العربي على ثلاثة محاور هي التنمية الاقتصادية و.....
- ٦ - تأسس الصندوق الكويتي للتنمية الاقتصادية العربية في عهد الشيخ.....
- ٧ - تم إنشاء الصندوق الكويتي للتنمية الاقتصادية العربية ٢١ ديسمبر عام.....

أجب عن الأسئلة التالية:

- ١ - عرف مفهوم التنمية المستدامة ؟

-
-
- ٢ - هل يمكن ان تشارك كمواطن عربي في مشاريع التنمية المستدامة ؟ كيف (اذكر أمثلة على ذلك)
-
-



٢ - بين من وجهة نظرك كيفية تحقيق تنمية اقتصادية عربية نحو مستقبل أفضل ؟

.....

.....

٤ - ما أهم المشكلات التي تواجه عمال التنمية الاقتصادية في الوطن العربي ؟

.....

.....

٥ - ما الهدف من تطوير قطاع الزراعة والصناعة في الوطن العربي ؟

.....

.....

٦ - تتبع أحد مجالس التعاون لدول مجلس التعاون الخليجي واذكر أهم قراراته؟

.....

.....

٧ - اقترح بعض المشروعات الاقتصادية التي يمكن تنفيذها بواسطة منظمة الوحدة العربية؟

.....

.....

٨ - عدد أهداف التنمية الاقتصادية ؟

.....

.....

٩ - ما هي التحديات التي تواجه التنمية البشرية ؟

.....

.....

١٠ - ما المقصود بالتنمية المستدامة ؟ وما هي أهدافها ؟

.....

.....

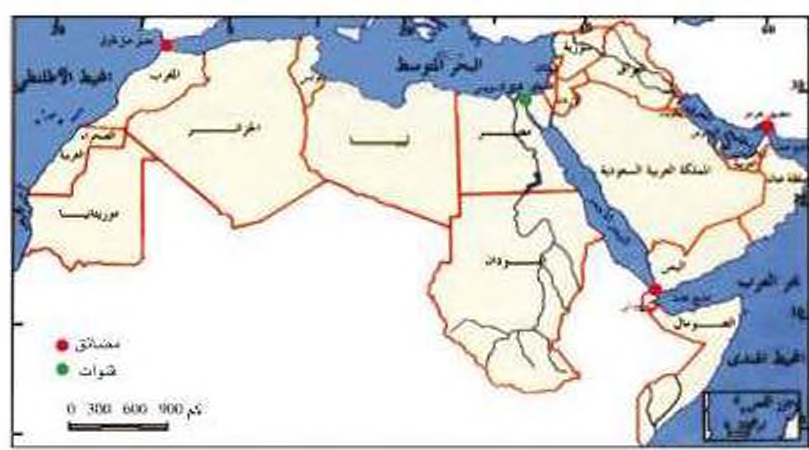


١١ - ما المقصود بالتضامن العربي؟

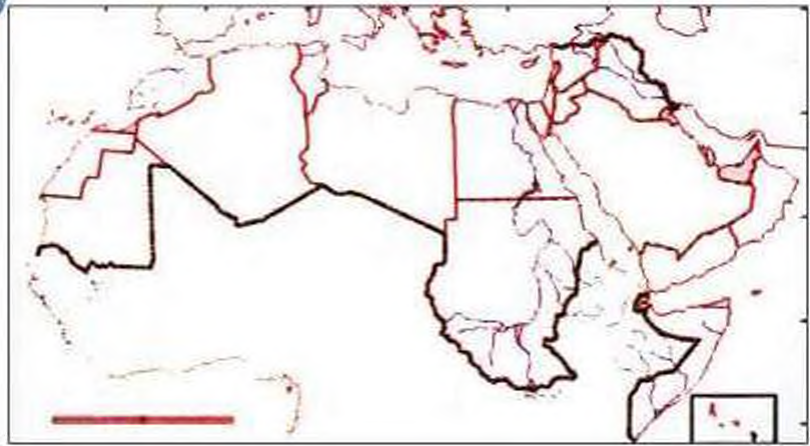
١٢ - ما الانجازات التي قدمها الصندوق الكويتي للتنمية للدول العربية؟
يمكنك الاستعانة بالصور رقم (١٢٠) لتجيب عما سبق.

١٣ - عدد أهداف الصندوق الكويتي للتنمية؟









المراجع

مراجع الوحدة الأولى

- السيات (محمد محمود) ، معالم جغرافية الوطن العربي ، لبنان : دار النهضة العربية .
 سعودي (محمد عبد الغني) . الوطن العربي ، القاهرة : مكتبة الأنجلو المصرية ، ٢٠٠٢ .
 الزوكة (محمد خميس) . جغرافية العالم العربي ، مصر : دار المعرفة الجامعية ، ١٩٩٦ .
 منيمنة (سارة حسن) ، في جغرافية الوطن العربي ، القاهرة : دار النهضة العربية ،
 ١٩٩٠ .
 عبد الحكيم (محمد صبحي) ، وآخرون ، الوطن العربي (أرضه - سكانه - موارده) ،
 القاهرة : مكتبة الأنجلو المصرية .
 حميدة (عبدالرحمن) ، جغرافية الوطن العربي ، بيروت : دار الفكر المعاصر ، ١٩٩٧ .
 الفريزي (عبدالعيس قضيح) ، وآخرون ، جغرافية الوطن العربي ، عمان (الأردن) : دار
 صفاء للنشر والتوزيع ، ١٩٩٩ .
 - فريق خبراء مؤسسة جيوروجكتس - كتاب المواد الاجتماعية للصف الخامس الابتدائي
 دولة البحرين ١٩٩٧ - ص ١٨ .

مراجع الوحدة الثانية

- حمادة (حسين فهد) ، موسوعة الآثار التاريخية ، الطبعة الأولى ، ٢٠٠٨ .
 الماقوث (سامي بن عبدالله) ، أطلس تاريخ الأنبياء والرسل ، الطبعة السابعة ، ٢٠٠٦ .
 عاشور (سامي عبد الناج) ، تاريخ الحضارة العربية الإسلامية ١٩٩٨ .
 عبد الساتر (لييب) ، الحضارات ، الطبعة السادسة عشر ، ٢٠٠٢ .
 شاكر (محمود) ، موسوعة الحضارات القديمة والحديثة وتاريخ الأمم ، الطبعة الأولى ،
 ٢٠٠٨ .

مراجع الوحدة الثالثة

- عبد الحكيم (محمد صبحي) ، وآخرون ، الوطن العربي (أرضه - سكانه - موارده) ،
 القاهرة : مكتبة الأنجلو المصرية .
 التقرير الاقتصادي لنظمة المدن العربية ، ٢٠٠٧ .



مراجع الوحدة الرابعة


- ١ - بعلبكي (أحمد) ، تنمية الموارد العربية ، الناشر : دار الفارابي ، ج ١ ، ج ٢ .
- ٢ - التقرير الاقتصادي العربي الموحد ، ٢٠٠٢ / ٢٠٠٧ .
- ٣ - تقرير الأمم المتحدة للتنمية البشرية ، ٢٠٠٥ .
- ٤ - الأمية في الوطن العربي ، مكتب اليونسكو الإقليمي للتربية في الدول العربية ، ٢٠٠٧ .
- ٥ - حسن (عدنان سيد) ، مجلة المستقبل العربي ، العدد (٢٢٤) .
- ٦ - غنيمه | محمد متولي) ، الوضع الراهن في الوطن العربي واحتمالات المستقبل ، الدار المصرية اللبنانية .
- ٧ - متولي (محمد) ، التيمة الاقتصادية للتعليم في الوطن العربي ، الدار المصرية .
- ٨ - مجلة العالم ، العدد (١٦) ، ٢٠٠١ .
- ٩ - مؤسسة الكويت للتقدم العلمي ، مجلة العلوم ، يناير - مارس - مايو - يونيو ٢٠٠٨ .
- ١٠ - تقرير الصندوق الكويتي للتنمية الاقتصادية العربية ، ٢٠٠٨ .



أودع بمكتبة الوزارة تحت رقم (٦٦) بتاريخ ٢٨ / ٥ / ٢٠٠٩

مطابع دار المعرفة
٢٤٨٤٣٦١ - ٢٤٨٤٣٦٥

الدراسات الاجتماعية
الكويت
والوطن العربي
للسف السابع



الوطن العربي
الوطن العربي
الوطن العربي
الوطن العربي
الوطن العربي



المرحلة المتوسطة

الطبعة الأولى