

جمهورية العراق
وزارة التربية
المديرية العامة للمناهج

الاجتماعيات

للفف السادس الابتدائي

تأليف

أ.د. عبد القادر عبد الجبار مصطفى د. لؤي عدنان حسون

د. إسراء طالب توفيق د. سلام عبد علي مهوس

غازي مطلق صخي

٢٠١٧/هـ/١٤٣٨م

الطبعة الثانية

تصميم الكتاب
أحمد تحسين علي

المشرف العلمي على الطبع: د. اسراء طالب توفيق
المشرف الفني على الطبع: م.م. أحمد تحسين علي

الموقع والصفحة الرسمية للمديرية العامة للمناهج

www.manahj.edu.iq
manahjb@yahoo.com
Info@manahj.edu.iq



manahjb
manahj



المديرية العامة للمناهج
قسم التحضير الطباعي

استناداً الى القانون يوزع مجاناً ويمنع بيعه وتداوله في الاسواق

مقدمة

الحمد لله رب العالمين والصلاة والسلام على أشرف المرسلين سيدنا محمد وعلى آله وصحبه الطيبين الطاهرين اما بعد..

استكمالاً لكتابي الاجتماعيات للصفين. (الرابع والخامس) الابتدائي. سعت وزارة التربية الى إعداد كتاب الاجتماعيات للصف السادس الابتدائي على وفق الرؤية الجديدة لوزارة التربية في بناء مناهج دراسية تقوم على التكامل والترابط وترتكز على الاقتصاد المبنى على المعرفة وتعزيز قيم المواطنة الصالحة القائمة على ترسيخ مبدأ حب الوطن وبناء الشخصية الوطنية المؤمنة به والاخلاص له والتضحية في سبيله والعمل على تقدمه في المجالات والاصعدة كافة .

فقد تم بناء هذا الكتاب ضمن رؤيا وعرض تراعي الأسس العلمية والاتجاهات التربوية الحديثة في مجالات التربية السكانية والبيئية ومشكلات الشباب وحقوق الإنسان.

وقد عمدنا الى التركيز على إثارة اهتمام المتعلمين والكشف عن قدراتهم وتنمية مهارات التعلم الذاتي والتفكير الناقد وما يقدمه المعلم من خلال اعتماده على استراتيجيات متطورة في التعليم يكون المتعلم فيها محور العملية التعليمية.

عزيزي التلميذ عزيزتي التلميذة:

تذكرا دائما انكما محور العملية التعليمية وهذا يتطلب منكما عملاً دؤوباً، ومشاركة فاعلة في الانشطة التعليمية، كما ستجدان في هذا الكتاب تحديات تتناسب مع قدراتكما العقلية وخبراتكما المعرفية لتنمية مهارات التفكير لديكما واتاحة الفرصة للتعبير عن ارائكما والحوار مع اقرانكما وتنمية مهارات الإبداع والابتكار لديكما من اجل الوصول الى الغايات التربوية والخبرات التعليمية المرجوة.

وختاماً لتحقيق الأهداف المرجوة من هذا الكتاب، لأبد من تظافر جهود الجميع (المعلم ، التلميذ ، أولياء الأمور).

والله الموفق

المؤلفون

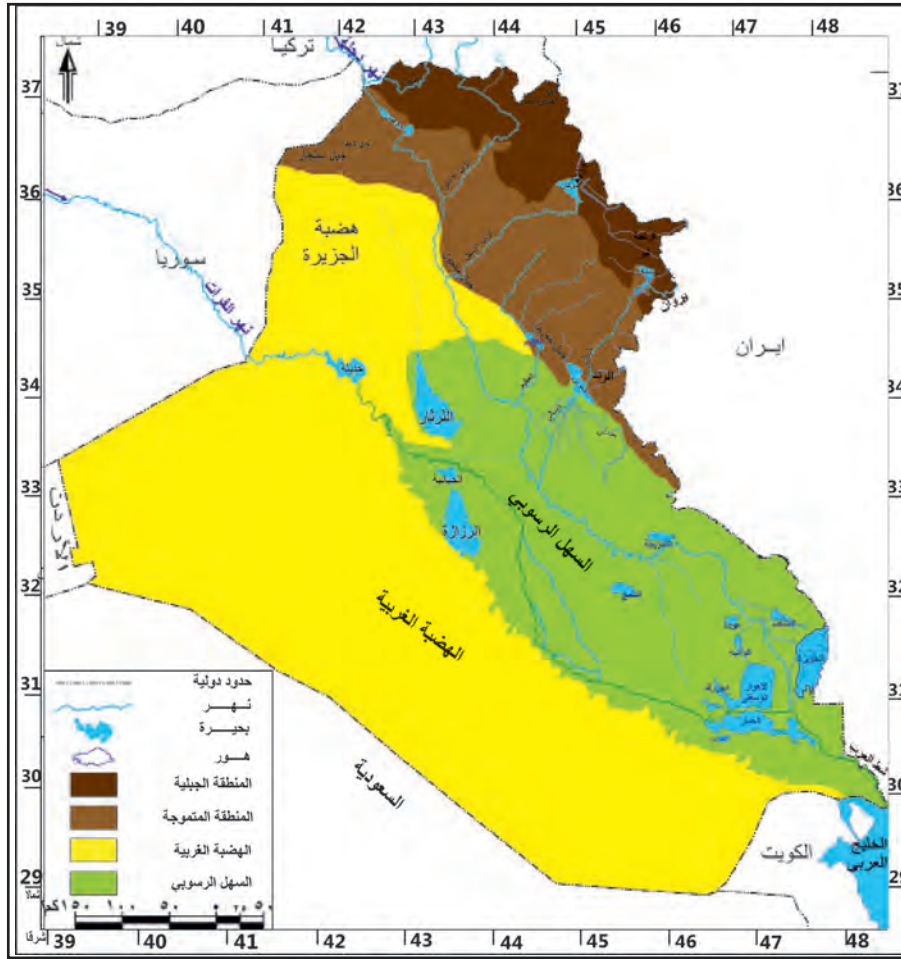
الوحدة الأولى مافظات وطننا العراق جغرافياً وتاريخياً

بعد الانتهاء من دراسة هذه الوحدة سيكون التلميذ قادراً على أن :

- يتعرف إلى التقسيمات الإدارية لوطننا العراق.
- يحدد الموقع الجغرافي لكل محافظة.
- يتمكن من مهارة قراءة الخريطة .
- يحدد الظواهر الجغرافية والتاريخية على الخريطة.
- يفهم الظواهر الطبيعية لكل محافظة (تضاريس، مناخ، موارد مائية).
- يفهم أهمية التنوع التضاريسي لوطننا العراق.
- يتعرف إلى الأنشطة الاقتصادية لكل محافظة (زراعة، صناعة، تجارة، طرق النقل، والمواصلات).
- يتعرف إلى عدد السكان في كل محافظة .
- يوزع المناطق السياحية في كل محافظة.
- يوزع محافظات العراق على الخريطة الصماء.
- يتعرف إلى نبذة تاريخية لكل محافظة من محافظات العراق.
- يتعرف إلى المعالم التاريخية والحضارية في كل محافظة.

وطننا العراق

سَبَقَ وان درست -عزيزي التلميذ- في المرحلة السابقة، بأن تضاريس العراق متنوعة نظراً لأمتداد وطننا العراق من الشمال الى الجنوب، ومن الشرق الى الغرب، فالجبال تنتشر في اقسامه الشمالية والشمالية الشرقية، وتمتد المناطق المتموجة الى الجنوب الغربي من المنطقة الجبلية، اما في وسطه وجنوبه فتنبسط الأرض وتصبح سهلية يطلق عليها تسمية السهل الرسوبي، في حين تتكون الاقسام الغربية والجنوبية الغربية من هضبة واسعة يطلق عليها تسمية الهضبة الغربية. لاحظ الخريطة رقم (١).



نشاط

- ١- من خلال ملاحظتك للخريطة أعلاه هل تجد ان تضاريس العراق متشابهة؟
- ٢- أذكر انواع التضاريس التي شاهدهتها على الخريطة.
- ٣- أي التضاريس تشغل مساحة اكبر؟
- ٤- خذ خريطة صماء للعراق وحدد عليها اقسام السطح.

اما بالنسبة لمناخ العراق فيتأثر بشكل كبير بالتضاريس بين شماله وجنوبه، اذ يزداد سقوط الأمطار في الاقسام الشمالية من وطننا وتقل كلما اتجهنا جنوباً، ويقتصر سقوطها في فصل الشتاء لاحظ الخريطة رقم (٢)، وتختلف درجات الحرارة هي الاخرى تبعاً لتضاريسه، اذ ترتفع خلال فصل الصيف في الأقسام الوسطى والجنوبية، وتتميز بالاعتدال خلال فصل الشتاء، اما في الأقسام الشمالية فتتخفض خلال فصل الشتاء، وتكون اكثر اعتدالاً في فصل الصيف، ولذلك فإن كثيراً من الناس يسافرون اليها خلال فصل الصيف لغرض الراحة والاستجمام.

وقد أدى تنوع مظاهر السطح والمناخ في العراق الى تنوع النبات الطبيعي والمنتجات الزراعية بين جميع جهاته، فنشط التبادل التجاري بين محافظاته لاسيما وان جهاته مفتوحة بعضها على بعض ولا توجد بينها اية حواجز او عوائق لتمنع ذلك الاتصال، وقد ساعد ذلك ومنذ القدم على سهولة التنقل بين جهاته المختلفة، فتوسعت الصلات الاجتماعية بين الناس، مما اكد وحدة وطننا العراق وتماسك اجزائه.



خريطة رقم (٢) معدلات سقوط الامطار في العراق

وقد منّ الله تعالى على وطننا بتنوع المصادر المائية، فمنها الأمطار والمياه السطحية والمياه الجوفية، وتشمل المياه السطحية المياه التي تجري على سطح الأرض وتتمثل بالانهار وروافدها،

وفروعها والبحيرات ويعد نهر دجلة وروافده والفرات وشط العرب من اهم الموارد المائية في وطننا لاحظ الخريطة (٣). فضلاً عن وجود العديد من الموارد المائية السطحية الاخرى، لاسيما الازهار والمستنقعات والسدود والبحيرات، كبحيرة التثرار، والحبانية، والرزازة، ودوكان، ودر بندخان، إذ تعد من اهم المناطق لخرن المياه وتوليد الطاقة الكهربائية، اضافة الى كونها تمثل مناطق سياحية جميلة (لاحظ الخريطة رقم ٣).



خريطة رقم (٣) السدود والمشاريع المائية في العراق

نشاط

- ١- من خلال ملاحظة الخريطة رقم (٢) هل ان معدل سقوط الامطار متساوٍ في جميع انحاء العراق؟
- ٢- اجمع صوراً أو ملصقات تمثل كيفية المحافظة على مياه الانهار من التلوث.
- ٣- اجمع صوراً للبحيرات الخزنانية في وطننا العراق، واذكر على اي نهر شيدت.

فكر وأجب

- ١- لماذا يسافر الناس في فصل الصيف الى الاقسام الشمالية من وطننا العراق؟
- ٢- هل لتضاريس العراق تأثيرٌ على كمية الامطار الساقطة؟

أما بالنسبة لمادة التاريخ فقد تعرفنا في الصفين السابقين (الرابع والخامس الابتدائي) على مبادئ علم التاريخ البسيطة كمدخل مهم لدراسة هذه المادة، ولاسيما المفاهيم التاريخية (يوم، اسبوع، شهر، سنة)، فضلاً عن معرفة عراقة الحضارة العراقية من خلال التعرف إلى نشوء المدن العراقية الأثرية، وكذلك المدن الإسلامية التي بناها المسلمون لتكون مراكز إدارية وحضارية كمدينة البصرة والكوفة وبغداد، والتعرف إلى ان العراق بلد الحضارات إذ نشأت على ارضه حضارات عريقة مازالت آثارها شاخصة حتى وقتنا الحاضر والتي تذكرنا بتفوق وذكاء الانسان العراقي القديم في بناء حضارته، ومن اشهر تلك الحضارات الحضارة السومرية، الاكدية، البابلية والاشورية وكذلك دور العراقيين في بناء الحضارة الإنسانية عبر العصور التاريخية مع التعرف إلى اهم المراكز الحضارية في العصر الاسلامي، فضلاً عن التأكيد بأن العراق موطن العلم والعلماء كما توجد فيه أهم المراكز والدور والمدارس العلمية العريقة عبر التاريخ، مع ادراك دور العلماء العراقيين في التطور العلمي العالمي لأن العراقيين اول من اخترع الكتابة والتدوين، وأن العراق مهد القوانين والتشريعات والديانات.

اما في هذه المرحلة فسيتعرف التلميذ إلى محافظات العراق تاريخياً من خلال عرض مواقع الاستيطان الأولى في المنطقة الشمالية ثم الوسطى ثم الجنوبية من بلاد الرافدين، إذ استوطن الانسان العراقي القديم منذ قرابة المليون سنة في الكهوف والمغارات خلال العصور الحجرية القديمة، وكان استيطانه في المنطقة الجبلية الشمالية والشمالية الشرقية، إذ كان يعمل صياداً جامعاً للقوت في محافظات كردستان العراق ثم تحوله الى مزارع منتج للقوت في العصر الحجري الحديث، إذ استوطن القرى الزراعية في الالف الثامن ق.م في موقع نمريك قرب قرية فايده شمالي الموصل، وفي موقع جرمو في جمجمال في محافظة السليمانية ثم ظهور المدن القديمة مثل مدينة حسونة في الموصل وام الدباغية قرب مدينة الحضر وتل الصوان قرب سامراء وغيرها من المستوطنات، ثم ازدهرت حضارة الانسان العراقي القديم إذ ظهرت المدن الخاتمة لعصر القرى الزراعية في منتصف الالف الرابع ق.م.

وظهرت كذلك مدن الوركاء، واريديو، واور، ونينوى والتي اشتهرت بأهميتها في الزراعة إذ ساعدهم في ذلك وجود نهري دجلة والفرات وروافدهما، فضلاً عن استواء الارض، كما ظهر القانون العراقي القديم وحل محل العادات والتقاليد فظهرت إصلاحات اوروكاجينا في منتصف الألف الرابع ق.م وقوانين اور نمو ولبت عشتار واشنونا وحمورابي.



خريطة رقم (٤) عن مواقع اقدم الحضارات في العراق

التقسيم الإداري لوطننا العراق:

يتكون التقسيم الإداري لوطننا العراق من ثماني عشرة محافظة موزعة على جميع أنحاء سندرستها كلاً إلى حدة من اجل التعرف على الظروف الطبيعية والبشرية لتلك المحافظات، مع دراسة نبذة تاريخية عن كل محافظة، للأطلاع على المعالم التاريخية والحضارية فيها.



نشاط

خذ ورق شفاف وحدد الحدود الخارجية لخريطة العراق ثم حدد عليها اقسام سطح العراق ولونها في دفترك.

محافظة دهوك

الموقع الجغرافي:

تقع محافظة دهوك في أقصى شمال وطننا العراق وهي إحدى محافظات إقليم كردستان العراق تحدها من الشرق محافظة أربيل ومن الغرب والجنوب محافظة نينوى أما من الشمال فتحددها جزءاً من الحدود الدولية بين العراق وتركيا لاحظ الخريطة رقم (٥) .



خريطة رقم (٥) الموقع الجغرافي لمحافظة دهوك

التضاريس:

لقد كان لموقع محافظة دهوك أثرٌ كبيرٌ في تضاريس المحافظة لكون حدودها الشمالية تعد جزءاً من التضاريس الجبلية المتمثلة بجبال طوروس التي تشكل حدوداً فاصلة بين العراق وتركيا وعلى الرغم من سيادة الطابع الجبلي لتضاريس المحافظة إلا أن هناك تبايناً في توزيع تلك التضاريس وتنوعها في المحافظة ويمكن أن نقسمها على النحو الآتي:

* حدود المحافظات بالنسبة لبعضها البعض للأطلاع فقط

منطقة الجبال:



جبل بيخير

تشغل هذه المنطقة مساحة واسعة من سطح المحافظة اذ تحدها من ثلاث جهات هي الشمال والشرق والغرب تتمثل بجبل بيخير (الجبل الأبيض) وجبال باكرمان وجبل كاره وجبل عقره إذ تعد اهم السلاسل الجبلية فيها.

منطقة الهضاب والسهول :

تشغل هذه المنطقة الأقسام الجنوبية والجنوبية الغربية من المحافظة، ومنها سهل زاخو (السندي) وسهل العمادية.



نشاط

هل سبق وان زرت المناطق الجبلية التي تكسوها الثلوج في فصل الشتاء؟ اكتب ثلاثة اسطر تصف جمال الطبيعة في محافظة دهوك.

المناخ

يعد مناخ المحافظة جزءاً من مناخ البحر المتوسط الرطب الذي يتميز بشتاء بارد يزداد فيه سقوط الثلوج وكمية الأمطار لتصل احياناً إلى اكثر من (١٠٠٠) ملم، أما صيفاً فتنتميز المحافظة بصيف معتدل تصل معدلات الحرارة فيه إلى ٣٢م.

الموارد المائية :

لقد كان لمناخ المحافظة أثرٌ كبيرٌ في تنوع مصادر المياه فيها بين الأمطار والثلوج ومياه العيون والينابيع، فضلاً عن المياه السطحية التي تجري فيها والتي تتمثل بنهر دجلة والروافد المغذية له وبعض الأنهار الصغيرة التي تنحدر من الجبال ويمكن تقسيم تلك المصادر الى الاقسام الاتية.

١- **نهر دجلة** : يدخل نهر دجلة في الأقسام الشمالية من المحافظة وتحديدًا عند قرية فيشخابور وتمثل تلك المنطقة بداية لدخول النهر إلى الأراضي العراقية.

٢- **الخابور**: يعد اول الروافد المغذية لنهر دجلة يجري في الأقسام الوسطى من سطح محافظة دهوك ويعد الشريان الحيوي لجميع الأنشطة الاقتصادية للمحافظة.

٣- العيون والينابيع : تتوزع مياه العيون والينابيع على مساحة واسعة من سطح محافظة دهوك، ولاسيما في منطقة العمادية وسولاف وزاخو وتعد مورداً جيداً لكثير من الاستعمالات المنزلية والزراعية.

مشاريع السيطرة والخرن:

وتقع في الأقسام الجنوبية الغربية من المحافظة وتتمثل ببحيرة وسد دهوك اللذين يستفاد منهما في خزن المياه وتوليد الطاقة الكهربائية، فضلاً عن تفرع العديد من الجداول الإروائية والانهار التي تخدم المحافظات المجاورة لها، كما يمثل سد وبحيرة الموصل حدوداً مشتركة بين كلٍ من محافظتي دهوك ونيوى.



سد دهوك



نشاط

يقوم المعلم بإرشاد التلاميذ إلى موقع المحافظة والمظاهر الطبيعية من خلال استعمال خريطة العراق الإدارية.

النشاط الاقتصادي

تتمتع المحافظة بالعديد من المقومات الاقتصادية ويمكن توزيعها على النحو الآتي:

الزراعة :

لقد ساعد مناخ المحافظة الذي يتميز بتوافر مصادر المياه والتربة الخصبة على تنوع المحاصيل الزراعية، لا سيما محاصيل الحبوب كالقمح، فضلاً عن المحاصيل الصناعية كالبنجر والتبغ، فضلاً عن زراعة العديد من أشجار الفاكهة، وأشجار اللوز، والجوز، والتين وغيرها من المحاصيل الزراعية، كما ساعد مناخها على توافر المراعي الطبيعية، وتربية أعداد كبيرة من الثروة الحيوانية، ولاسيما الأغنام والأبقار والماعز.

الصناعة :

تشتهر محافظة دهوك بالعديد من الصناعات، ولاسيما الصناعات الغذائية والإنشائية كما تتمتع المحافظة بحكم موقعها الجغرافي بمركز تجاري مهم، إذ تتميز بوجود العديد من المنافذ الحدودية مع دولتي تركيا وسوريا، والتي كان لها اهمية كبيرة في تنشيط التبادل التجاري بين العراق من جهة و تركيا وسوريا من جهة أخرى، كما يمر من خلالها انبوب النفط العراقي – التركي المار عبر محافظة كركوك إلى تركيا ثم الى موانئ البحر المتوسط.

طرق النقل والمواصلات

تضم المحافظة شبكة من طرق النقل الداخلية التي تربطها بالمحافظات المجاورة لها وبحكم موقعها الجغرافي أصبحت المحافظة ممراً للطرق البرية التي تربط العراق مع الدول المجاورة، ولاسيما تركيا وسوريا ومن اهم تلك الطرق:

(فقط للأطلاع)

طريق دهوك – تركيا، طريق دهوك – اربيل.

طريق دهوك – الموصل.

طريق دهوك - السليمانية.

السكان:

يبلغ عدد سكان محافظة دهوك قرابة (١,٢٠٠,٠٠٠) نسمة، بحسب التقديرات الإحصائية لعام (٢٠١٤).

السياحة والاصطياف:

لقد أسهم مناخ المحافظة الذي يتميز باعتداله في فصل الصيف على تعدد المناطق السياحية في المحافظة، اذ تشكل مناطق جيدة لأغراض الراحة والاستجمام ومن اهم تلك المناطق:

- ١- مصيف زاويته
- ٢- مصيف سواره توکا
- ٣- مصيف سرسنگ
- ٤- مصيف انيشكاي
- ٥- مصيف سولاف
- ٦- عيون المياه المعدنية



مصيف سولاف



مصيف زاويته

هل سبق وان زرت أحد المصايف في محافظة دهوك؟ صفْ لزملائك المناظر الطبيعية التي شاهدتها هناك.

نبذة تاريخية عن محافظة دهوك:

كشفت التنقيبات الأثرية في سبعينيات القرن الماضي عن تمثال نصفي من البرونز يمثل الملك الاكدي نرام - سين (٢٢٩١ - ٢٢٥٥) ق.م، عرف بتمثال باسطكي وعثر عليه في الطريق المؤدية الى محافظة دهوك ويظهر الملك نرام - سين جالساً على قاعدة دائرية عليها كتابات مسمارية وباللغة الاكدية تشير الى دوره في توحيد دويلات المدن وانتصاراته وفتوحاته وهو محفوظ في المتحف العراقي في بغداد. وفي عام ١٨٧٣م كانت دهوك قضاء تابع الى ولاية الموصل، ثم اصبحت لواء دهوك في ١٩٦٩/٥/٢٧، وبعد صدور قانون المحافظات رقم ١٥٩ لسنة ١٩٦٩ اصبحت محافظة.

ومن الاماكن الاثرية في محافظة دهوك:

١- **قلعة العمادية الاثرية** : وقد سميت بهذا الاسم نسبة الى مؤسسها عماد الدين زنكي الذي بناها عام (٥٣٧هـ) وتبعد عن مركز المحافظة بحدود (٩٠ كم) .

٢- **الجسر العباسي** : وهو مشيد بالحجر على نهر الخابور في قضاء زاخو ويعد من الاثار القديمة والمهمة. ولايزال شاخساً وبحالته الطبيعية ويمتاز بروعة هندسته المعمارية من حيث البناء ويبعد عن مركز المحافظة بحدود (٥٥ كم) .

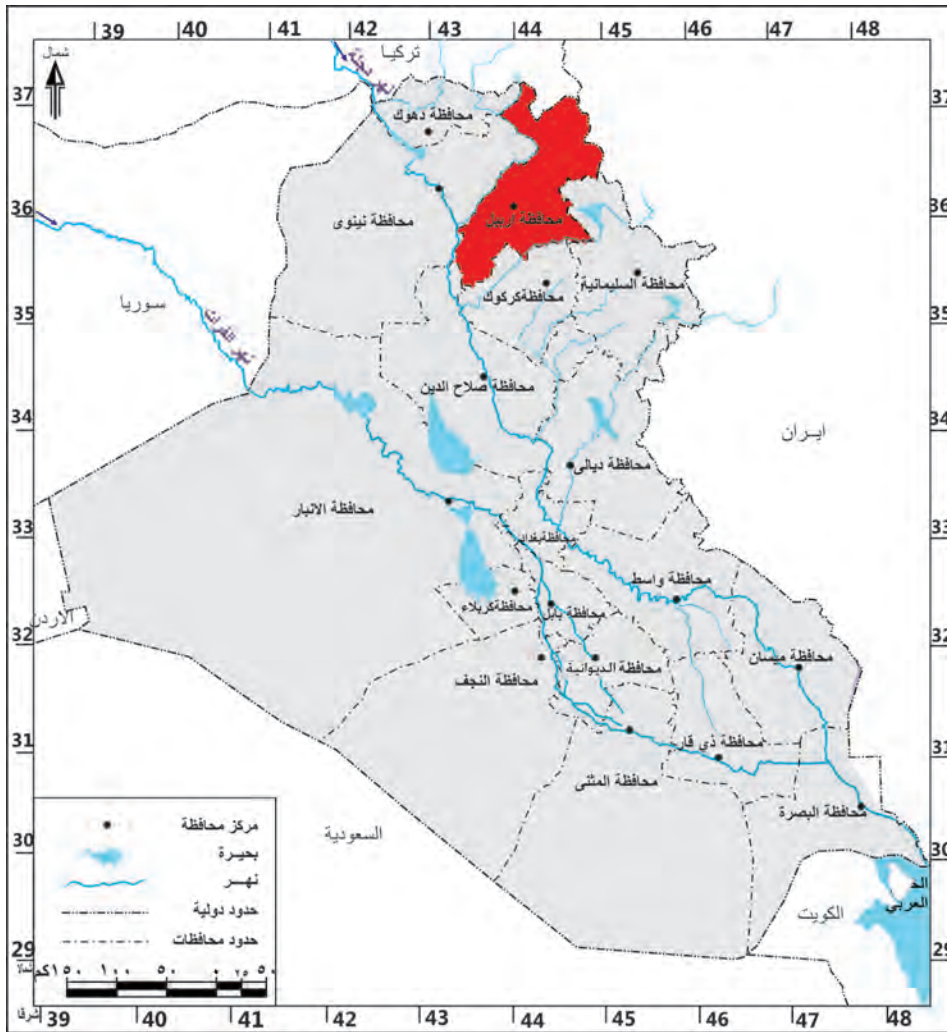
نشاط

- ١- هل تجاور محافظة دهوك إحدى الدول المجاورة للعراق؟ اذكرها.
- ٢- اعمل لوحة جدارية والصق عليها اهم المعالم الحضارية لمحافظة دهوك.

محافظة اربيل

الموقع الجغرافي:

تقع محافظة اربيل في شمال وطننا العراق وهي احدى محافظات إقليم كردستان العراق، وتقع في الجهة الشمالية الشرقية تحدها من الشمال تركيا ومن الغرب محافظتا دهوك ونينوى، من الجنوب تحدها محافظتا كركوك والسليمانية ومن الجنوب الغربي محافظة صلاح الدين. أما حدودها الدولية من جهة الشرق فتعد جزءاً من الحدود الدولية بين العراق وإيران لاحظ الخريطة رقم (٦).



خريطة رقم (٦) الموقع الجغرافي لمحافظة أربيل

التضاريس:

تتميز محافظة اربيل بتنوع مظاهر السطح فيها والذي يمكن ان نقسمه على قسمين رئيسيين هما:

١ - منطقة الجبال العالية :

تشغل هذه المنطقة الأقسام الشمالية الشرقية من المحافظة وتتكون من سلاسل جبلية يكون اتجاهها من الشمال الغربي الى الجنوب الشرقي وتتراوح ارتفاعاتها ما بين البسيطة الى الشاهقة

وتتراوح ما بين (٢١٠٠-٣٦٠٠ م) فوق مستوى سطح البحر ومن أهم سلاسلها الجبلية هي سلسلة حصاروست التي تضم أعلى القمم الجبلية، وتتمثل بقمة جبل هلكرد الذي يصل ارتفاعه إلى قرابة (٣٦٠٠) م وجبل سفين وجبل حرير.

٢- منطقة السهول والهضاب:

تشغل هذه المنطقة الجهات الجنوبية الغربية من المحافظة ويتراوح ارتفاعها بين (٢٥٠-٦٠٠ م) فوق مستوى سطح البحر، وأهم أقسامها هي سهل أربيل، سهل ديبكة، سهل مخمور، فضلاً عن وجود العديد من الهضاب التي تنتشر على مساحة واسعة من سطح المحافظة.



جبل هلكرد

المناخ :

لقد كان لموقع محافظة أربيل المتمثل في شمال وطننا العراق والتنوع في مظاهر سطحها من حيث الجبال الشاهقة الارتفاع والسهول والوديان دوراً كبيراً في التأثير على مناخها إذ امتازت بسيادة مناخ البحر المتوسط الذي يتميز بصيف معتدل الحرارة، وبشتاء بارد، أما كمية الأمطار فتتراوح ما بين (٤٠٠-٨٠٠) ملم، مع فرصة كبيرة لتساقط الثلوج، ولاسيما على قمم الجبال.

السكان:

يبلغ عدد سكان محافظة أربيل (١,٧٥٠,٠٠٠) نسمة، بحسب التقديرات الإحصائية لعام (٢٠١٤).



نشاط من ضمن أي قضاء تقع محلثك السكنية ؟

طرق النقل والمواصلات :

تتميز اربيل بموقع جغرافي جعلها حلقة وصل بين العراق والدول المجاورة، فضلاً عن كونها حلقة وصل ما بين مدن العراق الشمالية الأخرى، ولأربيل عدة طرق برية طويلة تربطها بمحيطها الداخلي العراقي والدولي، من خلال طرق برية اهمها: **(فقط للأطلاع)**

١- طريق اربيل – الموصل

٢- طريق اربيل – كركوك – بغداد

٣- طريق اربيل – دهوك – تركيا

٤- طريق اربيل – السليمانية- ايران

كما وتضم اربيل شبكة من الطرق الداخلية التي تربط المدينة بالأقضية والنواحي التابعة لها، وقد سهلت تلك الشبكة عمليات النقل التجاري وتبادل السلع بين المحافظة والمدن الأخرى، كما تضم المحافظة شبكة من النقل الجوي الذي يربط العراق بمحافظاته، ودول العالم عن طريق مطار اربيل الدولي.

الموارد المائية

تتنوع الموارد المائية في محافظة اربيل بين المياه السطحية والجوفية ومياه العيون والينابيع ويمكن تقسيمها على النحو الآتي:

١- المياه السطحية: وتتمثل بمجموعة من الانهار والمجاري المائية التي تتوزع على سطح المحافظة ومن اهمها:

أ- الزاب الكبير: وهو أحد روافد نهر دجلة ويعد النهر جزءاً من الحدود الإدارية ما بين محافظتي دهوك واربيل.

ب- الزاب الصغير: وهو أحد روافد نهر دجلة ويعد النهر جزءاً من الحدود الادارية ما بين محافظات السليمانية و اربيل وكركوك، كما يعد المصدر الرئيس لجميع الانشطة الزراعية والصناعية.

٢- مياه العيون والينابيع: تنتشر في محافظة اربيل العديد من العيون والينابيع التي تتعدد استعمالاتها ما بين الزراعية والصناعية، فضلاً عن ان بعضها يشكل موقعاً مهماً للسياحة والاصطياف.

النشاط الاقتصادي

الزراعة:

لقد اسهم مناخ المحافظة والذي يتميز بغزارة الأمطار وبتوافر التربة الخصبة على تنوع النشاط الزراعي فيها، اذ تزرع فيها العديد من المحاصيل الزراعية، لاسيما محاصيل الحبوب كالقمح ومحاصيل الفواكه والخضر، فضلاً عن زراعة العديد من المحاصيل الصناعية كالتبغ والبنجر كما تتمتع المحافظة بتنوع الأشجار كاللوز والجوز والتين التي تنتشر على مساحات واسعة في الاقسام

الشمالية من المحافظة، كما تشتهر المحافظة بتوافر المراعي الطبيعية، ولاسيما تلك المتاخمة لمنطقة الجبال مما جعلها تشتهر بالثروة الحيوانية، اذ تربي فيها العديد من الابقار والاعنام والماعز.

الصناعة

تشتهر المحافظة بتوافر الصناعات، ولاسيما الصناعات الغذائية والانشائية والكيميائية والغزل والنسيج والخشبية والورق، وشجع موقعها الجغرافي على نشاط حركة التبادل التجاري من خلال وجود الكثير من المنافذ التجارية ما بين العراق من جهة وتركيا وايران من جهة اخرى.

السياحة



شلال كلي علي بيك

لقد كان لمناخ المحافظة الذي يتميز بالاعتدال، ولاسيما خلال موسم الصيف بتواجد العديد من المواقع السياحية التي تشتهر بها المحافظة اذ يقصدها السياح من جميع انحاء وطننا العراق ومن اشهر هذه المصايف:

- ١- مصيف صلاح الدين
- ٢- مصيف حاج عمران
- ٣- مصيف بيخال
- ٤- مصيف شقلاوه



مصيف بيخال

نبذة تاريخية عن محافظة اربيل:

تتزرخ محافظة اربيل بالعديد من الاثار التاريخية والتي لاتزال اثارها موجودة إلى الان ومنها: **قلعة اربيل:** لقد ذكرها السومريون قبل اربعة الاف عام بأسم (أور- بيلوم واربيليوم). اما في الكتابات الاشورية والبابلية فقد اصبح اسم المدينة (أوربائيلو) اي مدينة الآلهة الاربعة، تقع شمال الزاب الأعلى. وهي من الناحية الدينية كانت مركزاً لعبادة الالهة البابلية (عشتار). وقد وجدت فيها الواح مسمارية لملوك اشوريين منهم اشور بانبيال وآخرون. وفي العصور الاسلامية وصل العرب المسلمون الى اربيل زمن الخليفة عمر بن الخطاب (رضي الله عنه) عام (٣٢) هـ بقيادة عتبة بن فرقد، إذ ازدهرت اربيل وقلعتها الشهيرة وضمت بين ثناياها دوراً قديمة للسكن. ومن الاثار الموجودة في اربيل منارتها المسماة بالمظفرية نسبة الى مظفر الدين حاكم اربيل وكانت المئذنة جزءاً من الجامع الكبير. وما فيها من زخارف اثرية جعلها شبيهة بمثيلاتها في الجامع النوري في الموصل وداقوق في كركوك. كانت اربيل لواءً تابعاً الى ولاية الموصل، حتى صدور قانون المحافظات رقم (١٥٩) لسنة ١٩٦٩ أصبحت محافظة.



نشاط

هل شاهدت قلعة اربيل؟ اكتب ما شاهدته عن هذا الصرح الحضاري الجميل.

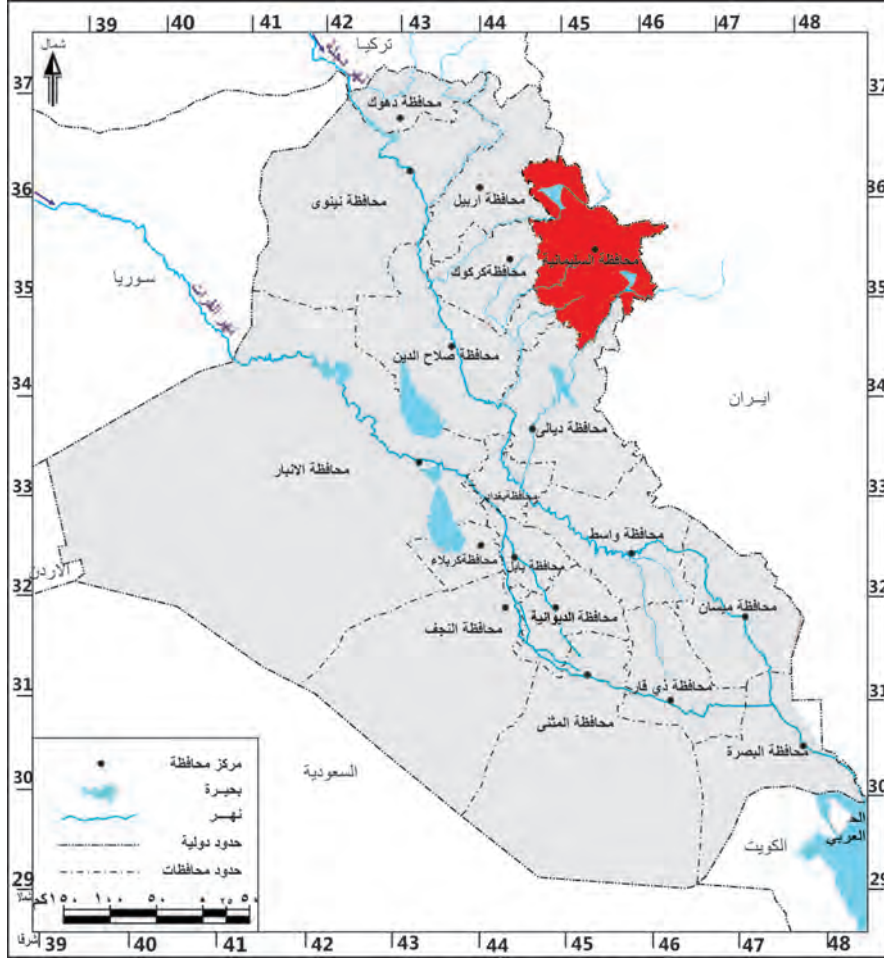


قلعة اربيل

محافظة السليمانية

الموقع الجغرافي:

تقع محافظة السليمانية في شمال شرق وطننا العراق وهي احدى محافظات اقليم كردستان العراق تحدها من الشمال محافظة اربيل ومن الغرب محافظة كركوك ومن الجنوب محافظة ديالى ومن الجنوب الغربي محافظة صلاح الدين. اما حدودها الشرقية فتعد جزءاً من الحدود الدولية التي تتمثل بالحدود العراقية الايرانية لاحظ الخريطة رقم (٧)



خريطة رقم (٧) الموقع الجغرافي لمحافظة السليمانية

التضاريس:

تتميز محافظة السليمانية بتنوع تضاريسها بين جبال وسهول ووديان وهضاب، ويمكن ان نقسمها على الأقسام الآتية:

١- منطقة الجبال :

تقع هذه المنطقة في الجهة الشمالية الشرقية من المحافظة وهي جبال شديدة الارتفاع والانحدار والالتواء يتراوح ارتفاعها ما بين (١٧٠٠ - ٣٠٠٠) م ومن اشهرها جبال قنديل، وجبال بازيان، وجبال قره داغ.



جبال قره داغ

٢- منطقة السهول والهضاب :

تقع في الاقسام الجنوبية والغربية من منطقة الجبال وتمتد حتى حدود المحافظات المجاورة لمحافظة السليمانية ومن اشهرها هضبة بنجوين وجوارته اما السهول المنبسطة فتتحصر عادة بين الهضاب والجبال، ومن اشهرها سهل شهرزور وسهل رانية.

المناخ

لقد كان لموقع محافظة السليمانية وتضاريسها اهمية كبيرة في التأثير على مناخها، اذ يسود فيها مناخ البحر المتوسط الذي يمتاز بصيف معتدل وبشتاء بارد ممطر يتميز بارتفاع معدلات سقوط الامطار، اما من حيث معدلات درجات الحرارة والامطار فلا تختلف كثيراً عن محافظة اربيل.

الموارد المائية

تتنوع الموارد المائية في محافظة السليمانية بين المياه السطحية والجوفية ومياه العيون والينابيع، ويمكن تقسيمها على النحو الآتي:

١- المياه السطحية : وتتمثل بمجموعة من الأنهار والمجاري المائية التي تتوزع على سطح المحافظة ومن اهمها:

- أ- الزاب الصغير:** وهو احد روافد نهر دجلة ويعد النهر جزءاً من الحدود الإدارية ما بين محافظات السليمانية و اربيل وكركوك ويعد النهر المصدر الرئيس لجميع الانشطة الزراعية والصناعية.
- ب- نهر ديالى (سيروان):** وهو احد روافد نهر دجلة تشترك منابعه بين العراق وايران يدخل محافظة السليمانية من جهتها الجنوبية الشرقية ونظراً لاهميته فقد اقيم عليه سد دربندخان.
- ج- نهر العظيم :** تقع منابعه عند جبال قره داغ ويجري النهر في الاقسام الجنوبية من المحافظة، ويشكل نهر العظيم حدوداً مشتركة مع محافظتي صلاح الدين وديالى.

٢- مياه العيون والينابيع: تنتشر في محافظة السليمانية العديد من العيون والينابيع التي تتعدد استعمالاتها ما بين الزراعية والصناعية، فضلاً عن ان بعضها يشكل موقعاً مهماً للسياحة والاصطياف.

مشاريع السيطرة والخزن

١- **سد دوكان على الزاب الصغير:** وهو عبارة عن بحيرة اصطناعية كبيرة تستعمل لخزن كميات كبيرة من المياه للاستفادة منها لأغراض الري وتوليد الطاقة الكهربائية.



سد دوكان

٢- **سد دربندخان:** يقع على نهر ديالى ويستفيد منه في توليد الطاقة الكهربائية.

طرق النقل والمواصلات

تتمتع محافظة السليمانية بحكم موقعها الجغرافي بشبكة من طرق النقل البرية، التي تربطها بالمحافظات المجاورة لها ومن اهم تلك الطرق: (فقط للأطلاع)

١- طريق السليمانية - اربيل

- دهوك - تركيا

٢- طريق السليمانية - كركوك

٣- طريق السليمانية - صلاح الدين

٤- طريق السليمانية - بغداد

و تضم المحافظة ايضا شبكة من الطرق الداخلية التي تربطها بالأقضية والنواحي التابعة لها، اما على صعيد النقل الجوي فيوجد في المحافظة مطار السليمانية.



سد دربندخان

السكان:

يبلغ عدد سكان محافظة السليمانية قرابة (٢,٠٠٠,٠٠٠) نسمة بحسب التقديرات الإحصائية لعام (٢٠١٤).

النشاط الاقتصادي :

الزراعة:

لقد ساعد مناخ محافظة السليمانية الذي يتميز بتوافر مياه الامطار والترربة الجيدة على تنوع غطائها النباتي، اذ ان معظمه يتمثل بالغابات والاشجار، ولاسيما أشجار الجوز واللوز والتين، فضلاً عن زراعة العديد من المحاصيل الغذائية كالحبوب بأنواعها والمحاصيل الصناعية كالتبغ بالدرجة الاولى، فضلاً عن زراعة انواع مختلفة من الفواكه والخضر.

الصناعة:

تشتهر محافظة السليمانية بالكثير من الصناعات، اهمها صناعة السكاير والسكر والصناعات الغذائية كالتعليب، والمشروبات، والصناعات الانشائية، اذ تشتهر المحافظة بوجود العديد من معامل الاسمنت فيها كمعامل الاسمنت في سرجنار وطاسلوجه وبازيان.



معمل اسمنت بازيان

السياحة :

لقد أسهم مناخ محافظة السليمانية المتمثل بمناخ البحر المتوسط الذي يتمتع بصيف معتدل الحرارة، وبشتاء بارد ممطر، على تنوع المناطق السياحية فيها اذ يقصدها العديد من السياح، لاسيما خلال موسم الصيف لاغراض الراحة والاستجمام ،ومن اهم تلك المواقع:

١- مصيف سرجنار

٢- سد (خزان) دوكان والمجمع السياحي

٣- سد خزان دربندخان والمجمع السياحي



مصيف سرجنار



نشاط اجمع صوراً تمثل المظاهر الطبيعية (جبال، انهار، مناطق سياحية) تصف جمال الطبيعة في محافظة السليمانية.



الملك نرام سين

نبذة تاريخية عن محافظة السليمانية:

اكتشفت أقدم الآثار الحجرية فيها واستمر الاستيطان فيها حتى العصور التاريخية القديمة. اطلق عليها الاشوريون وعلى سهل شهرزور اسم زاموا، ويعد سهل شهرزور من اخصب سهول شمال العراق.

عثرت على اثار العصر الحجري الوسيط من قبل البعثة الاثرية الامريكية في منتصف القرن العشرين في كهف (هزار مرد) الذي يقع على بعد (١٨) كم جنوب غرب مدينة السليمانية.

اسسها والي بغداد الشهير سليمان باشا الكبير بحدود عام ١٧٨٠م .

ووجدت اقدم اثار العصر الحجري القديم عام (١٩٢٨)م في كهف زرزي الذي يقع شمال غربي مدينة السليمانية وهي عبارة عن الآت مصنوعة من حجر الصوان والزجاج البركاني وبعض عظام الحيوانات. كانت السليمانية لواءً تابعاً الى ولاية الموصل، حتى صدور قانون المحافظات رقم (١٥٩) لسنة ١٩٦٩ إذ اصبحت محافظة.



الآلات حجرية وجدت في السليمانية



نشاط

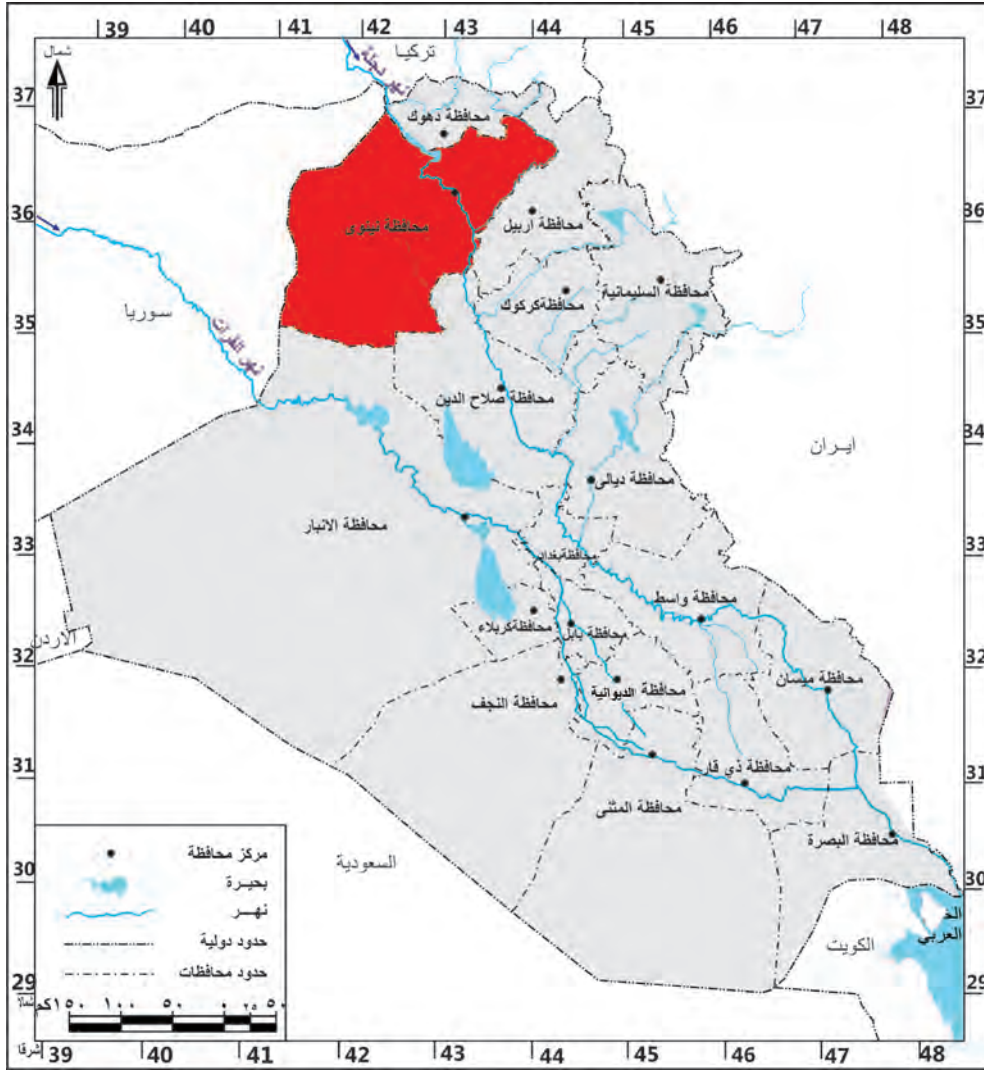
١- اعمل لوحة جدارية وضع عليها صوراً للملك الاكدي (نرام - سين) و(آشور ناصربال) وبعض الآلات الحجرية.

٢- عدد محافظات العراق الشمالية وحددها على الخريطة.

محافظة نينوى

الموقع الجغرافي

تقع محافظة نينوى في القسم الشمالي الغربي من وطننا العراق، تحدها من الشمال محافظة دهوك ومن الشرق محافظة أربيل ومن الجنوب كلٌّ من محافظتي صلاح الدين والانبار، أما حدودها من جهة الغرب والشمال الغربي فتعد جزءاً من الحدود الدولية بين العراق وسوريا من جهة والعراق وتركيا من جهة أخرى. لاحظ الخريطة رقم (٨)



خريطة رقم (٨) الموقع الجغرافي لمحافظة نينوى

نشاط

هل تجاور محافظتك إحدى الدول المجاورة للعراق؟ حددها على الخريطة.

التضاريس :

نظراً لسعة مساحة محافظة نينوى يمكن ان نقسم تضاريسها على ثلاثة أقسام هي:

١ - المنطقة الجبلية:

وتقع في أقصى الشمال والشمال الشرقي من المحافظة وتعد جبالها جزءاً من سلسلة الجبال الممتدة في محافظة دهوك و تتمثل بجبال باكرمان وعقرة.

٢ - المنطقة المتموجة:

وتعد منطقة انتقالية بين المنطقة الجبلية والسهل الرسوبي وتكون على شكل قوس من المرتفعات، يمتد من الشمال الغربي وحتى الجنوب الشرقي وتتمثل بمرتفعات مكحول و ابراهيم وعطشان وسنجار وعدي، ويتراوح معدل ارتفاعها بين (١٥٠ - ٢٥٠) م.

٣ - منطقة الهضبة :

وتتمثل بهضبة الجزيرة التي تمتد من جنوب مرتفعات مكحول وعدي وسنجار شمالاً وحتى البادية الغربية والسهل الرسوبي جنوباً، ويتكون سطحها من أراضٍ منبسطة تتخللها هضاب وروابٍ وكثبانٍ رملية متباينة الارتفاع يتراوح ارتفاعها ما بين (١٥٠ - ٢٠٠) م كما

تتخللها منخفضات وأحواض وأودية تجري فيها مياه الأمطار لتكون بحيرات ومسطحات مائية.

المناخ :

تتميز محافظة نينوى بتنوع مناخها نتيجة لتنوع تضاريسها، إذ يسود في أقسامها الشمالية مناخ البحر المتوسط الذي يتميز بصيف معتدل وبشتاء بارد ممطر، اما في أقسامها الجنوبية فيسود فيها مناخ السهوب الانتقالي وفي الغالب يتميز مناخ المحافظة بالاعتدال، ولاسيما خلال فصل الربيع والخريف لذا أطلقت عليها تسمية (أم الربيعين).



جبل سنجان



مرتفعات مكحول

أما من حيث كمية الأمطار فتختلف هي الأخرى باختلاف تضاريسها، إذ تزداد كمية الأمطار الساقطة في الأقسام الشمالية وتقل كلما اتجهنا جنوباً وفي الغالب تتراوح معدلاتها السنوية ما بين (٣٠٠ - ٣٥٠) ملم.

السكان:

يبلغ عدد سكان محافظة نينوى قرابة (٣,٥٠٠,٠٠٠) نسمة بحسب التقديرات الإحصائية لعام (٢٠١٤).

طرق النقل والمواصلات :

نظراً لموقع محافظة نينوى المميز والذي يشرف على حدود دولتين هما سوريا وتركيا، لذا فقد اشتهرت المحافظة بتوافر المنافذ الحدودية التي كان لها دورٌ في انعاش حركة التبادل التجاري بين الدول وتضم محافظة نينوى شبكة من الطرق التي تربطها بالمحافظات الأخرى ومن أهم تلك الطرق: (فقط للأطلاع)

طريق الموصل - دهوك / طريق الموصل - اربيل / طريق الموصل - كركوك
طريق الموصل - صلاح الدين / طريق الموصل - بغداد

وتضم المحافظة أيضاً خطأ لسكة الحديد يربطها ببغداد مروراً بمحافظة صلاح الدين، كما تضم المحافظة شبكة من طرق النقل الداخلية التي تربطها بالأقضية والنواحي التابعة لها وقد سهلت تلك الشبكة عمليات النقل التجاري وتبادل السلع بين المحافظة والمدن الأخرى، كما تضم المحافظة شبكة من النقل الجوي الذي يربط العراق بمحافظاته عن طريق مطار الموصل.

الموارد المائية:

تتنوع الموارد المائية في محافظة نينوى بين المياه السطحية ومياه العيون والينابيع ويمكن تقسيمها على النحو الآتي:

١- المياه السطحية: وتتمثل بنهر دجلة الذي يخترق المحافظة من الشمال الى الجنوب ويعد الشريان الحيوي لمختلف الأنشطة الاقتصادية فيها .

٢- مياه العيون والينابيع: تتوزع هذه المصادر المائية في العديد من أقسام المحافظة، ولاسيما الشمالية التي تعددت استعمالاتها بين الزراعية والصناعية، فضلاً عن ان بعضها يشكل موقعاً مهماً للسياحة والاصطياف كما ان لبعضها أثراً صحياً من خلال معالجة العديد من الأمراض الجلدية. وتتميز المحافظة بتوافر العديد من المشاريع الاروائية اهمها مشروع ري الجزيرة الشمالي والجنوبي، فضلاً عن مشاريع السيطرة والخزن وأهمها سد الموصل الذي يقع شمال مدينة الموصل ويعد واحداً من اكبر المشاريع الخزنوية.



سد الموصل

النشاط الاقتصادي الزراعة:

لقد أسهم مناخ المحافظة والذي يتميز بتوافر الأمطار والتربة الخصبة على تنوع النشاط الزراعي فيها، وتزرع فيها العديد من المحاصيل الزراعية اهمها محاصيل الحبوب كالقمح والشعير، وتحتل المحافظة المراتب الاولى في زراعة محاصيل الحبوب المعتمدة على مياه الأمطار، فضلا عن زراعة العديد من المحاصيل الصناعية كالذرة والبنجر ومحاصيل العلف.



زراعة القمح في محافظة نينوى

الصناعة:

تشتهر المحافظة بتوافر العديد من الصناعات فيها لاسيما الصناعات الغذائية والصناعات الانشائية كمصانع الاسمنت ومنها معمل إسمنت بادوش وحمام العليل وسنجار والصناعات الجلدية والغزل والنسيج والصناعات الخشبية والورق والتكرير , كما شجع موقعها الجغرافي على نشاط حركة التبادل التجاري من خلال وجود الكثير من المنافذ التجارية بين العراق من جهة وتركيا وسوريا من جهة اخرى.



معمل إسمنت بادوش



نشاط

هل سبق وان زرت احد المصانع الكبيرة في محافظة نينوى؟ اكتب ثلاثة اسطر تصف فيها مشاهدتك الأعمال الصناعية في ذلك المصنع.

الثروات المعدنية

تشتهر محافظة نينوى بتوافر العديد من الثروات المعدنية ومن اهمها الكبريت والفسفات في منطقة المشراق، كما تضم المحافظة حقولا كبيرة لانتاج النفط اهمها حقول عين زالة وبطمة والقيارة.

السياحة

لقد كان لمناخ المحافظة الذي يتميز بالاعتدال، ولاسيما خلال موسم الصيف، الأثر الأكبر لنشوء العديد من المواقع السياحية التي تشتهر بها المحافظة اذ يقصدها السياح من جميع انحاء وطننا العراق ومن اشهر هذه المواقع:

- ١- مجمع الغابات السياحي ٢- دور الشلالات ٣- الجزيرة السياحية ٤- سد وبحيرة الموصل
- ٥- عيون المياه المعدنية وأهمها حمام العليل، والعيون الكبريتية.



دور الشلالات



غابات الموصل

نبذة تاريخية عن محافظة نينوى:

وهي اكبر محافظات العراق الشمالية مساحة، إذ اتخذها الاشوريون دولة لهم واسسوا فيها اربع عواصم هي: اشور العاصمة الدينية، النمرود (كالح)، نينوى العاصمة الادارية، دورشروكين (خرسباد) والحضر، وهي تمثل عواصم ادارية وعسكرية، وقد صارت هذه المدن منطلقاً لامبراطوريتهم المترامية الاطراف كما صارت لها اهمية متميزة في العصرين الاموي والعباسي.



جامع النبي جرجيس (عليه السلام)



جامع النبي يونس (عليه السلام)



إحدى الكنائس في الموصل

ومن اهم المواقع التاريخية فيها موقع نمريك الاثري الذي يعد من اقدم القرى الزراعية في الالف الثامن قبل الميلاد ويقع بالقرب من قرية فايدة شمالي الموصل.

تعد الموصل من المدن القديمة اذ كانت مركزاً حضارياً في العصور الاشورية كما كانت موطناً للعديد من القبائل العربية قبل الاسلام . أما في العصر الإسلامي فقد حررها العرب المسلمون في زمن الخليفة عمر بن الخطاب (رضي الله عنه) من السيطرة الساسانية، ولقبوها بالموصل لأنها تصل بين الشام ومنطقة خورستان، او بين الجزيرة والعراق، كما سموها ايضاً بالحدباء لان فيها منارة المسجد الكبير النوري وايضاً لتحذب مسار نهر دجلة فيها، كما سميت أم الربيعين لأن الله منَّ عليها بربيعين اثنين في السنة، كانت لواءً تابعاً الى ولاية الموصل، حتى صدور قانون المحافظات رقم (١٥٩) لسنة ١٩٦٩، إذ اصبحت محافظة.

ومن معالمها التاريخية: الجامع الكبير (الجامع النوري)، وجامع النبي يونس، وجامع النبي جرجيس (عليهم السلام)، وقره سراي، قلعة باشطابيا، فضلاً عن الكثير من الكنائس والاديرة التاريخية.



نشاط

اجمع صور لأهم المعالم التاريخية في محافظة نينوى في لوحة جدارية وعلقها في صفك.

وأهم المدن التاريخية في محافظة نينوى :

١- آشور :

وهي العاصمة الدينية لبلاد آشور واسم الالههم الرئيس . وتقع على بعد (١١٠) كم جنوب الموصل وهي تحاذي جبال حمرين. وتطل على نهر دجلة من الشرق. وقد احيطت المدينة بسورين داخلي وخارجي تخترقها عدة ابواب.



قلعة الشرقاط



الملك آشور بانيبال

٢- نمرود (كالح) :

وهي ثاني عواصم الاشوريين ويعد الملك الاشوري (شلمانصر الاول) (القرن الثالث عشر ق.م) مؤسسها. ومن اشهر معالمها التاريخية الزقورة وهي في الاصل ذات قاعدة مربعة ويتم الصعود الى طبقاتها عبر سلم حلزوني على غرار ملوية سامراء.

٣- نينوى :

سميت المحافظة باسمها وهي ثالث عاصمة للاشوريين. حيث حكم البلاد العديد من الملوك الاشوريين من اشهرهم الملك آشور بانيبال (٦٦٩-٦٢٧ ق.م) .

٤- دور شروكين (خرسباد) :

وهي العاصمة الرابعة للاشوريين التي شيدها الملك سرجون الثاني (٧٢١ - ٧٠٥ ق.م) وهي مربعة الشكل سورها مشيد من اللبن ولها سبعة ابواب. هذه العاصمة لم تسكن بعد وفاة مشيدها سرجون الثاني الا سنة واحدة فقط، اذ عاد ابنه سنحاريب إلى العاصمة نينوى.



مدينة دور شروكين



الثور المجنح

٥- مدينة الحضر:

وتقع على مقربة من وادي الثرثار . وتعد مدينة الحضر احدى المدن العربية التي امتازت بفنون العمارة والنحت واعمال المعادن وفنون الحرب .
لقد بدأت مدينة الحضر بالنمو الفعلي منذ القرن الثالث ق.م. كان حكام الحضر من العرب وقد جمعوا بين السلطتين الدينية والدينيوية.ومن اهم ملوكها سنطروق الأول وسنطروق الثاني.



الحضر

محافظة كركوك

الموقع الجغرافي :

يتميز الموقع الجغرافي لمحافظة كركوك بأهمية كبيرة لكونه يمثل الجسر الرابط بين محافظات شمال العراق من جهة وبين محافظات وسطه وجنوبه من جهة أخرى، تقع محافظة كركوك في الجزء الشمالي الأوسط من وطننا العراق، تحدها من الشمال محافظة أربيل ومن الشرق محافظة السليمانية ومن الجنوب والغرب محافظة صلاح الدين لاحظ الخريطة رقم (٩).



خريطة رقم (٩) الموقع الجغرافي لمحافظة كركوك

نشاط خذ خريطة صماء للعراق وحدد عليها المحافظة التي تجاور محافظة كركوك من جهة الشمال والجنوب.

التضاريس :

تتميز محافظة كركوك بوقوعها في منطقة انتقالية بين المنطقة المتموجة ومنطقة السهل الرسوبي، لذا يمتاز سطحها بتنوع مظاهر التضاريس الموجودة عليه بين التلال والهضاب والسهول ومن ابرز المظاهر التضاريسية للمحافظة هي:

١- التلال :

تعد من أهم المظاهر التضاريسية المميزة لسطح المحافظة وتتركز في الأقسام الجنوبية الغربية منها وتتصف بكونها متباعدة وقليلة الارتفاع، وأهمها تلال حميرين التي يصل معدل ارتفاعها الى (٣٥٠)م وبعرض يتراوح ما بين (٥-١٢) كم وتلال نطف داغ وكاني دوميلان.

٢- الهضاب :

وتتركز في الأقسام الشمالية الشرقية من المحافظة وأهمها هضبة كركوك التي يتراوح معدل ارتفاعها ما بين (٢٠٠-٣٠٠) م.

٣- السهول :

وتتركز في معظم أقسام سطح المحافظة ويرجع سبب تكوينها الى الترسبات التي حملتها الأنهار الجارية ومنها سهل حميرين وسهل الحويجة.

المناخ

تقع محافظة كركوك ضمن مناخ السهوب، وهو مناخ انتقالي بين مناخ البحر المتوسط الذي يتركز في الأقسام الشمالية من المحافظة وبين المناخ شبه الصحراوي في الجنوب وتبعاً لذلك فقد تميز مناخ المحافظة باعتدال درجات الحرارة في الأقسام الشمالية فيما تتميز الأقسام الجنوبية بارتفاع درجات الحرارة اذ تصل درجة حرارة فصل الصيف الى (٤٣)م ، اما الأمطار فتتباين هي الأخرى في معدلاتها باختلاف تضاريس المحافظة اذ تزداد في الأقسام الشمالية وتقل كلما اتجهنا جنوباً وتتراوح معدلاتها ما بين (٢٥٠-٥٠٠) ملم .

السكان

يبلغ عدد سكان محافظة كركوك (١,٥٠٠,٠٠٠) نسمة بحسب التقديرات الإحصائية لعام (٢٠١٤).

الموارد المائية :

تقسم الموارد المائية في محافظة كركوك على قسمين رئيسيين هما:

١- **المياه السطحية:** وتتمثل بالأنهار والروافد التي تجري في المحافظة وأهمها:

• **الزاب الصغير:** وهو احد روافد نهر دجلة يجري في الأقسام الشمالية الشرقية من المحافظة ويكون النهر في بداية جريانه حدوداً مشتركة مع محافظة اربيل ثم يجري بعد ذلك داخل محافظة كركوك حتى مصبه في نهر دجلة عند منطقة الفتحة.



سد العظيم



سد دبس

• **العظيم:** ويجري في الأقسام الجنوبية الغربية ويعتمد في مصادر تغذية على مياه الأمطار والثلوج ويتكون هذا النهر من اربعة روافد ثلاثة منها في محافظة كركوك والرافد الرابع في محافظة صلاح الدين.

٢- **العيون والينابيع:** تنبع هذه المياه من سفوح الجبال والمرتفعات ويعتمد توزيعها الجغرافي على كمية الأمطار الساقطة اذ تزداد بزيادتها وتتركز هذه المصادر في اغلب اقسام المحافظة ولاسيما في حميرين وكاني دوميلان. اما بالنسبة لمشاريع السيطرة والخزن فتتميز المحافظة بوجود عدد من المشاريع من اهمها سد دبس ومشروع ري الحويجة على الزاب الصغير.



نشاط

حاول ان تحدد مواقع السودد والأنهار في محافظة كركوك على خريطة العراق. بمساعدة معلمك.

طرق النقل والمواصلات :

سبق وان بينا بأن لموقع محافظة كركوك اهمية كبيرة لذا فأنها تعد حلقة الوصل بين مدن الشمال والوسط والجنوب لذلك فهي تتميز بتعدد طرق النقل المارة بها والخارجة منها، وهي:

(فقط للأطلاع) طريق كركوك - اربيل / طريق كركوك - الموصل

طريق كركوك - السليمانية / طريق كركوك - صلاح الدين

كما تضم المحافظة خطاً لسكة الحديد الذي يربطها بمحافظة صلاح الدين حتى مدينة حديثة في محافظة الانبار، وتضم محافظة كركوك شبكة من الطرق الداخلية التي تربطها بالاقضية والنواحي التابعة لها وقد سهلت تلك الشبكة عمليات النقل التجاري وتبادل السلع بين المحافظة والمدن الاخرى.

النشاط الاقتصادي

الزراعة :

تتميز محافظة كركوك بسيادة الطابع الزراعي، اذ تزرع فيها العديد من المحاصيل الزراعية واهمها القمح والشعير اذ تحتل زراعتها المراتب الاولى، فضلاً عن زراعة المحاصيل الصناعية كالذرة والقطن وزهرة الشمس، كما تتميز المحافظة بتوافر العديد من المراعي الطبيعية اذ تربي فيها العديد من الحيوانات التي تشكل مورداً مهماً لأقتصاد المحافظة.

الصناعة :

تشتهر محافظة كركوك بالعديد من الصناعات، اهمها الصناعات الانشائية كالإسمنت والصناعات الغذائية والصناعات الجلدية والصناعات الاستخراجية.

الثروة المعدنية :

تعد محافظة كركوك واحدة من بين المحافظات التي تشتهر بتوافر العديد من الحقول النفطية واهمها حقول بابا كركر وجمبور وبابي حسن، فضلاً عن تواجد حقول الغاز الطبيعي والكبريت.



حقول الغاز



حقول النفط

نبذة تاريخية عن محافظة كركوك:



موقع جرمو

لقد تواجدت في كركوك معالم حضارية قديمة قبل حوالي مئة الف عام . ومن المواقع التاريخية لمحافظة كركوك موقع برده بلكه.

واسم كركوك مشتق من كلمة (كركر) وتعني شعلة النار الملتهبة.

ومن المدن الأثرية التي كان لها مكانة في التاريخ مدينة نوزي (يورغان تبه) الواقعة على مسافة ٢٥ كم الى الجنوب الشرقي من مركز مدينة كركوك وقد وجدت فيها بيوت سكن وقصر ومعبد ونصوص

اقتصادية وقانونية تعود لحوالي (٣٥٠٠) سنة وهي مدونة بالخط المسماري. وقد اشتهرت بفخارها المميز والذي سمي باسم المدينة وقد ترك السومريون والاكديون آثارهم فيها وسموا هذه المدينة باسم (كاسورا) .

ومن اهم مايميز كركوك قلعتها الشاخصة والتي تضم بين ثناياها معالم المنطقة القديمة ومن اثار مدينة كركوك ايضاً اسمها القديم اربخا (عرفة اليوم) ومدينة كوروخاني (تل الفخار) وسوق كركوك الذي يقع بجانب القلعة ويضم (٣٦٥) دكاناً. وفي عام (١٨٧٩م) كانت كركوك لواءً تابعاً الى ولاية الموصل، وفي عام (١٩٧٦) استبدل اسمها من لواء كركوك إلى محافظة كركوك.



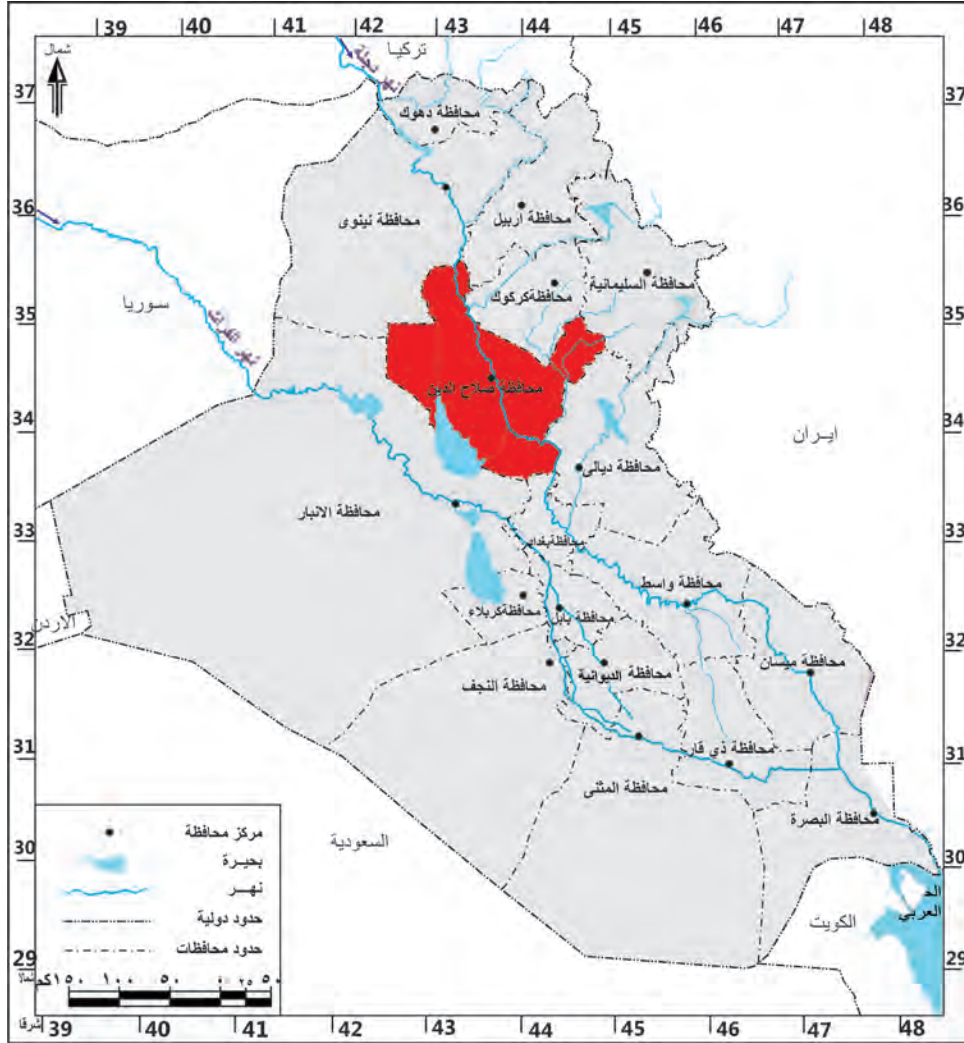
قلعة كركوك

نشاط اكتب خمسة اسطر تصف فيها اهم المعالم الحضارية والتاريخية لمحافظة كركوك.

محافظة صلاح الدين

الموقع الجغرافي

تتميز محافظة صلاح الدين بتعدد المحافظات التي تجاورها، إذ تحدها من الشمال كلٌّ من محافظتي نينوى واربيل، أما من الشرق والشمال الشرقي فتحدّها محافظتي السليمانية وكركوك ومن الجنوب والجنوب الشرقي تحدها محافظتا بغداد وديالى ومن جهة الغرب والجنوب الغربي فتحدّها محافظة الانبار. لاحظ الخريطة رقم (١٠) .



خريطة رقم (١٠) الموقع الجغرافي لمحافظة صلاح الدين

التضاريس :

تتميز تضاريس محافظة صلاح الدين بموقعها الفاصل ما بين المنطقة المتموجة شمالاً ومنطقة السهل الرسوبي جنوباً، وتنتشر فيها العديد من المظاهر التضاريسية التي يمكن تقسيمها كالآتي:

١- المنطقة المتموجة:

تقع هذه المنطقة في الاقسام الشمالية الشرقية وتعد تضاريسها امتداداً لتضاريس المنطقة المتموجة التي تتمثل بتلال حميرين ومكحول، اذ تأخذ امتداداً طويلاً من الشمال الغربي نحو الجنوب الشرقي ويتراوح عرضها ما بين (٥-١٢) كم ويصل معدل ارتفاعها في المحافظة ما بين (١٢٠-٢٠٠) م.

٢- هضبة الجزيرة :

تقع هذه المنطقة في الاقسام الغربية من المحافظة وتمتد بين تلال حميرين ووادي الثرثار ويتميز سطحها بالتموج البسيط في معظم أجزائه.

٣- السهل الرسوبي:

يحتل الأقسام الجنوبية والجنوبية الغربية ويغلب عليه صفة الانبساط.



نشاط

خذ خريطة صماء للعراق وحدد عليها محافظات المنطقة الشمالية من العراق.

المناخ :

تقع محافظة صلاح الدين وباقي اقسام مناطق العراق ضمن المنطقة شبه المدارية الحارة، الامر الذي انعكس تأثيره على تحديد صفة المناخ السائد والذي تمثل بالمناخ شبه الصحراوي الذي يتميز بشتاء ممطر وصيف حار جاف، اما من حيث كمية الامطار فتتباين في كميتها تبعاً لاختلاف تضاريسها اذ تزداد شمالاً وتقل كلما اتجهنا جنوباً و تتراوح كمياتها ما بين (٢٠٠-٢٥٠) ملم .

السكان:

يبلغ عدد سكان محافظة صلاح الدين قرابة (١,٥٠٠,٠٠٠) نسمة بحسب التقديرات الإحصائية لعام (٢٠١٤) .

طرق النقل والمواصلات :

تضم محافظة صلاح الدين شبكة من الطرق الرئيسية التي تربطها بالمحافظات المجاورة من خلال طرق برية عديدة اهمها: (فقط للأطلاع)

- ١- طريق صلاح الدين – الموصل
- ٢- طريق صلاح الدين – كركوك
- ٣- طريق صلاح الدين – اربيل
- ٤- طريق صلاح الدين – السليمانية
- ٥- طريق صلاح الدين – الانبار
- ٦- طريق صلاح الدين – ديالى
- ٧- طريق صلاح الدين - بغداد

كما تضم المحافظة أيضاً خطأ لسكة الحديد ما بين بغداد – صلاح الدين - موصل.



نشاط

لو سافرت من محافظة صلاح الدين الى محافظة دهوك، ماهي المحافظات التي تمر فيها خلال سفرك؟

الموارد المائية:

لقد انعكس مناخ المحافظة الذي عرف بقله امطاره على مصادر المياه التي اقتصرت على المياه السطحية والبحيرات الخزنية ويمكن تقسيم تلك المصادر على الاقسام الاتية:

١- المياه السطحية وتمثل بالآتي:

• **نهر دجلة:** يعد نهر دجلة الشريان الحيوي لجميع الأنشطة الاقتصادية في المحافظة.

• **نهر العظيم:** ويجري في الاقسام الشرقية من المحافظة ضمن قضاء طوز خرماتو.

اما المشاريع الاروائية فيعد منخفض الثرثار من اكبر تلك المشاريع ويقع في الاقسام الجنوبية الغربية من المحافظة ويشكل حدوداً ادارية بين محافظة صلاح الدين ومحافظة الانبار، إذ يبلغ طوله (١١٠) كم وعرضه (٢٥) كم .

ومن مشاريع السيطرة والخزن سد سامراء الواقع على نهر دجلة والذي يعد من اهم تلك المشاريع، اذ يقوم بتحويل قسم من مياه نهر دجلة الى منخفض الثرثار للاستفادة منه في خزن المياه وكذلك تغذية نهر الفرات خلال موسم الصيف عن طريق قناة الثرثار ونظراً لأهمية المشروع فقد أقيمت عليه محطة لتوليد الطاقة الكهربائية.



سد سامراء

النشاط الاقتصادي

الزراعة:



معمل ادوية سامراء

تتميز المحافظة بتنوع النشاط الزراعي، اذ تزرع فيها العديد من المحاصيل الزراعية يأتي في مقدمتها محاصيل الحبوب كالقمح والشعير، والمحاصيل الصناعية كالقطن، وزهرة الشمس، فضلاً عن زراعة العديد من اشجار الفواكه والحمضيات.

الصناعة:

تشتهر المحافظة بتوافر العديد من الصناعات فيها، ولاسيما الصناعات الغذائية والصناعات الدوائية والتي تتمثل بمصنع سامراء للادوية والعقاقير الطبية كما تشتهر المحافظة بصناعة التكرير، اذ تضم اكبر مصفى للنفط في بيجي.



مصفى بيجي

نبذة تاريخية عن محافظة صلاح الدين:


يرتبط اسم المحافظة باسم القائد صلاح الدين الايوبي الذي حرر أجزاء عدة من البلاد العربية. ولد في مدينة تكريت عام (١١٣٧)م واصبح بعد ذلك ملكاً على مصر وسوريا وفلسطين وخذ انتصاراته في معركة حطين الخالدة التي دارت رحاها على ارض فلسطين عام (١١٨٧)م .

ومن اهم المدن التاريخية لحافظة صلاح الدين:



القائد صلاح الدين الأيوبي

• **مدينة تكريت:** مركز محافظة صلاح الدين . وهي موغلة في القدم ورد ذكرها في بعض المصادر التاريخية . زمن الملك الاشوري توكلتي نورتا الثاني (القرن التاسع ق.م) والملك البابلي نبوخذ نصر الثاني (٦٠٤ - ٥٦٢ ق.م)، وايضاً في النصوص المسمارية. وفي العهود الرومانية جاء اسم تكريت بصيغة (مونيا تكريدس) اما في العصور الاسلامية ورد اسمها في العديد من المصادر التاريخية والجغرافية. وتكريت كلمة سريانية اصلها جاء من (تجريت) اي المتجر لأن اهلها كانوا يشتهرون بالتجارة والبيع والشراء، كما ورد اسم تكريت في المصادر السريانية بصيغة (تكريث). وكانت مدينتا سامراء وتكريت تحت حكم الدولة العثمانية وهما تابعتان الى ولاية بغداد، وفي ١٩٢٦/١/٢٩ تم استحداث محافظة صلاح الدين.



جرة من الفخار

• **مدينة سامراء:** تقع على الضفة الشرقية لنهر دجلة، وتبعد نحو ١١٨ كم إلى الشمال من العاصمة بغداد، سميت مدينة سامراء بأسماء عدة منها سامرا وسومرا وسر من رأى، وايضاً بسبب بناء حصن سومير الذي كان مانعاً لدخول الاعداء الى هذه المدينة، ومن كلمة سومير جاء اسم سامراء وبني هذا الحصن في الحقبة الساسانية ثم حرف هذا الاسم ليصبح فيما بعد بصيغة سر من رأى.

لقد اثبتت التنقيبات الاثرية بان موقع سامراء كان اهلاً بالسكان منذ عصور ما قبل التاريخ، منها تل الصوان الذي يرجع تاريخه الى الالف السادس ق.م بالقرب من سامراء

وقد كشف عنه علماء الآثار العراقيون وعثر فيه على ابنية تعد من اقدم الابنية التي استعمل في بنائها اللبن المقولب، وعثر في الموقع على ابنية وتمائيل صغيرة من المرمر، كما وجد فيها الفخار من النوع البسيط، وايضاً الفخار الملون بلون واحد وعثر كذلك على الكثير من القبور التي تعود للعصر الحجري المعدني .

أما مدينة سامراء الإسلامية فقد انتقلت عاصمة الخلافة العباسية إليها بعد العاصمة بغداد عام (٢٢٠-٢٢١هـ) أبان حكم الخليفة العباسي المعتصم بالله تبعه ابنه الواثق. غير ان ازدهارها كان في زمن الخليفة المتوكل (٨٤٧ - ٨٦١م)، ولم يطل مقام العباسيين فيها كثيراً فقد تركها الخليفة المعتمد على الله عام (٨٩٢م) الذي اعاد مقر الخلافة الى بغداد ثانية.

ويوجد في سامراء الروضة العسكرية حيث مرقد الأمامين علي بن محمد بن علي بن موسى (الهادي) (٢١٢-٢٥٤هـ)، وابنه الحسن بن علي بن محمد (العسكري) (٢٣٢-٢٦٠هـ) (عليهما السلام)، من أحفاد الامام الحسين بن علي بن ابي طالب (عليه السلام)، ويبتعد ١٢٤ كم الى الشمال من بغداد، تتكون الروضة من قبة ذهبية يبلغ اتساعها نحو ٢٠م ومحيطها ٦٨م، وتتميز بأنها مغلقة بالذهب إذ يبلغ نحو ٧٢ الف قطعة ذهبية لتصبح بذلك واحدة من اكبر القباب في العالم الإسلامي، وللحرم خمسة أبواب هي: (الباب الغربي، الباب الجنوبي، الباب الشرقي وبابان في الشمال).



مرقد الأمامين العسكريين (عليهما السلام)



جامع ابي دلف



مأذنة الملوية

ومن اهم المعالم التاريخية فيها أيضاً وجود بعض القصور كقصر المعشوق والعاشق ومسجدها الجامع (جامع الملوية) ودار الخليفة وجامع ابي دلف. فضلاً عن وجود حلبات سباق الخيل التي اولع بها الخلفاء العباسيون كثيراً وأنشأوا العديد منها في بغداد وسامراء وغيرها من المدن. وقد ظلت سامراء مقراً للخلافة العباسية مايقارب ٥٨ عاماً (٨٣٤-٨٩٢م)، وفي عام (٢٧٩هـ / ٨٩٢م) ترك الخليفة المعتمد على الله المدينة ليتخذ من بغداد عاصمة له قبل ستة اشهر من وفاته.



قصر المعشوق (العاشق)

نشاط

عند سفرك الى محافظة صلاح الدين، سجل ملاحظاتك عما شاهدته في هذه المحافظة ولاسيما مدنها التاريخية.

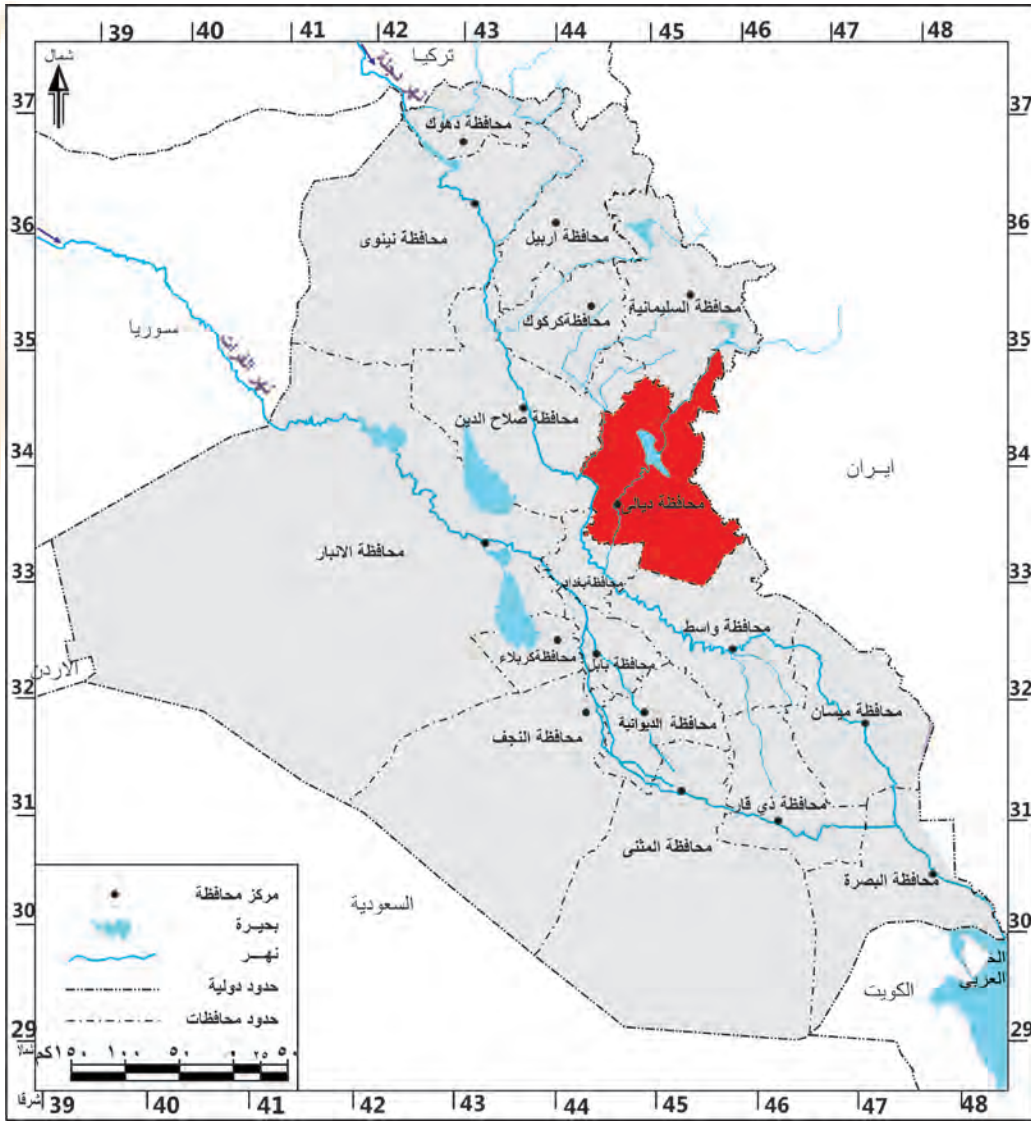
فكر وأجب

- ١- في اثناء تجوالك في مدينتك هل لاحظت بعض الاثار التاريخية القديمة؟ سجلها في دفترك.
- ٢- خذ خريطة صماء للعراق وحدد عليها مناطق الحضارات القديمة.
- ٣- في اثناء سفرك الى المنطقة الشمالية، هل عرفت المحافظات التي مررت بها؟ عددها ثم اذكر اهم الاثار الحضارية لكل محافظة ذكرتها.

محافظة ديالى

وطننا العراق

تقع محافظة ديالى في القسم الأوسط من شرق العراق، تحدها من الشمال محافظتي السليمانية وصلاح الدين ومن الجنوب محافظة واسط ومن الغرب والجنوب الغربي كلٌّ من محافظتي صلاح الدين وبغداد اما من الشرق فتعد حدودها جزءاً من الحدود الدولية بين وطننا العراق وجمهورية ايران الاسلامية لاحظ الخريطة رقم (١١).



خريطة رقم (١١) الموقع الجغرافي لمحافظة ديالى

نشاط

هل تجاور محافظة ديالى احدى الدول المجاورة للعراق؟ حددها على الخريطة.

التضاريس :


لقد كان لشكل محافظة ديالى والقريب من الشكل الطولي دور في تنوع مظاهر السطح فيها اذ يمكن ان نقسمها على قسمين رئيسيين هما :

١- المنطقة المتموجة:

وتقع في الاقسام الشمالية والشمالية الشرقية من المحافظة وتعد تلال حميرين اهم تلك المظاهر.

٢- السهل الرسوبي:

ويشغل مساحة واسعة من سطح المحافظة، ولاسيما في الاقسام الوسطى والجنوبية ويتميز بالانبساط التام في معظم اجزائه، اذ لا ترتفع معظم اراضيه عن (١٠٠) م فوق مستوى سطح البحر.



تلال حميرين

المناخ :

لقد بينا سابقاً بأن لشكل المحافظة دوراً في تنوع مظاهر السطح فيها الامر الذي كان له اثرٌ في تباين الصفات الجغرافية من خلال التأثير على مناخها، اذ يسود فيها نوعان من المناخ الاول مناخ السهوب ويتمثل في الاقسام الشمالية والمناخ شبه الصحراوي الذي يتمثل في الاقسام الوسطى والجنوبية، وتبعاً لتلك الصفات فقد تميزت الاقسام الشمالية بشتاء بارد ممطر وبصيف معتدل فيما كانت الاقسام الاخرى تعاني من ارتفاع درجات الحرارة، ولاسيما خلال فصل الصيف لتتجاوز معدلاتها ٤٠ م°، اما الامطار فتتباين كمياتها اذ تزداد بشكل عام كلما تقدمنا من الجنوب الى الشمال وتتراوح كمياتها ما بين (١٨٠ - ٣٠٠) ملم.

السكان:

يبلغ عدد سكان محافظة ديالى قرابة (١,٥٠٠,٠٠٠) نسمة بحسب التقديرات الإحصائية لعام (٢٠١٤).

طرق النقل والمواصلات :

لقد كان لموقع محافظة ديالى الحدودي مع جمهورية ايران الاسلامية دوراً في نشاط حركة التبادل التجاري بين العراق وايران من خلال وجود عدد من المنافذ الحدودية التي تنظم حركة التبادل التجاري بين البلدين، كما تضم المحافظة شبكة من الطرق الرئيسية التي تربطها بالمحافظات المجاورة من خلال طرق برية عديدة اهمها: (فقط للأطلاع)

- ١- طريق ديالى – المنافذ الحدودية مع جمهورية ايران الاسلامية
- ٢- طريق ديالى – بغداد
- ٣- طريق ديالى - صلاح الدين
- ٤- طريق ديالى – السليمانية

الموارد المائية:

تعد المياه السطحية من أهم المصادر المائية في المحافظة نظراً لسيادة ظروف المناخ شبه الصحراوي في معظم أراضي المحافظة وتتكون تلك المصادر من عدد من الروافد والأنهار هي:

- **نهر ديالى:** وهو احد روافد نهر دجلة يتكون من منبعين احدهما في العراق والآخر في ايران، ويصب في نهر دجلة جنوب مدينة بغداد ويعد الشريان الحيوي الذي يعتمد عليه سكان المحافظة في مختلف الأنشطة الاقتصادية ولاسيما الزراعية منها .

- **نهر العظيم:** يوجد النهر في منطقة العظيم ويشكل النهر حدوداً بين محافظة ديالى ومحافظة صلاح الدين وهو احد روافد نهر دجلة، وتتنذبذ مياه النهر بدرجة كبيرة خلال السنة لكونه يعتمد على مياه الأمطار والجداول التي تغذيه.

كما يمر نهر دجلة على مقربة من حدود محافظة ديالى وتحديداً في قضاء الخالص، الأمر الذي كان له أهمية في شق الكثير من المشاريع الاروائية لتغذية المناطق القريبة منها كالخالص وسارية وكنعان والروز والمقدادية .

اما مشاريع السيطرة والخزن فتتمثل بسد ديالى وسد حميرين على نهر ديالى وسد العظيم على نهر العظيم، فضلا عن مشروع خزان حميرين الذي يعد من اكبر المشاريع الخزنية في المحافظة.

النشاط الاقتصادي

الزراعة:

تعد محافظة ديالى واحدة من بين المحافظات التي تشتهر بإنتاجها الزراعي، إذ تزرع فيها العديد من المحاصيل الزراعية ولاسيما النخيل و الفواكه التي تشتهر بها كالبرتقال واللالنكي والليمون وغيرها من الفواكه والمحاصيل الصناعية.



زراعة الحمضيات في محافظة ديالى

نشاط

بماذا تشتهر محافظة ديالى؟

الصناعة:

تشتهر المحافظة بتوافر العديد من الصناعات فيها ولاسيما الصناعات الغذائية والتعليب والصناعات الكهربائية والميكانيكية .

الثروات المعدنية:

تشتهر المحافظة بتوافر الحقول النفطية والتي تتمثل بحقول نطف خانة والذي أسهم بتوافر العديد من الصناعات ومنها ولاسيما صناعة التكرير و التي تتمثل بمصفى الوند.



شركة ديالى لصناعات الكهربائية

السياحة

توجد في محافظة ديالى العديد من المرافق السياحية أهمها:

- ١- المنطقة السياحية في الصدور.
- ٢- منطقة تلأل حميرين.
- ٣- بحيرة حميرين.

نبذة تاريخية عن محافظة ديالى:

تعد محافظة ديالى من المناطق الحضارية المهمة في العراق، سميت سابقاً (بلواء ديالى) نسبة الى نهر ديالى الرافد المهم الذي يروي معظم أراضيها، كانت تسمى في العهدين العباسي والعثماني بـ (طريق خراسان)، وقد تمكن علماء الآثار من تحديد الكثير من التلال الاثرية التي سكنها العراقيون القدماء منذ عصور ما قبل التاريخ، لاسيما عصر العبيد حوالي سنة الآف سنة ق.م وعصر فجر السلالات في الالف الثالث ق.م والعصر البابلي القديم في الالف الثاني ق.م، كما ورد اسم بعقوبة في اللغات الارامية القديمة، وقد كان يطلق عليها في العصور القديمة اسم باعقوبا وتعني بيت العقوبة.




نهر ديالى

وقد وردت معلومات عن آثار المنطقة الوسطى من خلال التنقيبات الاثرية التي اجريت من قبل البعثات الاجنبية والعراقية منذ الحرب العالمية الاولى وما بعدها، وفي أثناء عمليات الانقاذ الاثرية في مشاريع الارواء الحديثة، ولاسيما اثناء حفر سد حميرين في ديالى منذ سبعينيات القرن الماضي. فقد عثر على معابد وقصور في مدنها القديمة، مثل تل اسمر (اشنونا القديمة) التي ازدهرت في العصر البابلي القديم وكذلك موقع خفاجي (توتوب). وقد امتدت التنقيبات الاثرية لهذه المحافظة بالالف الرقم الطينية المدونة بالخط المسماري. وبعد صدور قانون المحافظات رقم (١٥٩) لسنة ١٩٦٩ اصبحت ديالى محافظة.



نشاط

اعمل لوحة جدارية وعلق عليها صوراً عن محافظة ديالى وسد حميرين وتل اسمر وبعض الرُقم الطينية المدونة بالخط المسماري.



رقم طيني مدون بالخط المسماري



سد حميرين

محافظة بغداد

الموقع الجغرافي

بغداد عاصمة العراق وأكبر مدنه من حيث عدد السكان، وتعد المركز الإداري والاقتصادي والتعليمي والثقافي تقع وسط العراق، تحدها من الشمال محافظة صلاح الدين ومن الشرق محافظة ديالى ومن الجنوب محافظة بابل ومن الجنوب الشرقي محافظة واسط ومن الغرب محافظة الانبار. لاحظ الخريطة رقم (١٢).



خريطة رقم (١٢) الموقع الجغرافي لمحافظة بغداد

التضاريس :

تقع محافظة بغداد ضمن منطقة السهل الرسوبي، وتتميز ارضها بالانبساط التام في معظم اقسامها، اذ لا ترتفع معظم اراضيها عن (٣٥)م فوق مستوى سطح البحر.

المناخ :

تقع محافظة بغداد ضمن نطاق المناخ شبه الصحراوي، الذي يتميز بقلة امطاره في فصل الشتاء وبصيف حار جاف، اذ تصل معدلات درجة حرارة فصل الصيف الى (٤٥)م°، أما من حيث كمية الامطار فتتميز بالتذبذب والقلّة إذ تتراوح كمياتها ما بين (٣٠-٥٠) ملم.

السكان:

يبلغ عدد سكان محافظة بغداد قرابة (٧,٥٠٠,٠٠٠) نسمة بحسب التقديرات الإحصائية لعام (٢٠١٤).

طرق النقل والمواصلات :

لمحافظة بغداد أهمية إدارية كبيرة نتيجة لكونها هي عاصمة العراق والذي نتج عنه توافر جميع خطوط النقل البرية والنهرية والجوية فيها، فهناك طرق النقل البرية التي تربطها بالدول المجاورة او بالمحافظات، فضلاً عن وجود مطار بغداد الدولي الذي يعد ميناءً جويًا يربط العراق بدول العالم.

الموارد المائية:

يعد نهر دجلة الشريان الحيوي لمحافظة بغداد الذي يقسم المدينة الى جانبي الكرخ والرصافة الأمر الذي ادى الى زيادة رقعة المدينة وأمدّها بأسباب النمو والتطور العمراني .

النشاط الاقتصادي

الزراعة:

تتميز المحافظة بتنوع النشاط الزراعي اذ تزرع فيها العديد من المحاصيل الزراعية يأتي في مقدمتها محاصيل الفواكة والخضر فضلاً عن زراعة العديد من المحاصيل الصناعية كزهرة الشمس والذرة.



نهر دجلة في بغداد

الصناعة:

تشتهر المحافظة بتوافر العديد من الصناعات اهمها:



معمل الزيوت النباتية



معمل الغزل والنسيج

١- الصناعات الانشائية.

٢- صناعة الغزل والنسيج القطني.

٣- صناعة الغزل والنسيج الصوفي.

٤- الصناعات الغذائية.

٥- صناعة الادوية والعقاقير الطبية.

٦- الصناعات الكهربائية.

٧- الصناعات المعدنية.

٨- الصناعات الكيماوية.

٩- صناعة الزيوت النباتية.

١٠ صناعة الاصباغ.

١١- صناعة السكائر.

١٢- الصناعات الخفيفة.

١٣- الصناعات الالكترونية.

١٤- الصناعات الجلدية.

١٥- صناعة التكرير.

الثروات المعدنية:

تحتوي محافظة بغداد على حقول لإنتاج النفط تتمثل بحقول شرق بغداد.



معامل الصناعات الكهربائية في الوزيرية



مصفاى الدورة



نشاط

هل سبق وان شاهدت احد المصانع الكبيرة في بغداد؟ اكتب ثلاثة اسطر تصف فيها ماشاهدت من عمليات صناعية وانتاجية في ذلك المصنع.

فكر وأجب

اجمع صوراً تمثل المظاهر السياحية في مدينة بغداد.

السياحة:

تضم محافظة بغداد العديد من المرافق السياحية وأهمها:

- ١- جزيرة الاعراس السياحية.
- ٢- متنزه الزوراء السياحي.
- ٣- جزيرة بغداد السياحية.
- ٤- توافر العديد من الحدائق والمناطق الخضراء التي تضم مختلف انواع وسائل الراحة والترفيه.



جزيرة بغداد السياحية



متنزه الزوراء

نبذة تاريخية عن محافظة بغداد:

أكدت الكتابات المسمارية والوثائق التاريخية فضلاً عن التنقيبات الأثرية ان اسم بغداد اسم عراقي قديم، وان المدينة كانت موجودة قبل ان يشرع ابو جعفر المنصور في بناء مدينته المدورة (بغداد) عام (١٤٥) هـ .

لقد امدتنا التحريات والتنقيبات الاثرية التي جرت في مدينة بغداد ان هناك عدة مدن صغيرة وكبيرة ازدهرت منذ اربعة الاف عام مضت، واشهرها تل حرمل (شادوبوم) في بغداد الجديدة والتي كانت احدى المراكز الادارية المهمة التابعة لمملكة اشنونا (تل اسمر) في منطقة ديالى والتي ازدهرت في المنطقة المحصورة في المثلث الخصب المحصور ما بين دجلة غرباً وديالى شرقاً. وعُثر على الكثير من مواقع العصر البابلي القديم منها تل الضباعي (زارا لولو) في بغداد الجديدة وخفاجي (توتوب) واشجالي (نير بيتوم) ومراكز حضارية اخرى مثل تل محمد قرب معسكر الرشيد. وكذلك مدينة سبيار (ابو حبه) قرب اليوسفية ومدينة عقرقوف والمدائن (طيسفون).



تل حرمل



عكركوف

وفي منتصف القرن الثاني للهجرة (عام ١٤٥ هـ) بنى ابو جعفر المنصور الخليفة العباسي مدينته المدورة بغداد غربي دجلة، واشتهرت بتخطيطها الدائري المحصن بسور وأربعة أبواب هي (باب الشام، باب البصرة، باب خراسان وباب الكوفة). وفي العصر الحديث اصبحت بغداد بعد عام (١٩٢١) عاصمة للمملكة العراقية، وفي (١٩٥٨) عاصمة للجمهورية العراقية ومازالت لحد الان، وبعد صدور قانون المحافظات رقم (١٥٩) لسنة ١٩٦٩ اصبحت محافظة.

تتميز بغداد بأسواقها القديمة ومتاحفها الحضارية والعديد من المعالم الحضارية القديمة منها : المدرسة المستنصرية، والقصر العباسي والسراي والقشلة.



المدرسة المستنصرية

نشاط

عدد اهم المعالم التاريخية والحضارية الموجودة في محافظة بغداد.

ومن اشهر معالمها التاريخية:

١- المشهد الكاظمي : ويضم مرقد الإمامين موسى بن جعفر (الكاظم) (١٢٨-١٨٣ هـ) وحفيده محمد بن علي بن موسى (الجواد) (١٩٥-٢٢٠ هـ) (عليهما السلام)، يقع في جانب الكرخ في منطقة الكاظمية والتي كانت تسمى سابقاً بـ(مقابر قریش)، تنقسم الروضة إلى قسمين جنوبي وبها قبر الإمام موسى الكاظم وشماله وبها قبر الإمام محمد الجواد (عليهما السلام)، وللمسجد قبتان متساويتا الأبعاد وأربع مآذن كبيرة يبلغ ارتفاع السقف فيها نحو ٢٥م، والقبتان مزخرفة بالزخارف الإسلامية والآيات القرآنية من الداخل، ومن الخارج غلفت القبتان بتسعة الاف طابوقة من الذهب الخالص وحولها المآذن الأربع المغلفة بالذهب ايضاً، يتكون الصحن من اربعة اقسام هي: (صحن قریش، صحن باب القبلة، صحن باب المراد وجامع الجوادين)، فضلاً عن وجود عشرة أبواب لها تسميات محلية للدلالة عليها.



مرقد الامامين موسى الكاظم ومحمد الجواد (عليهما السلام)

٢- مرقد الامام الاعظم: وهو مرقد الشيخ ابو حنيفة النعمان بن ثابت الكوفي (٨٠-١٥٠هـ) (رضي الله عنه)، احد تلاميذ الامام جعفر الصادق (عليه السلام)، مؤسس المذهب الحنفي، ويقع مرقده في جانب الرصافة في منطقة الاعظمية، ويعد أحد المساجد والمدارس التاريخية في مدينة بغداد، إذ وبني المسجد عام ٣٧٥هـ بجوار قبر الامام أبو حنيفة (رضي الله عنه)، وبمساحة ٥ دونم ويحوي المسجد على أربعة مآذن وقبتان، وبجوار المسجد توجد مدرسة أبي حنيفة النعمان الفقهية والتي تعد من اقدم المدارس الدينية وتسمى حالياً بـ(كلية الامام الأعظم) وهي واحدة من ثلاثة أقدم جامعات على مستوى العالم.



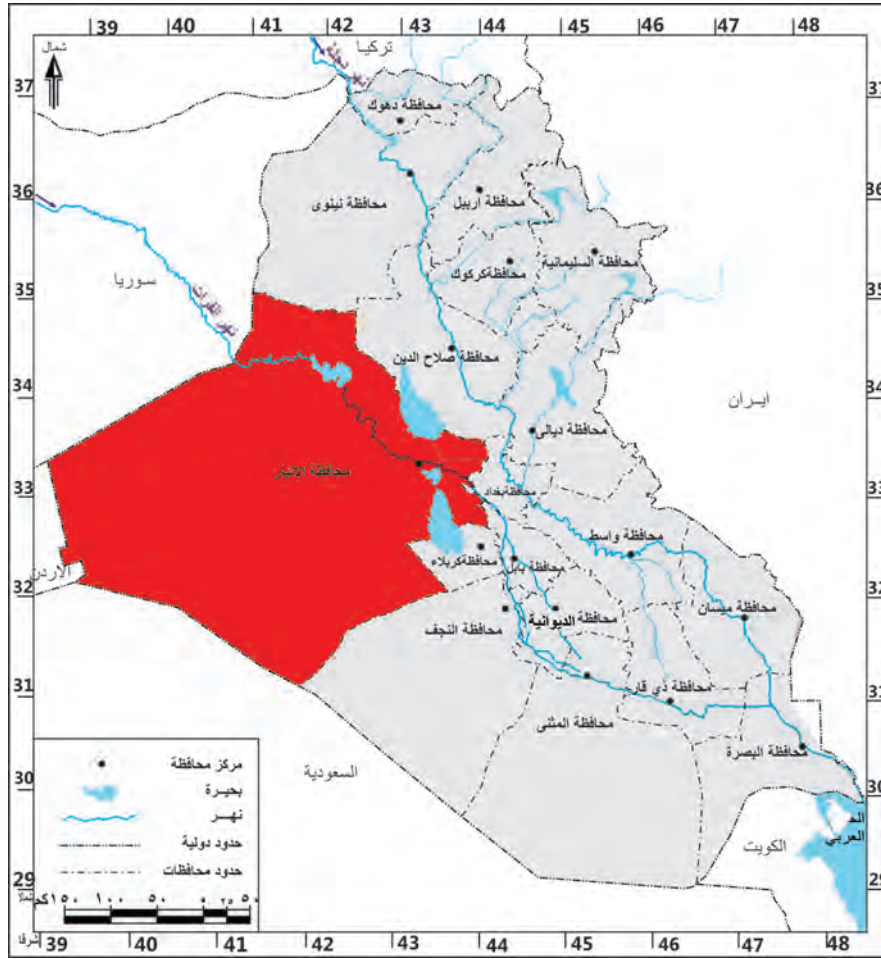
مرقد الامام ابو حنيفة النعمان (رضي الله عنه)

كما يوجد العديد من الكنائس القديمة في بغداد منها : كنيسة اللاتين الكاثوليك في منطقة الشورجة وقد بنيت عام (١٨٦٦م)، وكنيسة الارمن الارثوذكس في الميدان وتعرف بكنيسة مريم العذراء وهي اقدم الكنائس في بغداد.

محافظة الانبار

الموقع الجغرافي

تعد محافظة الانبار من اكبر محافظات وطننا العراق من حيث المساحة، تقع في القسم الغربي من العراق تحدها من الشمال محافظة نينوى ومن الشرق كلٌ من محافظتي صلاح الدين و بغداد ومن الجنوب الشرقي محافظتي كربلاء وبابل فيما تحدها محافظة النجف من الجنوب، وتتميز محافظة الانبار بأن حدودها الشمالية الغربية والغربية والجنوبية الغربية جزءاً من حدود العراق الدولية، اذ تحدها من الشمال الغربي الحدود السورية ومن الغرب الحدود الأردنية ومن الجنوب الغربي الحدود السعودية. لاحظ الخريطة رقم (١٣).



خريطة رقم (١٣) الموقع الجغرافي لمحافظة الانبار

نشاط هل تجاور محافظة الانبار دولاً مجاورة للعراق؟ حددها على الخريطة؟

التضاريس :

على الرغم من سعة محافظة الانبار من حيث المساحة، الا ان سطحها يكاد يخلو من الاشكال التضاريسية البارزة ويمكن ان نقسم سطحها الى الاقسام الاتية:

١- هضبة الجزيرة :

وتقع في الجهة الشمالية من المحافظة وتحديداً الى الشمال من مجرى نهر الفرات وشرقه ويتميز سطحها بكونه متموجاً تظهر عليه بعض التلال الصغيرة المتفاوتة الارتفاع .

٢- السهل الرسوبي :

ويشغل المناطق التي تقع حول مجرى نهر الفرات ويزداد اتساعه كلما تقدمنا باتجاه الجنوب الشرقي وتتميز اراضيها بالانبساط في معظم اجزائه .

٣- الهضبة الغربية :

وتشغل القسم الاكبر من مساحة المحافظة، وتتكون من عدة اقسام هي منطقة الحمادة والوديان ومنطقة الحجارة، كما تحف بها العديد من الاودية مثل وادي حوران والابيض.

المناخ :

تقع المحافظة ضمن منطقة المناخ الصحراوي الذي يتميز بارتفاع المدى الحراري، ولاسيما خلال فصل الصيف اذ ترتفع درجات الحرارة خلال النهار إلى اكثر من (٤٨)م°، بينما تنخفض في اثناء الليل الى ١٥م° ، اما امطارها فتنسم بقلتها وتذبذبها ويكثر سقوطها في فصل الشتاء وينعدم خلال فصل الصيف.

السكان:

يبلغ عدد سكان محافظة الانبار قرابة (١,٦٠٠,٠٠٠) نسمة بحسب التقديرات الإحصائية لعام (٢٠١٤) .



نشاط من ضمن اي قضاء تقع مدينتك؟

طرق النقل والمواصلات :

نظرا للموقع الجغرافي الذي تتميز به محافظة الانبار فقد تعددت طرق النقل المارة خلالها او التي تربطها بالمحافظات المجاورة وفيما يلي اهم تلك الطرق: (فقط للأطلاع)

١- طريق الانبار – بغداد.

٢- طريق المرور السريع الذي يربط جنوبي العراق مع العاصمة بغداد ويمتد من البصرة الى بغداد مروراً بـ كربلاء المقدسة والنجف الاشرف والديوانية والمثنى وذي قار والبصرة .

٣- خط سكة الحديد الذي يربط بين (بغداد – الرمادي – عكاشات).

النقل بالانابيب:

لقد أعطى الموقع الجغرافي لمحافظة الانبار والمحاذي للحدود السورية والأردنية والسعودية اهمية كبيرة في تصدير النفط العراقي عن طريق الخط الاستراتيجي الذي يربط الحقول الشمالية والجنوبية ثم الى موانئ البحر المتوسط وبذلك اعطى المرونة اللازمة في نقل النفط العراقي الى الموانئ العالمية.

الموارد المائية:

لقد انعكس مناخ المحافظة والذي يتميز بقلة أمطاره على مصادر المياه التي اقتصرت على المياه السطحية وبعض مكامن المياه الجوفية ويمكن تقسيم تلك المصادر الى الاقسام الآتية:

١- المياه السطحية:

وتتمثل تلك المصادر بنهر الفرات الذي يدخل محافظة الانبار من جهتها الغربية عند مدينة القائم ويعد النهر المصدر الرئيس لمختلف الانشطة الاقتصادية للمحافظة.

٢- المياه الجوفية :

وتتواجد في مناطق المرتفعات وبطون الاودية ويكون تواجدها وغازاتها مرتبطة بمواسم سقوط الامطار ومن اهم مناطقها كبيسة والرحالية.

أما اهم مشاريع السيطرة والخزن فهي:

• **سد الرمادي** تقع على نهر الفرات، ويمكن عن طريقها تحويل قسم من مياه النهر خلال فصل الشتاء الى بحيرة الحبانية عن طريق جدول الوراق، كما يمكن اعادة المياه المخزونة عن طريق جدول الذبان الى نهر الفرات، وعند حدوث الفيضانات الكبيرة يحوّل قسم كبير من المياه الزائدة من بحيرة الحبانية الى بحيرة الرزازة عن طريق جدول تخلية المجرة.



سد الرمادي



سد حديثة

• **سد حديثة** : يقع على نهر الفرات شمال مدينة حديثة تقع خلفه بحيرة حديثة، وتبلغ طاقته الخزنية قرابة (٨,٢) مليار م^٣.

أما المشاريع الإروائية فتتمثل بجداول ري الفرات الواقعة بين مدينة الفلوجة وسدة الهندية وتتفرع من الضفة اليسرى لنهر الفرات باتجاه العاصمة بغداد وهي الصقلاوية واليوسفية وابوغريب واللطيفية والاسكندرية، كما تتميز المحافظة بتعدد البحيرات الخزنية فيها ومنها بحيرة الحبانية وبحيرة حديثة وبحيرة الرزازة التي تشترك حدودها مع محافظة كربلاء.

النشاط الاقتصادي الزراعة:

لقد ادى مناخ المحافظة الصحراوي الى تركيز النشاط الزراعي بالقرب من مجرى نهر الفرات ومكامن المياه الجوفية للتعويض عن النقص الحاصل في كمية الامطار، وبالرغم من ذلك تزرع فيها العديد من المحاصيل أهمها القمح والذرة وزهرة الشمس.

الصناعة:

تشتهر المحافظة بتوافر العديد من الصناعات فيها: كالصناعات الإنشائية نظراً لتوافر موادها الأولية في معظم مناطق المحافظة ومن بين تلك الصناعات صناعة الاسمنت وتتمثل بـ: مصنع اسمنت القائم ومعمل اسمنت كبيسة ومعمل اسمنت الفلوجة، فضلاً عن صناعة الأسمدة الفوسفاتية وصناعة الزجاج.



معمل اسمنت القائم

الثروات المعدنية:

تتوافر في محافظة الأنبار كميات كبيرة من الفوسفات بالقرب من منطقة عكاشات ورواسب الزجاج والكبريت، فضلاً عن توافر حقول الغاز الطبيعي.

السياحة:

أبرز المناطق السياحية في المحافظة هي:

١- بحيرة الحبانية السياحية

٢- سد و خزان حديثة

٣- عيون المياه المعدنية

٤- بحيرة الرزازة (بين محافظتي الأنبار

و كربلاء)



مدينة الحبانية

نبذة تاريخية عن محافظة الأنبار :

سميت بالرمادي نسبة لمدينة الرمادي مركز المحافظة اليوم. وهي مدينة حديثة العهد بناها مدحت باشا اثناء ولايته على بغداد عام (١٨٦٩-١٨٧٢م)، وتبعد مسافة (١٠٥) كم عن بغداد والاسم الحالي للمحافظة هو نسبة لمدينة الأنبار التاريخية التي بنيت في عهد الملك البابلي نبوخذ نصر، وتقع على مسافة (٥ كم) شمال مدينة الفلوجة ، كانت تعرف سابقاً بـ (لواء الدليم) نسبة إلى عشائر الدليم، وبعد ثورة ١٤ تموز ١٩٥٨ تغير اسمها إلى لواء الرمادي، وبعد صدور قانون المحافظات رقم (١٥٩) لسنة ١٩٦٩ اصبحت تعرف بـ (محافظة الأنبار).

والاثار الشاخصة للمدينة الاثرية عبارة عن اطلال متفرقة يحيط بعض اجزائها سور مشيد باللبن وقد اطلق الاراميون عليها تسمية الأنبار لانها كانت مخزناً للأسلحة الحربية او لانها كانت تستعمل مخزناً للحنطة والشعير وكانت في ذلك الوقت مركزاً حربياً مهماً لحماية بغداد من الهجمات الخارجية، وقد اتخذها الخليفة العباسي ابو العباس السفاح عام (١٣٤هـ / ٧٥١م) عاصمة للدولة العباسية وبنى فيها قصور عدة، كما استقر فيها ابو جعفر المنصور عام (١٤٩هـ / ٧٦٦م) مدة من الزمن حتى اكتمال بناء مدينة بغداد وانتقاله اليها. ومن المدن التاريخية الاخرى في المحافظة التي يمكن مشاهدتها هي : عنه وهيت.

١- **مدينة عنه :** التي ورد ذكرها في النصوص البابلية والاشورية وربما يكون اسمها قد اشتق من اسم الالهة انانا السومرية، ومن اثارها الشاخصة منذنتها المثمنة العالية وقلعتها. وفي سبعينيات القرن الماضي كشف عن الكثير من المواقع الاثرية نتيجة الحفر الذي قامت به الحكومة انذاك لانقاذ الاثار في أثناء حفر مشاريع الارواء لسد حديثة .



قلعة عين



مئذنة جامع عين



مأذنة الفاروق في هيت

٢- مدينة هيت: اشتهرت عبر العصور السومرية والبابلية والاشورية بأنها مصدراً للقيرو. ويذكر الملك الاشوري توكلتي نورتا الثاني (القرن التاسع ق.م) من انه خيم بالقرب من منابع القير (هيت ايتو). ومن اثارها الشاخصة قلعة هيت والتي بنيت منذ قديم الزمان على تلة مرتفعة، يوجد داخل القلعة سرداب، وتتكون هذه القلعة من بيوت تتراوح مساحتها ما بين ٢٠-٨٠ م^٢، ويوجد في القلعة منارة عالية تعرف بمنارة الفاروق التي انشأت زمن الخليفة الراشدي الثاني عمر بن الخطاب (رضي الله عنه).

ومنارة جامع المدينة القديمة استعملت قديماً فاناراً للسفن وهناك نصوص قديمة تشير الى بنائها في العصر البابلي القديم في موقع شيشين، وهو موقع عسكري يستعمل للمراقبة. كما كُشف عن العديد من الرقم الطينية التي تشير إلى حركة السفن التجارية في العراق القديم.

نشاط

١- خذ خريطة صماء للعراق وحدد عليها المحافظات التي تجاور الدول المجاورة للعراق.

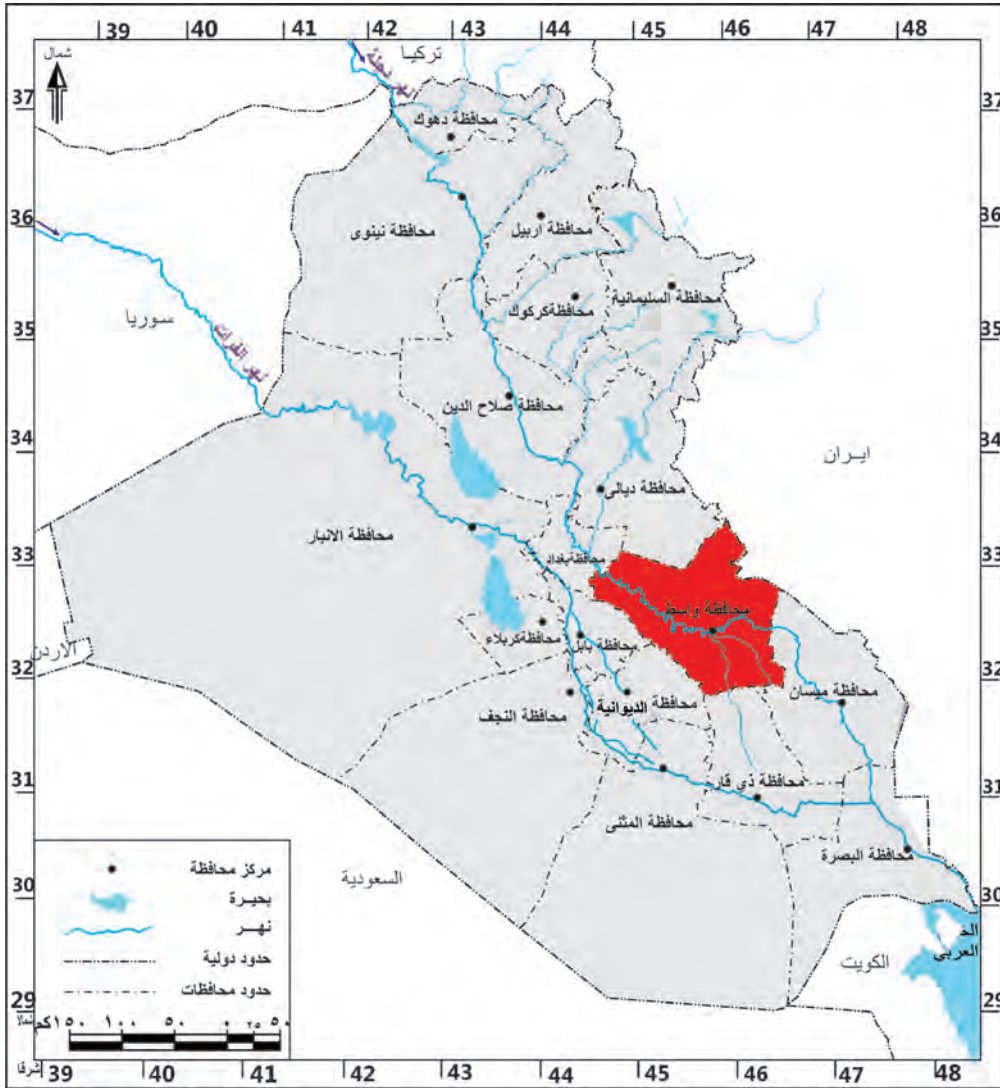
فكر وأجب

- ١- في اثناء تجوالك في مدينتك هل لاحظت بعض الاثار التاريخية القديمة؟ سجلها في دفترك.
- ٢- خذ ورق شفاف وحدد عليه الحدود الخارجية لخريطة العراق ثم وضح عليه نهر دجلة.
- ٣- حدد على الخريطة المحافظات التالية: بغداد، الانبار، نينوى، ديالى.

محافظة واسط

الموقع الجغرافي

تقع محافظة واسط في القسم الشرقي الأوسط من منطقة السهل الرسوبي، وتتميز المحافظة بتعدد المحافظات التي تجاورها، اذ تحدها من الشمال كل من محافظتي ديالى وبغداد اما من الغرب فتحدها محافظتي بابل والديوانية ومن الجنوب الغربي محافظة ذي قار ومن الجنوب الشرقي محافظة ميسان، اما حدودها الشرقية فتعد جزءاً من الحدود الدولية بين العراق و جمهورية ايران الاسلامية لاحظ الخريطة رقم (١٤).



خريطة رقم (١٤) الموقع الجغرافي لمحافظة واسط



نشاط

- ١- ماهي المحافظة التي تجاور محافظة واسط من جهة الشمال والجنوب؟ حددها على الخريطة.
- ٢- هل تجاور محافظة واسط احدى الدول المجاورة للعراق؟ اذكرها.

التضاريس :

تعد محافظة واسط جزءاً من منطقة السهل الرسوبي المنبسط والقليل الانحدار، وتتميز أغلب اقسامها بالانبساط اذ لا ترتفع كثيراً عن مستوى (٢٥)م فوق مستوى سطح البحر باستثناء المناطق الحدودية والمحاذية للحدود العراقية - الإيرانية.

المناخ :

نظراً لوقوع محافظة واسط في المنطقة الشبه مدارية فإن مناخها يعد جزءاً من المناخ الصحراوي الذي يتميز بارتفاع درجات الحرارة والجفاف صيفا واعتداله شتاءً، اما امطاره فتتسم بالقلّة والتذبذب وتزداد كمياتها في الاقسام الشرقية من المحافظة، إذ تتراوح كمياتها بين (١٢٠-١٥٠) ملم.

السكان:

يبلغ عدد سكان محافظة واسط قرابة (١,٣٠٠,٠٠٠) نسمة بحسب التقديرات الإحصائية لعام (٢٠١٤).

طرق النقل والمواصلات :

بالنظر لكون حدود المحافظة جزءاً من الحدود الدولية بين العراق وايران فقد تميزت بوجود العديد من طرق النقل التي تربط العراق مع ايران الامر الذي كان له دورٌ في نشاط حركة التبادل التجاري بين البلدين، كما تتصف المحافظة بكونها حلقة الوصل بين العاصمة بغداد والمحافظات الجنوبية ومن اهم تلك الطرق: (فقط للأطلاع)

طريق الكوت - بغداد / طريق الكوت - ميسان / طريق الكوت - الديوانية

الموارد المائية:

- **نهر دجلة :** يعد نهر دجلة الشريان الحيوي لجميع الأنشطة الاقتصادية في المحافظة، اذ تتوزع عليه العديد من المشاريع الاروائية التي تستثمر للأعمال الزراعية والصناعية.
- **نهر الدجيلية :** احد فروع نهر دجلة يتفرع من الجهة اليمنى لنهر دجلة قبل سدة الكوت.
- **نهر الغراف :** احد فروع نهر دجلة يتفرع من الجهة اليمنى لنهر دجلة قبل سدة الكوت ويغذي النهر العديد من المشاريع الاروائية والاراضي الزراعية بين محافظتي واسط وذوي قار.
- وجود العديد من الاهوار الدائمة والفصلية اهمها هور الشويجة.

اما مشاريع السيطرة والخرن فتعد سدة الكوت الواقعة على نهر دجلة اهم تلك المشاريع، اذ تتحكم في توزيع المياه ما بين محافظات واسط وميسان وذي قار، كما تؤمن مشاريع الري المقامة على نهر الغراف والدجيلية، ولولا هذه السدة لتحولت مساحات واسعة الى صحراء تحيط محافظتي واسط و ذي قار.



سد الكوت

النشاط الاقتصادي الزراعة:

تشتهر محافظة واسط بالنشاط الزراعي، اذ تزرع فيها العديد من المحاصيل اهمها: محاصيل الحبوب كالقمح والشعير والذرة وزهرة الشمس والقطن والسمسم والتمور.

الصناعة:

تشتهر المحافظة بتوافر العديد من الصناعات فيها، ولاسيما الصناعات النسيجية وتمثل بمعمل نسيج الكوت والصناعات الغذائية والالبسة الجاهزة والصناعات الإنشائية .

الثروات المعدنية:

تحتوي محافظة واسط على العديد من حقول النفط اهمها حقل الاحدب وحقل بدرية .



معمل نسيج الكوت



حقل الاحدب النفطي

هل سبق وان زرت احد المصانع الكبيرة في محافظة واسط؟ اكتب ثلاثة اسطر تصف فيها ماشاهدت من معالم صناعية و انتاجية في ذلك المصنع.

نبذة تاريخية عن محافظة واسط:

سميت المحافظة بهذا الاسم نسبة الى مدينة واسط التي تقع وسط العراق . بناها الحجاج بن يوسف الثقفي عام (٧٨) هـ واكملها عام (٨٣) هـ لتكون مقراً جديداً لجنوده . وتقع الى الشمال من بغداد بمسافة (١٨٠) كم .

ومعنى الاسم يعود الى ان الموضع الذي اختاره الحجاج لبناء مدينته ، كان يسمى واسط القصب او لأن موقعها كان وسطاً بين البصرة والكوفة.



اثار مدينة واسط

وكانت المدينة تضم مباني كبيرة مثل مسجدها الجامع وقصرها الشامخ المعروف بالقبة الخضراء. وفضلاً عن مدينة واسط الاثرية فهناك العديد من التلال الاخرى مثل تل النعمان واثار النجمي وتل الولدية جنوب ناحية الاحرار وغيرها من المواقع والتلول الاثرية الأخرى. كانت تسمى في السابق بـ(لواء الكوت)، حتى صدور قانون المحافظات رقم (١٥٩) لسنة ١٩٦٩، إذ اصبحت تعرف بـ (محافظة واسط).

نشاط

- ١- عند سفرك من محافظة اربيل الى محافظة واسط، ماهي المحافظات التي ستمر بها اثناء سفرك؟
- ٢- تكلم عن المعالم الحضارية والتاريخية الموجودة في محافظة واسط.

محافظة بابل

الموقع الجغرافي

تقع محافظة بابل في القسم الشمالي من منطقة الفرات الأوسط، تحدها من الشمال و الشمال الغربي محافظتا بغداد والانبار ومن الغرب محافظة كربلاء المقدسة ومن الجنوب محافظة الديوانية ومن الشرق محافظة واسط ومن الشمال الغربي محافظة الانبار ومن الجنوب الغربي محافظة النجف لاحظ الخريطة رقم (١٥) .



خريطة رقم (١٥) الموقع الجغرافي لمحافظة بابل



نشاط

خذ خريطة صماء للعراق وحدد عليها المحافظات الشمالية .

التضاريس:

تعد محافظة بابل جزءاً من منطقة السهل الرسوبي الذي يتميز بانبساطه، إذ يتراوح معدل ارتفاع أراضيها بين (٢٠ - ٤٠) م فوق مستوى سطح البحر.

المناخ:

لا يختلف مناخ محافظة بابل عن مناخ القسم الأوسط من السهل الرسوبي، إذ تقع المحافظة ضمن المناخ الصحراوي الذي يتميز بارتفاع معدلات درجات الحرارة، ولاسيما خلال فصل الصيف واعتداله خلال فصل الشتاء، أما أمطارها فتكون قليلة ومتذبذبة، إذ يقتصر سقوطها في فصل الشتاء وتكون كمياتها اقل من (١٠٠) ملم.

السكان:

يبلغ عدد سكان محافظة بابل قرابة (١,٩٠٠,٠٠٠) نسمة بحسب التقديرات الإحصائية لعام (٢٠١٤) .

طرق النقل والمواصلات :

تضم محافظة بابل شبكة من الطرق الرئيسية التي تربطها بالمحافظات المجاورة من خلال العديد من الطرق البرية، اهمها طريق المرور السريع الذي يربط بين بغداد - البصرة مروراً بمحافظة بابل، فضلاً عن مرور سكة الحديد التي تربط العاصمة بغداد بالمحافظات الجنوبية، ومن أهم الخطوط البرية التي تربط المحافظة بالمحافظات المجاورة هي: (فقط للأطلاع)

- ١- طريق بابل - كربلاء / ٢- طريق بابل- النجف
- ٣- طريق بابل - واسط / ٤- طريق بابل - الديوانية
- ٥- طريق بابل - بغداد

الموارد المائية:

تتمثل الموارد المائية في المحافظة بنهر الفرات وتفرعاته، إذ يعد عصب الحياة لسكان المحافظة وتعتمد عليه اغلب الأنشطة الاقتصادية، إذ يتفرع عند مدينة المسيب الى فرعين هما شط الحلة الذي يجري في القسم الجنوبي الشرقي وشط الهندية الذي يمثل مجرى نهر الفرات الرئيس والذي يتفرع جنوب مدينة الكفل الى فرعين هما شط الكوفة وشط الشامية .



شط الحلة

أما اهم المشاريع الاروائية فتتمثل بـ سدة الهندية التي تقع في مدينة الهندية وتعمل على توزيع مياه نهر الفرات بين شط الحلة وشط الهندية وبقية جداول المنطقة.



سد الهندية

نشاط

خذ خريطة صماء للعراق وحدد عليها السدود والمشاريع الاروائية في كل من:
١- محافظة الانبار ٢- محافظة صلاح الدين ٣- محافظة ديالى

النشاط الاقتصادي الزراعة:



زراعة النخيل في بابل

لقد كان لنهر الفرات وتفرعاته دوراً في النشاط الاقتصادي، ولاسيما المحاصيل الزراعية كالقمح والشعير والرز والذرة والقطن وزهرة الشمس، فضلاً عن زراعة النخيل، إذ تتميز المحافظة بكونها تحتل مراكز متقدمة في انتاج التمور، كما تشتهر بزراعة العديد من انواعه كالخستاوي والبرحي والخضراوي .

الصناعة:

تشتهر المحافظة بتوافر العديد من الصناعات فيها، ولاسيما الصناعات النسيجية كالحرير الصناعي والالبسة الجاهزة والصناعات الغذائية والإنشائية والصناعات الخفيفة والصناعات التجميعية كالسيارات والمحركات والساحبات في مدينة الإسكندرية.



معمل الاسكندرية لتجميع السيارات



معمل نسيج في بابل

نبذة تاريخية عن محافظة بابل:

تعد مدينة بابل من اهم المدن العراقية القديمة، اذ تعد جنائنها المعلقة واسوارها من احدى عجائب الدنيا السبع، اطلق عليها في العصور القديمة بـ (باب - ايلو) اي (باب الاله). كانت مدينة بابل مدينة صغيرة اول امرها . وقد وردتنا اقدم الاشارات عنها في العصر الاكدي قبل نحو (٤٥٠٠) سنة. وفي العصر البابلي القديم حصلت على منزلة مرموقة، ولاسيما في عهد ملكها السادس حمورابي (١٧٩٢-١٧٥٠ ق.م) المشرع الكبير الذي تقترن باسمه مسلته المشهورة . كما نالت مرتبة خاصة في العصر البابلي الحديث زمن ملكها نبوخذنصر الثاني (٦٠٤-٥٦٢ ق.م). ولمدينة بابل سوراً خارجياً يمتد نحو (١٨) كم واخر داخلي مستطيل الشكل يمر نهر الفرات من خلاله ويقسمه على قسمين، كما توجد فيها قصور ومعابد في قسمها الشرقي.



الجنائن المعلقة



بوابة عشتار

ومن اهم الآثار الشاخصة لمدينة بابل المسرح البابلي (الاغريقي) وانموذج بوابة عشتار وهو نصف حجمها الأصلي وشارع الموكب والقصر الجنوبي لملك بابل العظيم نبوخذ نصر الثاني المشيد بالاجر. والقصر الشمالي او الرئيسي الذي وجد في احدى ساحاته تمثال اسد بابل المصنوع من حجر البازلت وهو رمز الالهة عشتار .

وفي القسم الجنوبي من المدينة يوجد اهم معبد في المدينة وهو معبد الايساك-ايلأ أي (البيت الرفيع) ثم مكان الصرح المدرج (الزقورة) المربع بطبقاته السبع. ومن المباني المهمة الاخرى معبد نابو شخاري والقصر الصيفي الذي يعد من قصور الملك نبوخذ نصر الثاني. بعد تشكيل الحكومة العراقية في أب ١٩٢١ أصبحت تعرف بـ (لواء الحلة)، وفي نيسان ١٩٧٠ استبدل اسمها إلى (محافظة بابل) تيمناً بـ (مدينة بابل القديمة).

ومن أهم المدن التاريخية لحافظة بابل: مدينة كيش (تل الاحيمر)

وهي المدينة التي عاش فيها الملك الاكدي سرجون الاول الذي اسس اول امبراطورية في العالم القديم . وتشتهر المدينة بزقورتها الحمراء، وقد انتهت مسيرة السلالة الاولى التي قامت بعد الطوفان بهزيمة اخر ملوكها الذي كان يسمى كلكامش في عام ٢٦٠٠ ق م .



مدينة كيش

مدينة بورسبا (برسبا نمرود)

لقد كان للمدينة اهمية في الديانة البابلية، لأنها كانت مركزاً لعبادة الاله (نابو) ابن اله البابليين مردوخ، ونشاهد في اطلال المدينة بناءً شاهقاً يرتفع عن مستوى سطح الارض وهو برج المدينة والمدرج (زقورتها) التي كانت تزدهر بألوانها وطبقاتها السبع . ومن اثار المدينة معبد الاله نابو، وفي ركن المدينة نشاهد مسجداً لإقامة الصلاة.



مدينة بورسبا



نشاط

- ١- تعد الجنائن المعلقة من عجائب الدنيا السبع، تكلم عنها وحاول وصفها الى زملائك التلاميذ.
- ٢- اعمل لوحة جدارية والصق عليها صور ملوك بابل واهم معالمها الحضارية.

محافظة كربلاء المقدسة

الموقع الجغرافي

تقع محافظة كربلاء في القسم الغربي الأوسط من وطننا العراق على حافة منطقة الهضبة الغربية، تحدها من الشرق محافظة بابل ومن الشمال والغرب محافظة الانبار ومن الجنوب محافظة النجف. لاحظ الخريطة رقم (١٦).



خريطة رقم (١٦) الموقع الجغرافي لمحافظة كربلاء المقدسة

التضاريس:

تقع محافظة كربلاء ضمن منطقة السهل الرسوبي والهضبة الغربية، اذ تقع أراضي الأقسام الشرقية والوسطى ضمن منطقة السهل الرسوبي، اما الاقسام الغربية فهي ضمن منطقة الهضبة وتتميز أراضيها بكونها منبسطة تتخللها بعض الوديان.

المناخ:

تقع المحافظة ضمن المناخ الصحراوي، اذ ترتفع درجات الحرارة خلال موسم الصيف لتتجاوز (٤٥)م°، اما في موسم الشتاء فتتميز بالاعتدال في معظم اقسام المحافظة، اما أمطارها فتتميز بالقلّة إذ تتراوح كمياتها ما بين (٢٠-٣٠) ملم.

السكان:

يبلغ عدد سكان كربلاء قرابة (١,١٥٠,٠٠٠) نسمة بحسب التقديرات الإحصائية لعام (٢٠١٤).

طرق النقل والمواصلات :

تحضى طرق النقل في محافظة كربلاء بأهمية كبيرة لكونها من المراكز الدينية المقدسة، اذ تضم شبكة من الطرق الرئيسية التي تربطها بالمحافظات المجاورة من خلال طرق برية عديدة اهمها:

(فقط للأطلاع)

- ١- طريق كربلاء- بغداد
- ٢- طريق كربلاء- الكوت
- ٣- طريق كربلاء - بابل
- ٤- طريق كربلاء - النجف
- ٥- طريق كربلاء-القادسية

الموارد المائية:

لقد انعكس مناخ المحافظة الذي عُرف بقلة أمطاره على مصادر المياه التي اقتضرت على نهر الفرات والمياه الجوفية ويمكن تقسيم تلك المصادر على الاقسام الآتية:

١- المياه السطحية وتتمثل بـ:

- **نهر الفرات وجداوله:** وتتمثل بشط الهندية الذي يعد المصدر الرئيس للمياه في المحافظة ويجري في الاقسام الشرقية، إذ يتفرع بدوره عند سدة الهندية الى جداول عدة اهمها جدولاً الحسينية وبني حسن، كما وتشرف المحافظة من جهة الشمال على بحيرة الرزازة التي تشترك حدودها مع محافظة الانبار.
- **المياه الجوفية** وتتمثل بالواحات والعيون والينابيع ويعتمد عليها سكان الاقسام الغربية المحاذية للهبشة الغربية ومن اهم تلك العيون عين التمر وشثاة.



عين التمر



شط الهندية



نشاط

يقوم المعلم بإرشاد التلاميذ إلى مواقع المحافظات من خلال استعمال خريطة العراق الادارية على ان يقوم التلميذ بتحديد موقع المحافظة على السبورة.

عند سفرك من محافظة كربلاء المقدسة الى محافظة دهوك، ماهي المحافظات التي ستمر بها أثناء سفرك؟

النشاط الاقتصادي

الزراعة:

تزرع في المحافظة العديد من المحاصيل الزراعية اهمها القمح والشعير والرز والذرة والمحاصيل الصناعية كالسمسم وزهرة الشمس، فضلاً عن زراعة النخيل التي تحظى باهمية كبيرة في المحافظة.

الصناعة:

تشتهر المحافظة بتواجد العديد من الصناعات اهمها الصناعات الغذائية والصناعات الانشائية المتمثلة بمعمل أسمنت كربلاء والصناعات الخفيفة.

نبذة تاريخية عن محافظة كربلاء المقدسة:

يعود اصل تسمية كربلاء، كما تذكر المصادر الى اصل بابلي، إذ ورد ذكرها في عهد السلالة البابلية الثامنة تحت بأسم (كربل - متاتي) أي اراضي كربلاء، وهي من القرى القديمة، أو من (كوربابل) أي مجموعة القرى البابلية، وفي عهد الخليفة الراشدي الاول أبي بكر الصديق(رضي الله عنه)، مر بها القائد العربي خالد بن الوليد في طريقه الى الحيرة.

ولابد من الاشارة الى ان اسم كربلاء قد جاء من الموروث العراقي القديم والذي يعني (حرم الاله)، لأن هذه اللفظة تتألف من كلمتين اشوريتين هما كلمة كرب التي تعني حرم وكلمة ايل وتعني الاله، وقد أمر الوالي العثماني مدحت باشا بتطوير مدينة كربلاء وأضاف إليها العديد من الدوائر الحكومية والاسواق وبنى فيها محلة العباسية، كما انجز السلطان العثماني سليمان القانوني مهمة حفر نهر من الفرات سمي انذاك بالنهر السليمانى والذي يعرف اليوم بنهر الحسينية، وكانت تسمى في السابق بـ (لواء كربلاء)، وبعد صدور قانون المحافظات رقم ١٥٩ لسنة ١٩٦٩ أصبحت محافظة كربلاء وتحوي المحافظة على العديد من المراكز الدينية المقدسة وهي:

أ- الروضة الحسينية :- وتضم مرقد الامام الحسين بن علي (الشهيد)(٤-٦١هـ) سبط النبي محمد(صلى الله عليه وآله وسلم) وابنائهم (عليهم السلام) وشهداء واقعة الطف الذين أستشهدوا معه عام ٦١هـ، تبلغ مسافة الصحن (٢١٥٠٠٠م^٢) يتوسطه حرم تبلغ مساحته (٢٣٨٥٠م^٢) يقع فيه الضريح، وتحيط به اورقة بمساحة (٢٦٠٠م^٢) وله عشرة أبواب، وتعلوه قبة شاهقة بأرتفاع ٣٧م من الارض وهي مغلقة بالذهب، وترتفع فوق القبة سارية من الذهب الخالص أيضاً وبأرتفاع ٢م وتحف بالقبة مآذنتان مطليتان بالذهب، ويحيط بالحرم ٤ أورقة من كل جهة رواق، يبلغ عرض الرواق الواحد ٥م، كما توجد ٨ أبواب داخلية للأروقة تؤدي إلى الحضرة هي: (باب القبلة، باب

علي الأكبر، باب الكرامة، باب الناصري، باب السيد أبراهيم المجاب، باب رأس الحسين وباب حبيب بن مظاهر)، فضلاً عن وجود سبعة أبواب للأروقة الخارجية التي تؤدي إلى الصحن.

ب - الروضة العباسية :- وتضم مرقد الامام العباس بن علي بن أبي طالب (أبو الفضل) (٢٦- ٦١هـ) (عليه السلام)، الذي أستشهد في واقعة الطف عام ٦١هـ، وتقع الروضة إلى الشمال الشرقي من العتبة الحسينية وبمسافة (٢٤٧م)، تبلغ مساحة العتبة (٩٧٣, ١٠م تقريباً) ومحيطها (٣٩٥م)، كما توجد في محافظة كربلاء المقدسة مرقد دينية مقدسة أخرى.



مرقد الامام العباس (عليه السلام)



مرقد الامام الحسين (عليه السلام)

اما أهم المواقع التاريخية في المحافظة هي:

١- قصر الاخضر :

يقع قصر الاخضر الواسع المتعدد الاجزاء والمرافق في داخل حصن منيع يقع في البادية جنوب غربي كربلاء بنحو ٥٠ كم، ويبعد بمقدار مائة واثنين وتسعين كم جنوب غربي بغداد.

٢- خان النخيلة او (خان الربع):

سُمي بخان الربع لأنه يقع تقريباً في ربع المسافة ما بين كربلاء والنجف، وكان هذا الخان مخصصاً لراحة المسافرين والزائرين الذين يقصدون العتبات المقدسة فيها.

٣- قصر شمعون:

الذي يرجع تاريخ بنائه الى القرن السادس الميلادي ويقع في قضاء عين التمر.



نشاط

١- شكل حلقة نقاشية مع زملائك التلاميذ وتحدثوا عن واقعة الطف واستشهاد

الإمام الحسين بن علي بن أبي طالب (عليه السلام)، ومن معه.

٢- تكلم عن اهم المظاهر التاريخية في محافظة كربلاء المقدسة.

محافظة الديوانية (القادسية)

الموقع الجغرافي

تحتل محافظة الديوانية الجزء الجنوبي الأوسط من السهل الرسوبي وهي إحدى محافظات الفرات الأوسط*، تحدها من الشمال محافظة بابل ومن الجنوب محافظة المثنى ومن الشرق محافظة واسط ومن الجنوب الشرقي محافظة ذي قار أما من الغرب فتحدها محافظة النجف. لاحظ الخريطة رقم (١٧).



خريطة رقم (١٧) الموقع الجغرافي لمحافظة الديوانية

التضاريس :

تعد محافظة الديوانية جزءاً من منطقة السهل الرسوبي الذي يتصف بقلة انحداره وأنبساطه التام، إذ يتراوح ارتفاع معظم أراضيها بين (٤-١٢)م، ويشغل السهل الرسوبي مساحة واسعة من اقسام المحافظة باستثناء الاقسام الجنوبية الغربية التي تتصف بسيادة الكثبان الرملية فيها.

* الفرات الاوسط يضم محافظات (بابل - كربلاء - الديوانية - النجف - المثنى)

المناخ :

تقع محافظة الديوانية ضمن المناخ الصحراوي الذي يتصف بارتفاع درجات الحرارة والجفاف في موسم الصيف واعتداله في موسم الشتاء، اما امطارها فتتسم بالقلّة والتذبذب .

السكان:

يبلغ عدد سكان محافظة الديوانية قرابة (١,٢٠٠,٠٠٠) نسمة بحسب التقديرات الإحصائية لعام (٢٠١٤) .

طرق النقل والمواصلات :

تضم محافظة الديوانية شبكة من الطرق الرئيسية التي تربطها بالمحافظات المجاورة من خلال طرق برية عديدة اهمها ما يأتي:

(فقط للأطلاع)

- ١- طريق الديوانية – النجف.
- ٢- طريق الديوانية – ذي قار.
- ٣- طريق الديوانية – المثنى.
- ٤- طريق الديوانية – بابل.
- ٥- طريق الديوانية – واسط.

الموارد المائية:

يعد نهر الفرات وتفرعاته الشريان الحيوي لمحافظة الديوانية ونظراً لتعدد تفرعاته في المحافظة يمكن تقسيمها الى الاقسام الاتية:

- **نهر الفرات** (شط الديوانية) ويعد من اهم مصادر المياه السطحية في المحافظة وهو احد فروع شط الحلة.
- **شط الشامية** (وهو احد تفرعات شط الهندية بعد مدينة الكوفة).
- **شط الدغارة** (احد تفرعات شط الحلة).
- **شط الشنافية** وهو امتداد لشط الكوفة.



شط الديوانية



ماهي المحافظة التي تجاور محافظة الديوانية من جهة الشمال والجنوب؟

النشاط الاقتصادي

الزراعة:


تتميز المحافظة بتنوع النشاط الزراعي، اذ تزرع فيها العديد من المحاصيل الزراعية يأتي في مقدمتها محاصيل الحبوب كالرز والقمح والشعير والمحاصيل الصناعية كالقطن وزهرة الشمس، فضلاً عن زراعة العديد من اشجار النخيل.

الصناعة:

تشتهر المحافظة بتوافر العديد من الصناعات فيها، ولاسيما الصناعات الغذائية وصناعة الغزل والنسيج والصناعات الانشائية والكيمياوية.



زراعة الرز



معمل إطارات الديوانية

نبذة تاريخية عن محافظة الديوانية (القادسية):

سميت بالقادسية تيمناً باسم معركة القادسية التي دارت بين العرب المسلمين وجيش الفرس في موقع كان يسمى القادسية، وقد انتصر فيها العرب وهزم الأعداء. وبعد تشكيل الحكومة العراقية في آب (١٩٢١) اطلق عليها (لواء الديوانية)، وبعد صدور قانون المحافظات رقم (١٥٩) لسنة ١٩٦٩ استبدل الى اسم محافظة القادسية. ومن المدن التاريخية في المحافظة هي :

١- مدينة نُفر: تعد مدينة نُفر الاثرية من المدن العراقية القديمة المهمة التي اشتهرت بحضارتها العريقة عبر العصور السومرية والبابلية حتى نهاية العصر العباسي، وتعني باللغة السومرية (نبرو) وباللغة الاكدية (نيبور)، وهي مركز عبادة الاله السومري انليل (إله الهواء)، وتقع اطلالها اليوم على بعد (١٠) كم من مركز مدينة عفك (محافظة القادسية)، وعلى بعد (٣٥) كم الى الشمال الشرقي من مدينة الديوانية. ومن المعالم التاريخية الشاخصة لهذه المدينة زقورتها. التي عثر فيها على الكثير من الرقم الطينية المدونة بالخط المسماري وبشتى صنوف المعرفة .



زقورة نضر

٢- مدينة ايسن (ايشان البحريات): تقع بقاياها على بعد (٢٨) كم جنوب غربي مدينة نُفر، وتبعد حوالي (٢٤) كم جنوب مدينة عفك (محافظة القادسية). وهي من المدن العراقية القديمة وتعد من

مدن التماس الحضاري السومري – الاكدي، وكانت في بداية العصر البابلي القديم (٢٠٠٠ ق.م) مركز الاشعاع الحضاري والمحور السياسي لبلاد الرافدين، ومدينة ايسن ماهولة بالسكان وعثر فيها على الكثير من الرقم الطينية المدونة بالخط المسماري. وقد ترك لنا الملك الأموري لبت – عشتار قانوناً سبق قانون حمورابي بنحو قرنين من الزمن وقد دون باللغة السومرية وبقيت منه (٣٧) مادة قانونية واجزاء من المقدمة والخاتمة .



إله انليل



مسلة حمورابي



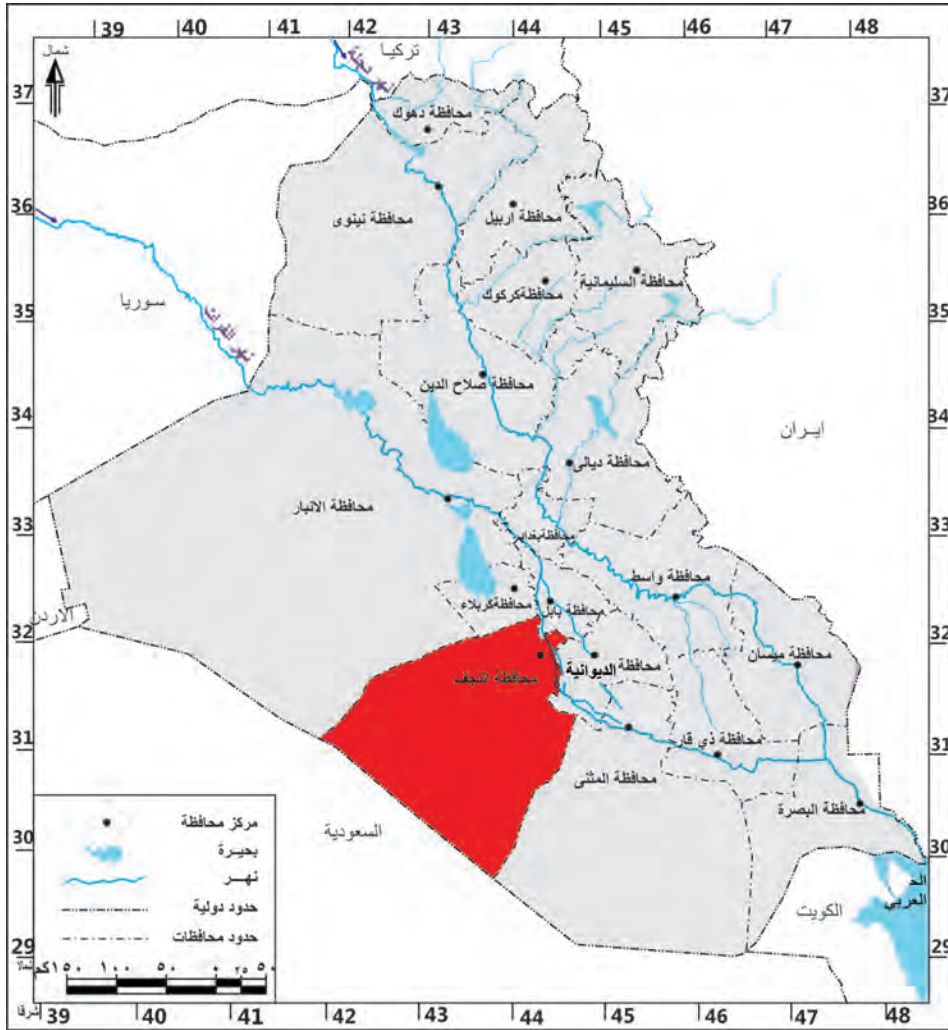
نشاط

- ١- تكلم عن المعالم الحضارية التي تشتهر بها محافظة الديوانية.
- ٢- تكلم عن أقدم القوانين في العراق التي سبقت قانون حمورابي.

محافظة النجف الأشرف

الموقع الجغرافي

تقع محافظة النجف في القسم الغربي من وطننا العراق تحدها من الشمال كل من محافظتي كربلاء والانباء ومن الشرق محافظة الديوانية ومن الجنوب محافظة المثنى اما حدودها من الغرب والجنوب الغربي فتعد جزءاً من الحدود الدولية بين العراق والسعودية لاحظ الخريطة رقم (١٨) .



خريطة رقم (١٨) الموقع الجغرافي لمحافظة النجف الاشرف

التضاريس :

تقع محافظة النجف بين منطقتي السهل الرسوبي والهضبة الغربية، إذ يضم السهل الرسوبي الاقسام الشمالية الشرقية منها ويشكل نسبة تصل الى قرابة (٥%) من مساحة المحافظة، ويتميز بالانبساط التام في معظم اقسامه اما الهضبة الغربية فتضم الاقسام الغربية والشمالية الغربية وتشكل (٩٥%) من مساحة المحافظة، إذ تتميز اراضيها بسيادة الكثبان الرملية والتلال التي تتميز بالارتفاع كلما اتجهنا غرباً.

المناخ :

تقع محافظة النجف ضمن نطاق المناخ الصحراوي الحار، الأمر الذي انعكس تأثيره على تحديد صفة المناخ السائد والذي تمثل بالمناخ الصحراوي الذي يتميز بشتاء ممطر وبصيف حار جاف أما من حيث كمية الامطار فتتباين في كميتها تبعاً لاختلاف تضاريسها، إذ تزداد كلما اتجهنا شمالاً وتقل إذ اتجهنا جنوباً و تتراوح كمياتها ما بين ٨٠-١٠٠ ملم.

السكان:

يبلغ عدد سكان محافظة النجف (١,٣٠٠,٠٠٠) نسمة بحسب التقديرات الإحصائية لعام (٢٠١٤).

طرق النقل والمواصلات :

تتميز محافظة النجف بوجود العديد من طرق النقل البرية التي تربطها بالمحافظات المجاورة ومن اهم تلك الطرق: (فقط للأطلاع)

- ١- طريق النجف – بغداد
 - ٢- طريق النجف – كربلاء
 - ٣- طريق النجف – الديوانية
 - ٤- طريق النجف – المثنى
 - ٥- طريق النجف – بابل
- كما تضم المحافظة مطارا يعرف باسم مطار النجف الدولي.

الموارد المائية:

لقد انعكس مناخ المحافظة الذي عُرف بقلة أمطاره على مصادر المياه التي اقتصرت على المياه السطحية المتمثلة بنهر الفرات وتفرعاته كشط الكوفة وشط العباسية المتفرع من شط الهندية، كما تعتمد المحافظة على مصادر المياه الجوفية، لاسيما في الاقسام الغربية من المحافظة.

النشاط الاقتصادي

الزراعة:

تتميز المحافظة بتنوع النشاط الزراعي، اذ تزرع فيها العديد من المحاصيل الزراعية يأتي في مقدمتها محاصيل الحبوب كالرز والقمح والشعير والمحاصيل الصناعية كالقطن والذرة وزهرة الشمس، فضلاً عن زراعة اشجار النخيل.

الصناعة:

تشتهر المحافظة بتوافر العديد من الصناعات فيها، ولاسيما الصناعات الانشائية التي تمثلت بمعمل اسمنت الكوفة وصناعة الالبسة الجاهزة والصناعات الغذائية والصناعات الجلدية وصناعة الاطارات .

نبذة تاريخية عن محافظة النجف الأشرف:

تقع مدينة النجف الاشرف في جنوب غرب العراق وغرب نهر الفرات، وهي جزء من منطقة الصحراء الغربية وتبعد (٨) كم عن مدينة الكوفة و(٦٠) كم من مدينة الحلة. كلمة النجف لفظ عربي جمعه (نجاف) ومعنى النجفة (التل) ولقبت بوادي السلام نسبة الى مقبرتها الكبرى و(الربوة) لارتفاع هضبتها، وكان يطلق على النجف في العصور القديمة اسم (بانقيا). وتضم مرقد الامام علي بن أبي طالب (أمير المؤمنين) (٢٣ ق.هـ - ٤٠ هـ) (عليه السلام) بقبته الذهبية الشاخصة والتي تضم (٧٧٧٧) طابوقة ذهبية وبمنارتيه المذهبتين التي تضم (٤٠٠٠) طابوقة ذهبية. ويحوي المرقد نفائس لاتقدر بثمن من هدايا الملوك والرؤساء والسلاطين . والنجف مدينة دينية علمية فيها مدارس وابنية عديدة يدرس فيها الفقه والنحو والتاريخ والادب، إذ توجد بها الحوزة العلمية التي درس بها الالاف من الطلبة كما ويؤمها الالاف من الزوار سنوياً. كما شيدت في المدينة محلة جديدة في العهد الملكي سميت بمحلة الغازية نسبة الى الملك غازي، كانت النجف قضاءً تابعاً للواء كربلاء سابقاً، ثم استحدثت كمحافظة في ١٩٧٦/١/٢٩ ومركزها مدينة النجف، ومن مدنها التاريخية:

١- مدينة الحيرة:

وهي مدينة تاريخية قديمة تقع على بعد (٥) كم عن جنوب غرب الكوفة، وهي عاصمة المناذرة وقاعدة حكمهم، ومن اشهر ملوكها عمرو بن عدي بن نصر، ومن اهم الاثار التاريخية الشاخصة فيها قصر السدير والخورنق، فضلاً عن وجود العديد من الكنائس والاديرة.




قصر الحيرة



مدينة الحيرة

٢- مدينة الكوفة :



مدينة الكوفة القديمة

وهي احدى مدن العالم الاسلامي التي أسسها المسلمون منذ بداية الفتح الاسلامي، تقع الى جوار مدينة الحيرة، بدأ العرب بتشييدها عام ١٧هـ/ ٦٣٨م على يد القائد سعد بن ابي وقاص. اصبحت عاصمة للخلافة الراشدية في عهد الخليفة الرابع الامام علي بن ابي طالب (عليه السلام)، إذ اتخذها عاصمة لخلافته سنة ٣٦هـ ، والمدينة مكونة من اربعة اقسام تتوسطها دار الامارة والمسجد الجامع.

سميت الكوفة بهذا الاسم لانها كانت ارض يختلط بها الحصى والرمل، وتقع بجانب مدينة الحيرة مركز الحضارة القديمة، واغلب سكانها من المسيحيين العراقيين الاوائل وكانت تنتشر فيها قبل الفتح الاسلامي الاديعة المسيحية.

ومن اهم المعالم التاريخية فيها مسجدها الشاخص له اربعة ابواب لكل ضلع باب اكبرها باب الفيل وهو المقابل للضلع القبلي لمقام الامام علي بن ابي طالب (عليه السلام) ومنبره، وقصر الأمانة الذي يقع في الواجهة الجنوبية من مسجد الكوفة، ومن الاحداث التي وقعت في الكوفة هي استشهاد الامام علي بن ابي طالب (عليه السلام) عام (٤٠هـ / ٦٦١م) متأثراً بجراحه في مسجد الكوفة ودفن في النجف الاشرف حسب وصيته، كما تضم مرقد دينية أخرى.



مرقد الامام علي ابن ابي طالب (عليه السلام)

نشاط اكتب بحثاً مصغراً لا يزيد عن صفحة واحدة تصف فيه اهم المعالم التاريخية والدينية في محافظة النجف الاشرف.

محافظة ميسان

الموقع الجغرافي

تقع محافظة ميسان في القسم الجنوبي الشرقي من وطننا العراق، تحدها من الشمال محافظة واسط ومن الجنوب محافظة البصرة ومن الغرب محافظة ذي قار اما من الشرق فتعد حدودها جزءاً من الحدود الدولية بين العراق وايران. لاحظ الخريطة رقم (١٩).



خريطة رقم (١٩) الموقع الجغرافي لمحافظة ميسان

التضاريس :

يعد سطح المحافظة جزءاً من منطقة السهل الرسوبي المنبسط في معظم اراضيها. اذ يتراوح ارتفاعها ما بين (٥-٢٠م) باستثناء الاقسام الشرقية التي تعد اكثر ارتفاعاً من غيرها، كما تتميز المحافظة بكثرة المنخفضات (الاهوار) وأهمها هور الحويزة والسعدية والسناف وعودة والاهوار الوسطى .

المناخ :

يعد مناخ المحافظة جزءاً من المناخ الصحراوي والذي يتصف بارتفاع درجات الحرارة والجفاف في الصيف واعتداله في فصل الشتاء، اما امطاره فتكون قليلة يقتصر سقوطها في فصل الشتاء وتتراوح كمياتها ما بين (٥٠ - ١٠٠) ملم.

السكان :

يبلغ عدد سكان محافظة ميسان قرابة (١,٠٠٠,٠٠٠) نسمة بحسب التقديرات الإحصائية لعام (٢٠١٤).



نشاط من ضمن اي قضاء تقع مدينتك؟

طرق النقل والمواصلات :

تضم محافظة ميسان شبكة من الطرق الرئيسية التي تربطها بالمحافظات المجاورة من خلال طرق برية عديدة اهمها: **(فقط للأطلاع)**

- ١- طريق العمارة – البصرة.
- ٢- طريق العمارة – بغداد.
- ٣- طريق العمارة – واسط.

الموارد المائية

يعد نهر دجلة وتفرعاته الشريان الحيوي لمحافظة ميسان، وتعد من اهم مصادر المياه السطحية في المحافظة وتعتمد عليها اغلب الانشطة الاقتصادية ويمكن تقسيم تلك المصادر على الاقسام الآتية:

- **نهر دجلة الرئيس:** يدخل المحافظة من جهتها الشمالية حتى مدخل مدينة العمارة .
- **جدول الكحلاء:** احد فروع نهر دجلة في مدينة العمارة.
- **جدول المشرح:** احد فروع نهر دجلة في مدينة العمارة يتفرع من الضفة اليسرى لجدول الكحلاء.
- **البتيرة:** احد فروع نهر دجلة يتفرع من جهة شمال مدينة العمارة .



سد العمارة

اما المشاريع الاروائية فهي الجداول المذكورة أعلاه، فضلاً عن المجر الكبير وهي من اهم المشاريع الاروائية في المحافظة ويطلق عليها تسمية جداول ري ميسان، اما مشاريع السيطرة فتتمثل بسدة العمارة.



شط الكوفة



هور الحويزة

نشاط

خذ خريطة صماء للعراق وحدد عليها السدود والمشاريع الاروائية في كل من:

- ١- محافظة الديوانية
- ٢- محافظة كربلاء
- ٣- محافظة ميسان

النشاط الاقتصادي

الزراعة:

تتميز المحافظة بتنوع النشاط الزراعي، اذ تزرع فيها العديد من المحاصيل الزراعية يأتي في مقدمتها محاصيل الحبوب كالقمح والشعير والمحاصيل الصناعية كالقطن والسهم وزهرة الشمس وقصب السكر.

الصناعة:

تشتهر المحافظة بتوافر العديد من الصناعات فيها، ولاسيما الصناعات الغذائية وصناعة الزيوت النباتية والورق والسكر والصناعات الكيماوية والتكرير.

الثروات المعدنية:

تشتهر محافظة ميسان بوجود العديد من الحقول النفطية اهمها حقول الفكة وابو غراب وبزركان.



حقل الفكة النفطي



معمل سكر ميسان

نبذة تاريخية عن محافظة ميسان:

كانت ميسان تعرف سابقاً بـ (الكرخا)، وهو باللغة السريانية ميسان اما في الفرثية مشن او ميشان، كما عرفت في اللغة الارامية بأسم مي اسن اي (ارض المستنقعات)، وهي في الاساس دولة ميسان التاريخية التي حكمها ٢٣ ملكاً استمر حكمهم من القرن الثاني والاول قبل الميلاد الى القرن الثاني الميلادي (الفترة الفرثية). ويسكن في المحافظة الكثير من الصابئة المندائيين وهم من السكان الاصليين.

اما في العصر الاسلامي فقد فتحها القائد عتبة بن غزوان في عهد الخليفة عمر بن الخطاب (رضي الله عنه)، وولى عليها النعمان بن عدي، وصارت ميسان من هذا العصر مركزاً لسك العملة القديمة ولاسيما في العهد الاموي. اما ميسان الحديثة فقد بناها الوالي (محمد باشا) عام ١٨٦١م عندما اراد ان يختار لحملة العسكرية مقراً فلم تقع عينه على افضل من هذا المكان الواقع بين نهري دجلة والكحلاء، فنزل الجيش في هذه المنطقة التي اطلق عليها اسم (الاوردي) وهي لفظة تركية تطلق على معسكر الجيش.



اما في العصر الحديث فقد سميت بـ (لواء العمارة) ايام الحكم العثماني ثم استبدل إلى (محافظة ميسان) في شهر نيسان عام (١٩٧٠) تيمناً باسم دولة ميسان العربية المعروفة في التاريخ.

ومن اهم الاثار الشاخصة في المدينة المسجد الكبير ومنارته التي شيدها عبد القادر الكولندي بعد بناء محلة القادرية بسنة واحدة وهي اول محلة أنشئت في هذه المدينة بعد سوق الباشا .

شكل حلقة نقاشية مع زملائك التلاميذ وتحدثوا عن اهم المعالم الحضارية في محافظة ميسان.

نشاط

محافظة ذي قار

الموقع الجغرافي

تقع محافظة ذي قار في القسم الجنوبي من وطننا العراق، تحدها من الشمال والشمال الغربي كل من محافظتي واسط والديوانية ومن الجنوب محافظة البصرة ومن الشرق محافظة ميسان، اما من الغرب فتحدها محافظة المثنى لاحظ الخريطة رقم (٢٠).



خريطة رقم (٢٠) الموقع الجغرافي لمحافظة ذي قار

نشاط

ماهي المحافظة التي تجاور محافظة ذي قار من جهة الجنوب؟

التضاريس :

يعد سطح المحافظة جزءاً من منطقة السهل الرسوبي الذي يتميز بالانبساط في معظم أقسامه، كما تتميز المحافظة بوجود المنخفضات والادوية في الأقسام الغربية منها.

المناخ :

تعد المحافظة جزءاً من المناخ الصحراوي الحار الذي يتصف بارتفاع درجات الحرارة في فصل الصيف واعتداله في الشتاء، اما امطاره فتكون قليلة ومتذبذبة تصل كمياتها الى اقل من ٧٥ ملم.

السكان:

يبلغ عدد سكان محافظة ذي قار قرابة (١,٩٥٠,٠٠٠) نسمة بحسب التقديرات الإحصائية لعام (٢٠١٤).

طرق النقل والمواصلات :

تضم محافظة ذي قار شبكة من الطرق الرئيسية التي تربطها بالمحافظات المجاورة من خلال طرق برية عديدة اهمها: **(فقط للأطلاع)**

- ١- طريق الناصرية – بغداد.
- ٢- طريق الناصرية – البصرة.
- ٣- طريق الناصرية – الكوت.
- ٤- طريق الناصرية – العمارة.
- ٥- طريق الناصرية – السماوة.

وتضم المحافظة ايضاً خطاً لسكة الحديد الذي يربط العاصمة بغداد بالمحافظات الجنوبية ويتمثل بخط بغداد – بابل – الديوانية – ذي قار – البصرة.

الموارد المائية



نهر الفرات في محافظة ذي قار



هور الحمار

يعد نهر الفرات الشريان الحيوي للمحافظة، اذ يدخل من جهتها الشمالية الغربية ماراً بمدينة الناصرية وسوق الشيوخ، ثم يتفرع بعدها الى فروع عدة ليجري في هور الحمار وهو احد الاهوار الكبرى في وطننا العراق، كما تتميز المحافظة بوجود اهوار أخرى تتوزع على مساحة كبيرة منها، ويتخذ نهر الفرات عند دخوله الى هور الحمار مجريين اثنين هما المجرى الشمالي والذي يلتقي بنهر دجلة في القرنة والمجرى الجنوبي الذي يتصل بشط العرب في كرمة علي.

النشاط الاقتصادي

الزراعة:

تتميز المحافظة بتنوع النشاط الزراعي، اذ تزرع فيها العديد من المحاصيل الزراعية يأتي في مقدمتها محاصيل الحبوب كالرز والقمح والشعير والمحاصيل الصناعية مثل زهرة الشمس والسمسم وقصب السكر.

الصناعة:

تشتهر المحافظة بتوافر العديد من الصناعات فيها، لاسيما الصناعات الكهربائية والغذائية والصناعات المعدنية والغزل والنسيج الصوفي .



مصنع الاسلاك الكهربائية في محافظة ذي قار

نبذة تاريخية عن محافظة ذي قار:

تقع محافظة ذي قار في الجزء الجنوبي من العراق، أسست عام (١٨٦٩)، وكانت تسمى في العهد العثماني بـ(لواء المنتفك)، وفي العهد الجمهوري (١٩٥٨) بـ(لواء الناصرية)، وبعد صدور قانون المحافظات رقم (١٥٩) لسنة ١٩٦٩ بدل أسماها إلى محافظة ذي قار، ومن اهم المدن التاريخية هي:

١- مدينة اور: وهي مدينة اثرية بيضوية الشكل تقع على بعد (٣٦٠) كم جنوب شرقي بغداد وعلى مسافة

(١٥) كم جنوب غربي مدينة الناصرية، وتعود اصل تسمية مدينة اور إلى العهد القديم بإسم اوريم وهو مشابه للتسمية السومرية (اوروكي).

لقد احتلت مدينة اور مكانة بارزة بين المدن السومرية في العراق القديم.

وتعد من اشهر المدن الاثرية في جنوب العراق، اذ كانت عاصمة لثلاث سلالات سومرية حكمت العراق. وكانت مركزاً للسومريين منذ الالف الثالث ق.م . وبلغت اوج عظمتها وازدهارها في عهد الملك

السومري اورنمو مؤسس سلالة اور الثالثة (٢١١٢-٢٠٠٤) ق.م . ويعد اورنمو مشرع اول قانون سومري وقد عرف بأسمه. وللمدينة سور كبير يوجد بداخله عدد من المعابد الكبيرة والصرح المدرج (الزقورة).



مدينة اور الاثرية القديمة



قصر الملك شولكي



زقورة الوركاء

والى الشرق من منطقة المعابد نشاهد مقبرة ضخمة تعود لعصر فجر السلالات الثالث قبل

٤٥٠٠ سنة، ضمت الفي قبر اغنتنا بموادها النادرة والثمينة وهي تغطي قاعات عدد من المتاحف داخل وخارج البلد ومنها القيثارة الذهبية والحلي الذهبية والفضية والحجر النفيس، ومن مدينة ذي قار ظهر نبي الله ابراهيم الخليل أبو الأنبياء (عليه السلام) عام (١٨٠٥ ق. م) لينشر الفكر التوحيدي الذي خرجت به الديانات الثلاث.

ومن اهم المدن الرئيسية فيها سوق الشيوخ وقد اسماها السومريون بأسم (سوق مارو) اي سوق الحكيم، وقد انشئت هذه المدينة على احدى التلال السومرية القديمة لتبادل البضائع المختلفة .

٢- مدينة لارسا (السنكرة):

تقع على بعد (٢٠) كم الى الجنوب الشرقي من مدينة الوركاء، وعلى بعد (٣٠) كم شمال غرب الناصرية. وقد اسسها الملك الاموري نبلائوم نهاية الالف الثالث ق.م. وظلت مدينة لارسا عاصمة لمملكة الاموريين تحكي قصة حضارة عراقية قديمة . وقد وصل حكمهم من بلاد سومر وغيلام واكد وحتى الخليج العربي. كما توجد مدن رئيسة أخرى في المحافظة منها أريدو ومدينة لكش.



القيثارة الذهبية



مدينة لارسا (السنكرة)



نشاط

خذ خريطة صماء للعراق وحدد عليها اهم المعالم والمواقع الحضارية في محافظة ذي قار.

محافظة المثنى

الموقع الجغرافي

تقع محافظة المثنى في القسم الجنوبي الغربي من وطننا العراق، تحدها من الشمال والشمال الغربي محافظتا الديوانية والنجف ومن الشرق محافظة ذي قار ومن الجنوب الشرقي محافظة البصرة، اما من الغرب والجنوب الغربي فتعد حدودها جزءاً من الحدود الدولية بين العراق والسعودية. لاحظ الخريطة رقم (٢١).



خريطة رقم (٢١) الموقع الجغرافي لمحافظة المثنى

التضاريس :

تقع المحافظة بين السهل الرسوبي والهضبة الغربية ويشغل السهل الرسوبي الأقسام الشرقية والشمالية الشرقية منها، وتتميز أراضيها بالانبساط التام، اما الهضبة الغربية والتي تشكل القسم الأكبر فتشغل باقي أقسام المحافظة لاسيما الغربية والجنوبية الغربية منها وتتميز بسيادة الكثبان الرملية والأودية والمنخفضات.

نشاط هل تجاور محافظة المثنى احدى الدول المجاورة للعراق حددها على الخريطة.

المناخ :

تقع المحافظة ضمن المناخ الصحراوي الحار الجاف الذي يتميز بارتفاع درجات الحرارة، ولاسيما خلال فصل الصيف واعتداله في فصل الشتاء اما أمطارها فتكون قليلة ومتذبذبة، إذ تكون كمياتها اقل من (٢٥) ملم .

السكان:

يبلغ عدد سكان محافظة المثنى قرابة (٧٥٠,٠٠٠) نسمة بحسب التقديرات الإحصائية لعام (٢٠١٤).

طرق النقل والمواصلات :

تضم محافظة المثنى شبكة من الطرق الرئيسية التي تربطها بالمحافظات المجاورة من خلال طرق برية عديدة اهمها: (فقط للأطلاع)

- ١- طريق المثنى – بغداد
- ٢- طريق المثنى – النجف
- ٣- طريق المثنى – القادسية
- ٤- طريق المثنى – ذي قار

الموارد المائية:

اقتصرت مصادر المياه في المحافظة على المياه السطحية، وتتمثل بنهر الفرات وتفرعاته كالسبيل والعطشان اللذان يعدان المصدر الرئيس لمختلف الأنشطة الاقتصادية، كما تتميز المحافظة بوجود المنخفضات والاهوار والبحيرات اهمها بحيرة ساوة ومنخفض الصليبات.



بحيرة ساوة



هور الصليبات

النشاط الاقتصادي

الزراعة:

تزرع في المحافظة العديد من المحاصيل الزراعية أهمها القمح والشعير والمحاصيل الصناعية كالسمسم وزهرة الشمس، فضلاً عن زراعة العديد من اشجار النخيل.



معمل اسمنت المثنى

الصناعة:

تشتهر المحافظة بالعديد من الصناعات فيها ولاسيما الصناعات الانشائية والتي تتمثل بـ بمعمل اسمنت السماوة، والصناعات الغذائية وصناعة التكرير.

نبذة تاريخية عن محافظة المثنى:

تعد المثنى من المناطق التي سكنها الانسان القديم منذ اقدم العصور التاريخية. وقيل ان معنى اسم السماوة هو الارض المستوية التي لاجر فيها، وربما جاء اسمها نسبة الى الشئ العالي، وفي ١٩٦٩/٦/٢٤ أصبحت تسمى لواء السماوة، وبعد صدور قانون المحافظات رقم ١٥٩ لسنة ١٩٦٩ أستحدثت كمحافظة، وسميت بالمثنى تيمناً بالقائد العربي المثنى بن حارث الشيباني.

ومن المدن التاريخية في المحافظة هي:

مدينة الوركاء: تعد من اشهر المدن السومرية في العراق القديم التي سكنها الناس منذ ستة الاف عام وحتى المدة السابقة للعصر الاسلامي، وتقع مدينة الوركاء الى الشرق من مدينة السماوة في محافظة المثنى بمسافة (٣٠) كم . كانت المدينة تقع في الماضي على نهر الفرات الذي تغير مجراه وابتعد حالياً حوالي (١٢) كم عنها .



الزقورة




الوركاء

وللمدينة سور دفاعي محصن يبلغ طوله (٥٩) كم تقريباً، وقد اكتسبت مدينة الوركاء اهمية خاصة بين مدن العراق القديم من الناحية العلمية والدينية، وهذا ماتوكده العديد من الرقم الطينية المكتشفة فيها والتي ترجع الى بداية عصر اختراع الكتابة قبل نحو خمسة الاف عام . وهي مركز عبادة الالهة اينانا (عشتار) والتي تمثل كوكب الزهرة .

وتشير النصوص المسمارية إلى ان كلكامش الملك السومري صاحب الاسطورة الشهيرة هو باني اول مراحلها قبل حوالي (٤٧٠٠) سنة مضت .
وقد اشتهرت مدينة الوركاء بمخططها الحضري الذي يشمل السور الخارجي والابراج والبوابات والمعابد وزقورتها التي يعود تاريخها لعهد الملك اورنمو مؤسس سلالة اور الثالثة قبل اربعة الاف عام .



مسلة اورنمو



الملك السومري كلكامش



نشاط

خذ خريطة صماء للعراق وحدد عليها اهم المواقع التاريخية في محافظة المثنى.



رقم طينية تمثل بداية عصر الكتابة

محافظة البصرة

الموقع الجغرافي

تقع محافظة البصرة في أقصى الجنوب الشرقي من وطننا العراق، وتعد ميناء العراق ومنفذه البحري الوحيد نظراً لوقوعها على الخليج العربي الذي أضفى لها أهمية اقتصادية وتجارية، تحدها من الشمال كلٌّ من محافظتي ميسان وذي قار، ومن الغرب محافظة المثنى ومن الجنوب الخليج العربي أما من الشرق فتعد حدودها جزءاً من الحدود الدولية بين العراق وإيران. لاحظ الخريطة رقم (٢٢).



خريطة رقم (٢٢) الموقع الجغرافي لمحافظة البصرة

نشاط هل تجاور محافظة البصرة احدى الدول المجاورة للعراق، حددها على الخريطة.

التضاريس :

تعد محافظة البصرة جزءاً من منطقة السهل الرسوبي الذي يتميز بانبساطه التام في معظم أقسام المحافظة الشمالية والشرقية، أما في الأقسام الغربية والجنوبية الغربية فتظهر بعض الأودية والتلال تتمثل بتل سنام.

المناخ :

يتصف مناخ محافظة البصرة بأنه جزء من المناخ الصحراوي الذي يتميز بارتفاع درجات الحرارة في فصل الصيف، إذ تصبح الأجواء مزعجة في حالة هبوب رياح رطبه من الخليج العربي اما امطاره فتكون قليلة ويقتصر سقوطها على فصل الشتاء وتتراوح معدلاتها بين (٨٠-١٢٠) ملم.

السكان:

يبلغ عدد سكان محافظة البصرة قرابة (٢,٧٠٠,٠٠٠) نسمة بحسب التقديرات الإحصائية لعام (٢٠١٤).

فكر وأجب

من ضمن اي قضاء تقع مدينتك؟

طرق النقل والمواصلات :

تضم محافظة البصرة شبكة من الطرق الرئيسية التي تربطها بالمحافظات المجاورة من خلال طرق برية عديدة اهمها: (فقط للأطلاع)

- ١- طريق البصرة- بغداد
- ٢- طريق البصرة - ميسان
- ٣- طريق البصرة - ذي قار
- ٤- طريق البصرة - المثنى

كما تضم المحافظة أيضا خط لسكة الحديد(بغداد - البصرة) مروراً بالمحافظات الجنوبية، فضلاً عن النقل الجوي الذي يتمثل بمطار البصرة ،وبحكم موقعها الحدودي مع ايران، تميزت بوجود العديد من المنافذ الحدودية بينهما والتي كان لها اهمية كبيرة في تشجيع حركة التبادل التجاري بين البلدين، فضلاً عن وجود العديد من الموانئ التي تنقل صادرات العراق وتستقبل وارداته التجارية والنفطية من والى جميع بلدان العالم، ومن اهم تلك الموانئ: (ميناء العميق، العمية، البصرة، الفاو).

الموارد المائية:

تضم محافظة البصرة العديد من موارد المياه السطحية، منها شط العرب الذي يتكون من التقاء نهري دجلة والفرات عند مدينة القرنة وكذلك وجود العديد من الاهوار الدائمة والموسمية أهمها: هور الحويزة والاهوار الوسطى.



شط العرب



الاهوار في محافظة البصرة

النشاط الاقتصادي الزراعة:

تتميز المحافظة بتنوع النشاط الزراعي اذ تزرع فيها العديد من المحاصيل الزراعية يأتي في مقدمتها محاصيل الحبوب كالقمح والشعير والمحاصيل الصناعية كالقطن والذرة فضلاً عن زراعة العديد من اشجار النخيل اذ تحتل المحافظة مراكز متقدمة في زراعة و انتاج التمور.



معمل الحديد والصلب

الصناعة:

تشتهر المحافظة بتوافر العديد من الصناعات فيها ولاسيما الصناعات الغذائية وصناعة الاسمدة والصناعات الانشائية والكيمياوية والبتروكيمياويات والحديد والصلب والصناعات الثقيلة والورق والتكرير الذي يتمثل بمصفي البصرة .

الثروات المعدنية:

تشتهر محافظة البصرة بوجود العديد من الحقول النفطية أهمها حقول الرميلة وحقول الزبير وارطاوي واللحيس.



ميناء العمية



مصفي البصرة

نبذة تاريخية عن محافظة البصرة:



الصرايف

تعد البصرة اول ولاية اسلامية خارج حدود الجزيرة. وكان لها شان كبير اذ كانت مركزاً ادارياً في الولايات الاسلامية.

وهي ذات ماضٍ عريق ولا تزال تتمتع بمنزلة مرموقة بموقعها الحيوي، والبصرة مدينة عراقية قديمة جاء اسمها من اللغة الارامية العراقية (بصريا) او (بصريا فا) وتعني منطقة الصرائف اي (البيوت المبنية من القصب والطين).

اسسها عتبة بن غزوان عام (١٤هـ) بامر من الخليفة الراشدي عمر بن الخطاب (رضي الله عنه). لتكون قاعدة ادارية وعسكرية للفتوحات الاسلامية في الشرق والخليج العربي. وقد بلغت المدينة اوج ازدهارها في العصر العباسي، إذ كانت هي وضاحتها الابلة مركز تجارة العرب البحرية التي بلغت الصين . كانت تسمى في السابق بـ (لواء البصرة) حتى صدور قانون المحافظات رقم (١٥٩) لسنة (١٩٦٩) استبدل الى اسم (محافظة البصرة).

نشاط

- ١- خذ خريطة صماء للعراق وحدد عليها محافظة البصرة كونها ميناء العراق ومنفذه البحري الوحيد على الخليج العربي.
- ٢- عدد محافظات العراق الجنوبية وحددها على الخريطة .

فكر وأجب

- ١- في اثناء تجوالك في مدينتك هل لاحظت بعض الاثار التاريخية القديمة؟ سجلها في دفترك.
- ٢- خذ خريطة صماء للعراق وحدد المحافظات التي يمر بها نهر الفرات.
- ٣- حدد على الخريطة المحافظات الآتية: البصرة، الناصرية، كربلاء المقدسة.
- ٤- خذ ورق شفاف وحدد عليه الحدود الخارجية لخريطة العراق ثم حدد جميع محافظات العراق على الخريطة.

أسئلة الوحدة الأولى

س ١: ضع علامة (✓) امام العبارة الصحيحة وعلامة (X) امام العبارة غير الصحيحة فيما يأتي:

- ١- تنتشر الهضاب في الاقسام الشمالية والشمالية الشرقية من العراق.
- ٢- تقع محافظة دهوك في اقصى جنوب وطننا العراق.
- ٣- يعد مناخ محافظة اربيل جزءاً من المناخ الصحراوي.
- ٤- يعد رافد الخابور اول الروافد المغذية لنهر دجلة.
- ٥- تل أسمر هو احد المعالم الحضارية لمحافظة ديالى.
- ٦- اطلق الاراميون تسمية الانبار على محافظة الانبار.
- ٧- الجسر العباسي هو احد الأماكن الاثرية في محافظة ميسان.
- ٨- يرتبط اسم محافظة صلاح الدين بالقائد صلاح الدين الايوبي.
- ٩- تعد الجنائن المعلقة احدى عجائب الدنيا السبع.
- ١٠- تعد تضاريس محافظة بابل جزءاً من منطقة الهضبة الغربية.
- ١١- تعد واسط اول مدينة اسست في العصر الأموي.
- ١٢- تعتبر محافظة الديوانية الجزء الجنوبي الأوسط من السهل الرسوبي.
- ١٣- تقع محافظة النجف في القسم الشرقي من وطننا العراق.
- ١٤- مدينة نفر احد المدن الاثرية لمحافظة السماوة.
- ١٥- تعد الوركاء من اشهر المدن السومرية، التي تقع الى الشرق من مدينة السماوة في محافظة المثنى.
- ١٦- تقع محافظة ميسان في القسم الجنوب الغربي من وطننا العراق.
- ١٧- البصرة من الولايات الإسلامية التي تقع خارج حدود الجزيرة.

س ٢: املاً الفراغات التالية بما يناسبها.

- ١- يعد مناخ محافظة دهوك جزءاً من مناخ ، اما اهم معالمها الحضارية و.....
- ٢- تقسم التضاريس في محافظة اربيل على قسمين رئيسيين هما و.....
- ٣- من اشهر جبال محافظة السليمانية جبال و..... ومن اهم مصايفها هي و.....

- ٤- تقسم تضاريس محافظة نينوى على ثلاثة اقسام هي و و
واهم معالمها و و و و
٥- كانت محافظة ديالى تسمى في العهدين العباسي والعثماني بـ
٦- تتكون تضاريس محافظة الانبار من ثلاثة اقسام هي و و
٧- ورد ذكر مدينة عنه في النصوص و ويعود تأريخها الى القرن
٨- تعد محافظة عاصمة جمهورية العراق، ومن اهم معالمها الحضارية
و و و
٩- وردت اقدم الاشارات عن محافظة بابل في العصر ومن اشهر ملوكها
و و ومن اهم مدنها مدينة ومدينة
١٠- قانون الملك الأموري سبق قانون حمورابي بنحو
١١- تعد مدينة تكريت مركز محافظة، وكلمة تكريت كلمة ويشتهر اهلهما
و
١٢- تحتوي محافظة واسط على العديد من الحقول النفطية اهمها و
١٣- تشمل الهضبة الغربية الاقسام و من محافظة النجف وتبلغ نسبتها
حوالي من مساحة المحافظة.
١٤- تقع محافظة المثنى في من العراق، ومن اهم مدنها
١٥- من اهم المدن الأثرية في محافظة الديوانية و
١٦- من اهم المدن الأثرية في محافظة ذي قار، مدينة ومدينة والتي اسسها
الملك الأموري
١٧- اسس مدينة البصرة القائد عام بأمر من الخليفة (رضي الله عنه).

س٣: انسب المشاريع التالية الى الانهار الرئيسية.

- سد دوكان - الزاب الأسفل - سد دربندخان - الخابور - نهر العظيم
- بحيرة حميرين - سد حديثة - الغراف - شط الدغارة - سدة الكوت
- شط الشامية - شط العباسية - سدة العمارة.

س٤: عرف ما يأتي:

- الجسر العباسي، الزاب الكبير، نمرود (كالح)، مدينة سامراء، سد حديثة، بورسبا، خان النخيلة
(خان الرابع)، مدينة .

- س ٥: تكلم عن اهم المراقد الدينية في محافظة كربلاء المقدسة.
- س ٦: عدد اهم المعالم الحضارية والدينية التي تشتهر بها محافظة بغداد.
- س ٧: تكلم عن محافظة كركوك تاريخياً وعن أهم المعالم الحضارية فيها.

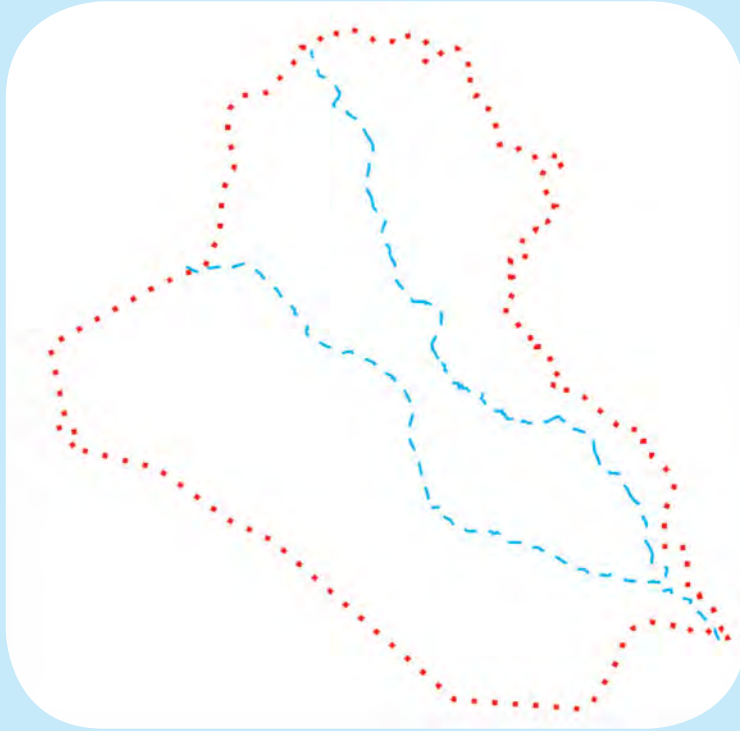
س ٨: تكلم عما يأتي:

- ١- الموارد المائية في محافظة السليمانية.
- ٢- الثروات المعدنية في محافظة نينوى
- ٣- الموارد المائية في محافظة كركوك.
- ٤- التضاريس في محافظة صلاح الدين.
- ٥- الصناعة في محافظة بغداد.
- ٦- الثروات المعدنية في محافظة البصرة.

س ٩: خذ خريطة صماء للعراق وحدد عليها المواقع الآتية:

- | | | | |
|------------------|--------------------|------------------|-------------------------------|
| ١- نهر دجلة | ٢- نهر الفرات | ٣- سدة الكوت | ٤- سدة الهندية |
| ٥- هور الحويزة | ٦- هور الحمار | ٧- سد ديالى | ٨- حقول النفط في محافظة كركوك |
| ٩- بحيرة الثرثار | ١٠- بحيرة الحبانية | ١١- الزاب الاعلى | ١٢- بحيرة حميرين. |

س ١٠ : صل النقاط في الشكل الاتي لتصل الى خريطة العراق. ثم لونها.



الوحدة الثانية

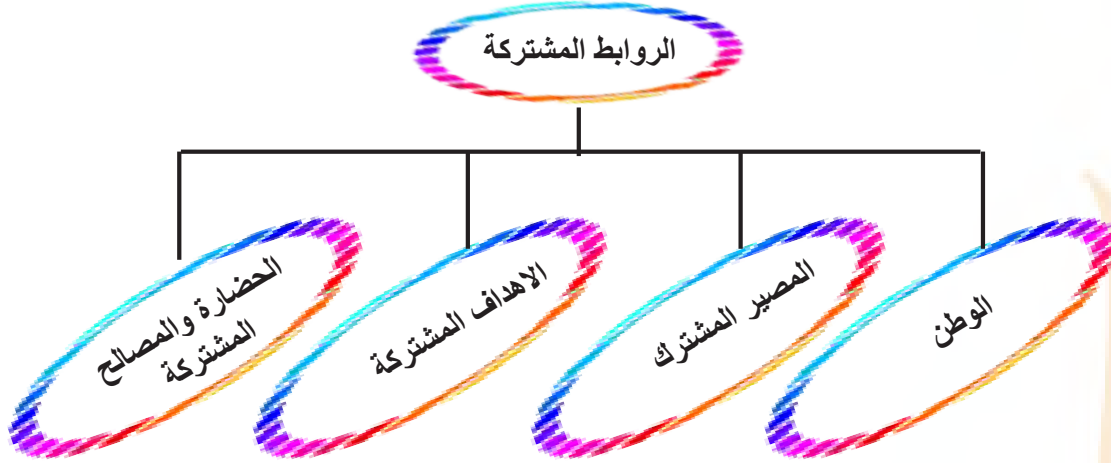
مجتمعنا العراقي (مفهومه، مكوناته، الروابط التاريخية والاجتماعية، القيم المدنية العراقية السامية، قضايا اجتماعية عامة

- بعد الانتهاء من دراسة هذه الوحدة سيكون التلميذ قادرا على أن :
- يتعرف إلى مفهوم المجتمع العراقي.
 - يفهم أهمية التنوع في مكونات المجتمع العراقي.
 - يتعرف إلى الروابط التاريخية والاجتماعية لمجتمعنا العراقي.
 - يفهم القيم المدنية العراقية السامية.
 - يتعرف إلى اهم ملوثات البيئة .
 - يتعرف إلى بعض القضايا الاجتماعية العامة في مجتمعنا العراق.

الترشيد في استهلاك المياه والطاقة
الكهربائية دليل على وعيك وحرصك
على بلدك

مجتمعنا العراقي اولاً: مفهوم المجتمع العراقي:

هو مجموعة من الافراد يعيشون على ارض العراق وتربطهم روابط تاريخية واجتماعية اصيلة. كما هو موضح في الشكل الاتي :



ويتألف مجتمعنا العراقي من قوميات متعددة عاشت على ارض العراق في سهوله وجباله واهواره وصحاريه منذ العصور القديمة وهم متساوون جميعاً في الحقوق والواجبات .

ثانياً: مكونات المجتمع العراقي :

١- **العرب:** ويقطنون اغلب محافظات العراق ويتميز العرب بآرثهم الاجتماعي والحضاري الاصيل فضلاً عن العادات والتقاليد العربية الاصيلية ، ويعيش هذا المكون بانسجام وتعاون مع المكونات الاخرى.



الزي العربي العراقي



زي كردي

٢- الأكراد: ولهم عادات وتقاليد اجتماعية مميزة نابعة من حضارة الشعب الكردي وتاريخه، ويقطنون في الاقسام الشمالية من وطننا العراق، فضلاً عن وجودهم في بعض محافظات وطننا الاخرى ويعيشون جنباً الى جنب مع اخوتهم من العرب وغيرهم من اطياف وطننا.



زي تركماني

٣- التركمان: ولهم موروث اجتماعي قديم يتعلق بعاداتهم وتقاليدهم الاجتماعية، ويقطنون في الاقسام الشمالية من العراق، ولاسيما في محافظة كركوك التي تشكل الغالبية العظمى من اعداد التركمان.



زي اشوري

٤- الكلدان والآشوريون والسريان والارمن: ويعدون من مكونات المجتمع العراقي وقد عاشوا على ارض الوطن منذ اقدم العصور واسهموا في صنع الحضارة العراقية العظيمة لاسيما (الاشورية والكلدانية).



الزي الايزيدي

٥- الايزيدية: يعد الايزيديون مكوناً من مكونات المجتمع العراقي وترجع تسميتهم نسبة الى ديانتهم الايزيدية وقد اندمجوا مع مكونات المجتمع العراقي منذ الازل كما اسهموا في الدفاع عن الوطن، ويتواجد اغلب هذا المكون في محافظتي نينوى ودهوك .



زي شبكي

٦- الشبك: وهو مكون نعتر بوجوده ضمن مكونات المجتمع العراقي، ويزداد تواجدهم في المحافظات الشمالية، لاسيما محافظة نينوى، وقد امتاز هذا المكون بعبادات وتقاليد مميزة عكست حبهم للتعايش السلمي مع جميع المكونات الأخرى، فضلاً عن وجود لغة خاصة بهم.



زي صابئي

٧- الصابئة: يعد هذا المكون من الطوائف الدينية القديمة في المجتمع العراقي، وتركزت منطقة سكنهم في الاغلب في محافظات وسط العراق وجنوبه بالقرب من الانهار، وذلك لاهميتها في معتقداتهم الدينية ، ولهم دور مهم في الدفاع عن الوطن .

ثالثا / الروابط التاريخية والاجتماعية للمجتمع العراقي

١- التنوع الثقافي:

يمتاز سكان وطننا بالتنوع الثقافي، اذ نجد ان لكل قومية وطائفة من ابناء وطننا لها تراثها الثقافي وهذا نابع من التنوع الذي ادى الى تعزيز روح الاخوة بين تلك القوميات وعلى الرغم من ذلك التنوع الا انهم متشابهون في وحدة الاصل التي تجمعهم وهو وطننا الذي نعيش عليه.

٢- العادات والتقاليد:

ان عادات وتقاليد العراقيين هي امتداد للعادات والتقاليد التاريخية فهم يحملون الصفات الفكرية والاخلاقية التي حملها اجدادهم وكلها نابعة من الدين الاسلامي او الاديان السماوية الاخرى. وعلى الرغم من التقسيمات الادارية لسكان وطننا الا انهم لم يختلفوا في عاداتهم وثقافتهم الاصلية، والتي لم تشكل عائقاً او حاجزاً في طريق وحدة الثقافة العراقية.



نشاط عدد بعض العادات والتقاليد الأخرى الخاصة بابناء وطننا العراق.

٣- اللغة والدين:

يمتاز سكان وطننا العراق بالتنوع اللغوي في جميع انحاءه فنجد هناك اللغة العربية واللغة الكردية والتركمانية والسريانية وغيرها من اللغات التي يتكلم بها ابناء وطننا، وقد نص دستور وطننا على احترام جميع الاديان والطوائف العراقية بكل انواعها وان دل على شيء فإنما يدل على احترام دستور وطننا لحقوق جميع اطياف المجتمع العراقي وحرياته.

٤- التاريخ المشترك:

ان تاريخ وطننا نابع من التاريخ الإسلامي و الاديان السماوية الاخرى، فنجدهم دائماً يقفون صفاً واحداً في مواجهة التحديات والاطار التي نواجهها اليوم، وهذا ما نجده واضحاً من خلال وقفة ابناء وطننا بجميع اطيافه في محاربة الإرهاب، اذ لم تقتصر محاربته على فئة او طائفة واحدة بل شارك الجميع ووقفوا صفاً واحداً في محاربته.

٥- التسامح ونبذ العنف:

تعد صفة التسامح من ابرز الصفات التي يتميز بها ابناء وطننا وبجميع اطيافه، اذ نجدهم يسعون الى التعايش السلمي مع الاخرين بكرامة وسلام بعيداً عن العنف ونبذ الخلافات والتحديات واعتماد ثقافة الحوار مع الاخرين واحترام الرأي الاخر واحترام العادات والتقاليد الاجتماعية والتاريخية التي تجمعهم.

رابعاً: حقوق المواطن العراقي: (انظر الشكل الاتي)



خامساً: القيم المدنية العراقية السامية:

ان المجتمع العراقي بمكوناته تربطهم روابط عديدة فضلاً عن الروابط المشتركة الاخرى، من اهمها :

١- احترام العمل :

العمل هو النشاط الذي يقوم به الانسان من اجل تحقيق هدف معين، والعمل هو اساس تقدم الامم والمجتمعات، وعن طريقه بنيت الحضارات البشرية، ويعد العمل واجباً على الإنسان، لأنه لولاه لما استطاع الإنسان العيش وتلبية احتياجاته من المأكل والمشرب والملبس، ولهذا احترم العراقيون بكل مكوناتهم العمل، وعملوا على تأديته بأمانة وإخلاص لأنه يمثل مصدر قوتهم وكرامتهم ، لذا اصبح العراقي يتحمل المسؤولية، و لديه مشاعر احترام الواجب والدفاع عن الحق، ولقد اهتمت جميع الدول بالعمل لأنه يبني مجتمعاً سليماً ويحقق لأفراده الامن الرفاهية والاستقرار.



فكر وأجب

- ١- ما المقصود بالعمل ؟
- ٢- لماذا يعد احترام العمل واجباً على الانسان ؟
- ٣- لماذا تهتم الدول بالعمل ؟

٢- الصدق:

هو قيمة عليا لا غنى عنها من أجل استمرار العلاقات الإنسانية الطيبة بين الناس، لذا أكدت عليه جميع الأديان السماوية وقد تمسك بها العراقيون على مر العصور، والصدق هو مطابقة القول للواقع. ولهُ عدة فوائد منها ينقي الإنسان من الضرر، ويحميه من المخاطر كما قيل (في الصدق النجاة)، ويبعده عن الصفات غير الجيدة مثل الكذب والغش.

فكر وأجب

- ١- ما المقصود بالصدق؟
- ٢- لماذا أكدت جميع الأديان السماوية أهمية الصدق؟
- ٣- لماذا توجب على الإنسان الالتزام بالصدق؟

٣- الأمانة :

وهي إحدى صور الوفاء والصدق عند الإنسان ، وتعني المحافظة على ممتلكات الناس وحفظ أسرارهم، وتعد الأمانة أحد أهم الصفات الجيدة والنبيلة التي عرفها المجتمع العراقي بكل أطيافه في مختلف أرجاء الوطن، إذ تعد الأمانة صفة محببة عند العراقيين منذ القدم ، وهناك أنواع عدة من الأمانة أهمها:

- ١- الأمانة في انجاز العمل. ٢- الأمانة في المحافظة على المال العام.
 - ٣- الأمانة في نقل الكلام. ٤- الأمانة في حفظ الاسرار.
- وعن طريق الأمانة يتعلم الإنسان:
- ١- المحافظة على الممتلكات الشخصية. ٢- المحافظة على ممتلكات الأسرة.
 - ٣- المحافظة على ممتلكات المدرسة. ٤- المحافظة على ممتلكات الناس.
 - ٥- المحافظة على ممتلكات الوطن .

فكر وأجب

- ١- ماذا يتعلم الإنسان من الأمانة؟
- ٢- اعط مثلاً عن الأمانة من حياتنا اليومية .

٤. التعاون :

يعني مساعدة الافراد بعضهم لبعض في مختلف جوانب الحياة ، والتعاون صفة اجتماعية جيدة لا يمكن الاستغناء عنها في اي جماعة او مجتمع ، لان الانسان غير قادر دائماً على انجاز اموره لوحده، بل يحتاج الى دعم الاخرين ومساندتهم، ولهذا اكدت جميع الاديان والحضارات البشرية على ارض وطننا العراق أهمية التعاون ودوره في تقوية العلاقات الاجتماعية بين الناس، اذ تتعاون مكونات المجتمع العراقي فيما بينها في البناء الاجتماعي والحضاري، اذ وقفوا جمعياً مدافعين عن هذا الوطن ازاء التحديات والإسهام في اعلاء شأنه ومكانته بين الدول .

وللتعاون فوائد عديدة في حياتنا الاجتماعية اهمها:

- ١- تقوية أواصر المحبة بين الناس.
- ٢- السرعة في انجاز العمل.
- ٣- تنظيم الوقت.
- ٤- زيادة التكاثر بين الناس.



فكر وأجب

- ١- عدد مجالات التعاون بين مكونات المجتمع العراقي .
- ٢- ماهي فوائد التعاون في حياتنا الاجتماعية ؟
- ٣- هل أكد الدين الإسلامي أهمية التعاون؟ اذكر بعض الآيات التي تدل على ذلك.

٥. الوفاء بالعهد:

ويعني ان يكون الانسان صادقاً في وعوده وعهوده مع الاخرين في القول والفعل، والوفاء بالعهد من القيم الاجتماعية والأخلاقية التي أكدت اهميتها الاديان السماوية والحضارات الانسانية المختلفة منذ آلاف السنين ، ولقد انتشرت صفة الوفاء بالعهد لدى ابناء حضارة وادي الرافدين ، بل ان العراقيين كانوا يتفاخرون بين الشعوب لان لديهم صفة الوفاء بالعهد ، وللوفاء بالعهد فوائد عدة أهمها، زيادة الثقة بين الأفراد ، تقوية أواصر التعاون في المجتمع ، طمأنينة الفرد واستقراره، انتشار الصدق ، وغيرها من الصفات الجيدة الاخرى .

فكر وأجب

- ١- ماذا نعني بالوفاء بالعهد ؟
- ٢- ماهي فوائد الوفاء بالعهد؟

٦. الايثار:

هو تقديم منفعة الآخرين مصلحتهم على منافعنا ومصالحنا، والإيثار من الصفات الحسنة وهو على عكس الانانية، ولقد اكدت الاديان السماوية كافة اهمية الايثار لأنه يدفع الانسان للتخلي عن حاجاته من اجل تلبية حاجة الاخرين، وتلك الصفة تميزت بها جميع مكونات المجتمع العراقي من أجل الوصول إلى أعلى درجات العدالة الاجتماعية فيما بينهم . وللإيثار فوائد عديدة منها:

- ١- يعلم الإنسان حب مساعدة الآخرين.
- ٢- يعلم الصبر.
- ٣- يزيد الالفة والمحبة بين الناس.
- ٤- يربي الانسان على الكرم.

فكر وأجب

- ١- ما المقصود بالإيثار ؟
- ٢- لماذا اكدت الاديان السماوية اهمية الايثار ؟
- ٣- اذكر اهم فوائد الايثار .

٧. الكرم :

هو ان يعطي الانسان من ممتلكاته الخاصة للآخرين من دون ان يحصل على مقابل ، والكرم صفة جيدة يتفاخر بها العراقيون دوماً، ولاسيما كرم الضيافة، لأن العراقيين منذ القدم يفرحون عندما يأتيهم ضيف ويسارعون الى تقديم كل ما عندهم اليه، وللكرم فوائد عدة اهمها : يزيد المودة والمحبة بين الناس، يعلم الانسان الصبر، يزيد احترام الفرد بين الناس، يرسخ الطمأنينة وراحة النفس عند الفرد، وعلى الرغم من ان الكرم صفة حسنة لكن يجب على الانسان ان يفرق بين الكرم والتبذير، لان التبذير يؤدي الى ضياع الوقت والجهد والمال .



فكر وأجب

- ١- ما المقصود بالكرم ؟
- ٢- بماذا كان يتفاخر العراقيون؟
- ٣- ماهي اهم فوائد الكرم؟

سادسا: قضايا اجتماعية عامة :

أ/ احترام القانون والنظام في المجتمع:

ان المجتمع هو مجموعة من الافراد يعيشون في مكان معين، وهؤلاء الافراد بحاجة الى تنظيم امورهم الحياتية بشكل يحمي حقوق الجميع ، ولقد وجد الانسان ان القوانين هي الطريقة المناسبة لتنظيم حياة الناس وحل الخلافات والمشكلات التي تحدث بينهم ، ومن اجل المحافظة على ارواحهم وممتلكاتهم، وللقوانين فوائد عدة اهمها:

- ١- تحقيق العدالة والمساواة بين الناس.
- ٢- المحافظة على الامن والاستقرار في المجتمع.
- ٣- حماية الممتلكات الخاصة والعامة، حماية حرية الفرد في المجتمع.
- ٤- تحقيق التقدم ومواكبة التطور في جميع مجالات الحياة.

ولهذا يجب على الانسان احترام القوانين والأنظمة في المجتمع الذي يعيش فيه، لان احترام القوانين يؤدي الى حماية حقوقه وحرية ، كما ان احترام القوانين يعبر عن وعي الانسان والتزامه بأخلاق وآداب المجتمع الذي يعيش فيه.



فكر وأجب

- ١- لماذا تعد القوانين هي الطريقة المناسبة لحياة الناس في المجتمع الذي يعيشون فيه ؟
- ٢- اذكر اهم فوائد القانون .
- ٣- لماذا يجب على الانسان احترام القوانين والأنظمة في المجتمع الذي يعيش فيه ؟

ب/ احترام الوقت وتنظيمه:

يعد الوقت من الامور المهمة لدى كل فرد ، لأنه يرتبط بمختلف جوانب حياة الانسان ، ولان اغلب الاشياء يمكن تعويضها إلا الوقت فهو يذهب ولا يعود ، وتسعى جميع المجتمعات الى تعليم افرادها كيفية تنظيم الوقت والاستفادة منه لتحقيق التقدم في مجالات الحياة كافة ، وتنظيم الانسان لوقته له فوائد عدة اهمها : انجاز الاعمال بدقة ، توفير الجهد ، تحقيق الفائدة والنجاح ، الشعور بالراحة والطمأنينة ، تحقيق التقدم والتطور للمجتمع الذي يعيش فيه ، وغيرها من الفوائد الاخرى، وكلما سعى الانسان إلى احترام وقته وتنظيمه كلما زاد احترامه وتقديره بين الناس ، لان تنظيم الوقت دليل وعي الانسان ودليل نجاحه في الحياة ، ويمكن ان نعرف مدى احترام الانسان للوقت عن طريق ما يأتي : التزامه بالمواعيد بدقة، الاستفادة من وقت الفراغ بأمر جيدة ، واحترامه اوقات الاخرين .

فكر وأجب

- ١- لماذا يعد الوقت من الامور الهامة لدى كل فرد ؟
- ٢- عدد فوائد تنظيم الانسان لوقته ؟
- ٣- كيف يمكن التعرف إلى مدى احترام الإنسان لوقته ؟
- ٤- اعط بعض الامثلة من حياتنا اليومية عن احترام الانسان للوقت.

ج / عدم الإسراف:

الإسراف يعني استعمال الأشياء بكثرة من دون حاجة إلى ذلك، مثل استعمال الماء بكثرة من أجل التنظيف او من أجل سقي المزروعات او غير ذلك، و يعد الاسراف من الصفات غير الجيدة والمضرة التي يجب على الانسان الابتعاد عنها، فالإسراف في الاكل يؤثر في صحة الانسان وقد يؤدي الى مرضه، والإسراف في استعمال الماء والكهرباء يحرم الآخرين منهما، والإسراف في اضاءة الوقت يحرم الانسان من الافادة منه ولا يمكن تعويض ذلك مطلقاً، والإسراف في استعمال المال وتبذيره يضر بالفرد والأسرة والمجتمع، وجوانب الاسراف في حياة الانسان عديدة منها: الاسراف في المأكل، والمشرب، والملبس، والمسكن، والكلام، والسهر، والنوم، والماء، والكهرباء، والمال، والوقت، وغير ذلك من الجوانب الاخرى .



فكر وأجب

- ١- ما المقصود بالإسراف ؟
- ٢- لماذا يعد الاسراف من الامور المضرة بالفرد والمجتمع ؟
- ٣- عدد اهم جوانب الإسراف في حياة الانسان .

د/ المحافظة على البيئة وحمايتها :

بيئة الانسان هي المكان الذي يعيش فيه، وعناصر البيئة هي الارض والهواء والماء، اما انواع البيئة التي يعيش فيها الانسان فهي عديدة اهمها: بيئة البيت، بيئة المدرسة، بيئة المحلة، وبيئة الاماكن العامة، ونظراً لأهمية البيئة في حياة الانسان كونها مصدر صحته ورزقه وسعادته وجبت على كل إنسان المحافظة على نظافة البيئة والمكان الذي يعيش فيه، وهناك طرائق عدة للمحافظة على البيئة وحمايتها أهمها:

- 1- عدم قطع الاشجار والأزهار والنباتات وعدم الاضرار بها لأنها تحمي الانسان من الحر ومن البرد ومن الغبار فضلاً عن جمالها وفوائدها العديدة الاخرى.
- 2- المحافظة على نظافة البيئة سواء كانت بيئة الاسرة او المدرسة او الاماكن العامة وعدم رمي النفايات او المخلفات إلا في الأماكن المخصصة لذلك.
- 3- المحافظة على الماء وحمايته من التلوث وذلك عن طريق حماية البحار والانهار ومصادر المياه من النفايات والمخلفات المضرّة بصحة الانسان.
- 4- المحافظة على الهواء النقي وذلك عن طريق الابتعاد عن كل ما يضر بالهواء مثل اشعال النيران لغرض اللهو او حرق النفايات في الاماكن العامة.

فكر وأجب

- 1- ما المقصود بالبيئة؟ وما عناصرها؟
- 2- ما انواع البيئة التي يعيش فيها الإنسان؟ ولماذا تعد البيئة مهمة لحياة الانسان؟
- 3- عدد طرق المحافظة على البيئة وحمايتها .



هـ / المحافظة على الممتلكات العامة:

نعني بالممتلكات العامة جميع الممتلكات العائدة للدولة والمجتمع ، وهي ليست ملكاً لأحد وإنما هي ملك لجميع المواطنين الذين يعيشون على ارض الوطن ، ولهذا تعد المحافظة على الممتلكات العامة واجب وطني على كل فرد، وهي واجب ديني ايضاً، اذ ان جميع الاديان لاتحترم الاعتداء على الممتلكات العامة او تخريبها والعبث بها او سرقتها، لان هذه الممتلكات وجدت من اجل خدمة جميع الناس، وتعد جميع ابنية المؤسسات والدوائر الحكومية وأثاثها وأجهزتها من الممتلكات العامة مثل: (المستشفيات العامة، والمدارس والمعاهد والجامعات، والشوارع والطرق والجسور، والحدائق والمتنزهات العامة وغيرها).

ان المحافظة على الممتلكات العامة صفة من صفات المجتمعات المتقدمة ، وهي دليل على وعي المواطن ودليل امانته وحرصه وإخلاصه للوطن ، ولهذا تقوم جميع الدول بتوجيه مواطنيها إلى ضرورة المحافظة على الممتلكات العامة والامتناع عن الإضرار بها .



فكر وأجب

- ١- ما المقصود بالممتلكات العامة ؟ وضح ذلك مع الامثلة .
- ٢- لماذا تعد المحافظة على الممتلكات العامة واجب ديني ووطني ؟
- ٣- لماذا تقوم المجتمعات بتوجيه مواطنيها إلى ضرورة المحافظة على الممتلكات العامة؟

اسئلة الوحدة الثانية

س ١: ضع علامة (✓) امام العبارة الصحيحة وعلامة (X) امام العبارة غير الصحيحة فيما يأتي.

- ١- يتألف مجتمعنا العراقي من قوميات متعددة.
- ٢- يتركز الشبك في محافظات وسط وطننا العراق وجنوبه ولاسيما في محافظة البصرة.
- ٣- يتركز الصابئة في محافظات وسط وجنوب العراق بالقرب من الانهار.
- ٤- تعد صفة التسامح من ابرز الصفات التي يتميز بها ابناء وطننا وبجميع اطرافه.

س ٢: املا الفراغات الآتية:

- ١- من الروابط التاريخية والاجتماعية للمجتمع العراقي و..... و.....
- ٢- الأسراف يعني
- ٣- من الطرق الواجب اتباعها للمحافظة على البيئة و..... و.....
- ٤- ان العادات والتقاليد الخاصة بأبناء وطننا العراق هي
- ٥- يتركز الصابئة بالقرب من الانهار وذلك

س ٣: عرف ما يأتي:

المجتمع العراقي الايزيدية الصدق التعاون

س ٤: ارسم مخططاً يوضح حقوق وواجبات المواطن العراقي.

س ٥: تكلم عن:

١- احترام القانون والنظام في المجتمع

٢- التسامح ٣- احترام الوقت وتنظيمه

الفهرست

٣	المقدمة
٤	الوحدة الاولى: محافظات وطننا العراق جغرافياً وتاريخياً
٩-٥	وطننا العراق
١٤-١٠	محافظه دهوك
١٩-١٥	محافظه اربيل
٢٤-٢٠	محافظه السليمانية
٣٢-٢٥	محافظه نينوى
٣٧-٣٣	محافظه كركوك
٤٤-٣٨	محافظه صلاح الدين
٥٠-٤٥	محافظه ديالى
٥٧-٥١	محافظه بغداد
٦٣-٥٨	محافظه الانبار
٦٧-٦٤	محافظه واسط
٧٢-٦٨	محافظه بابل
٧٦-٧٣	محافظه كربلاء
٨١-٧٧	محافظه الديوانية
٨٥-٨٢	محافظه النجف
٨٩-٨٦	محافظه ميسان
٩٣-٩٠	محافظه ذي قار
٩٧-٩٤	محافظه المثنى
١٠١-٩٨	محافظه البصرة
١٠٤-١٠٢	أسئلة الوحدة الأولى
١٠٥	الوحدة الثانية: مجتمعنا العراقي
١٠٦	مجتمعنا العراقي
١٠٨-١٠٦	مكونات المجتمع العراقي
١٠٩-١٠٨	الروابط التاريخية والاجتماعية للمجتمع العراقي
١٠٩	حقوق المواطن العراقي
١١٤-١١٠	القيم المدنية العراقية السامية
١١٨-١١٤	قضايا اجتماعية عامة
١١٩	الاسئلة الوحدة الثانية
١٢٠	الفهرست